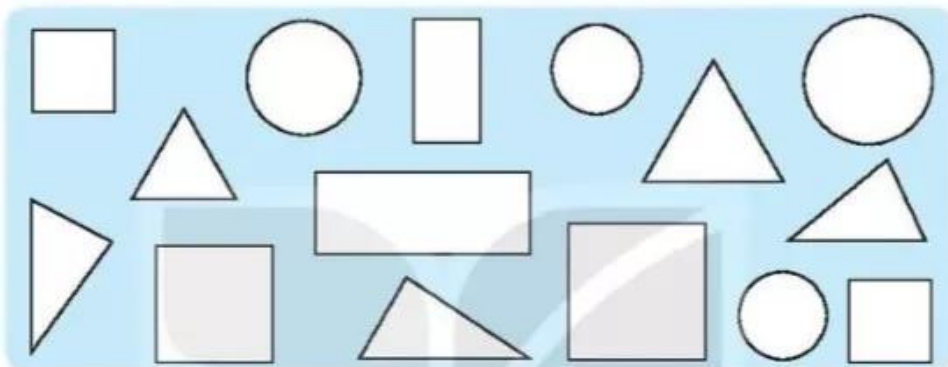


# BÀI 19

## ÔN TẬP HÌNH HỌC

- 1 a) Tô màu đỏ vào hình vuông, màu xanh vào hình tam giác, màu vàng vào hình tròn, màu nâu vào hình chữ nhật.



- b) Mỗi loại có bao nhiêu hình? Viết số thích hợp vào ô trống.

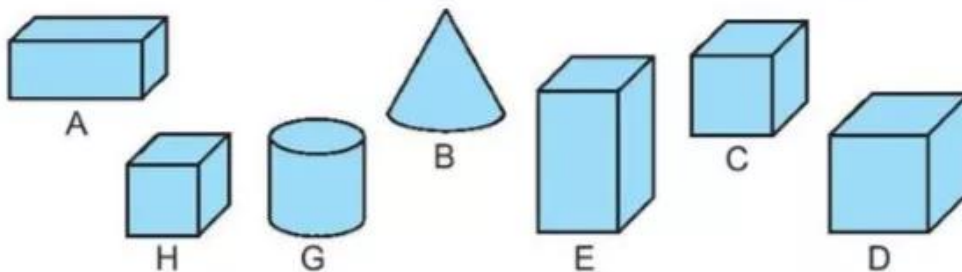
Hình vuông	Hình tam giác	Hình tròn	Hình chữ nhật

- c) Viết tiếp vào chỗ chấm.

Hình có nhiều nhất là: .....

Hình có ít nhất là: .....

- 2 Khoanh vào các chữ đặt dưới hình không phải là khối lập phương.

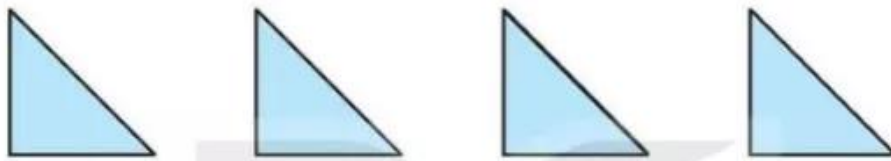


3 Khoanh vào chữ đặt trước câu trả lời đúng.

Hình xếp vào dấu "?" là hình nào?



4 Cho 4 hình tam giác như hình dưới đây:

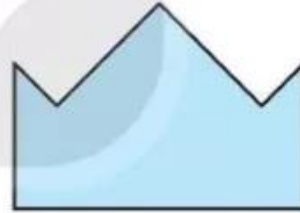


Em hãy xếp thành mỗi hình sau:

a)

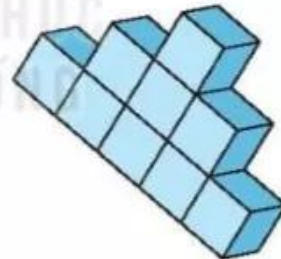


b)

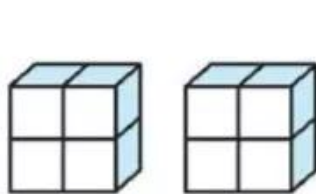


5 Khoanh vào chữ đặt trước câu trả lời đúng.

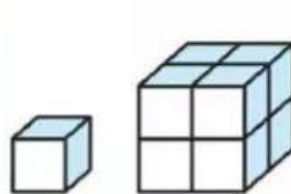
Với các khối lập phương nhỏ bằng nhau lấy ra từ hình H, xếp được hai khối lập phương. Hai khối đó là:



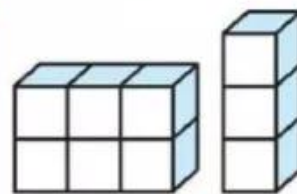
Hình H



A.



B.



C.