

# BÀI 20

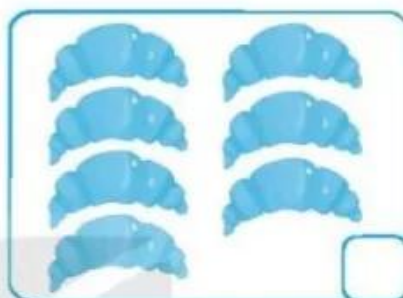
## ÔN TẬP CHUNG

1 ✎ Viết số thích hợp vào ô trống.

a)




b)



c)



d)



2 ✎ Viết các số 6, 4, 7, 10 theo thứ tự từ bé đến lớn.



3 ✎



a) Tô màu xanh vào áo ghi số lớn nhất.

b) Tô màu đỏ vào áo ghi số bé nhất.

4 Số ?

$7 - 4 = \square$

$3 + 2 = \square$

$6 - 5 = \square$

$6 + 0 = \square$

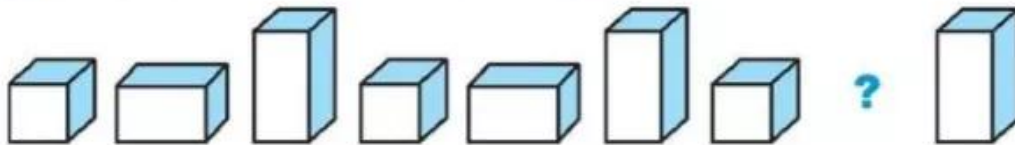
$8 - 5 = \square$

$4 - 0 = \square$

5 Viết phép tính thích hợp.



6 Khoanh vào chữ đặt trước câu trả lời đúng.



Hình đặt vào dấu "?" là:

