

BÀI
4

SO SÁNH SỐ

Tiết 1

1 ✎ Viết vào ô trống (theo mẫu).



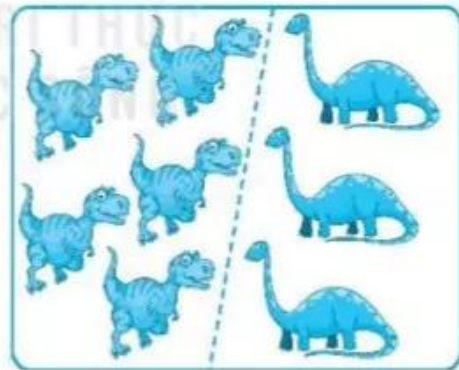
9 > 7



○



○



○

2 ✎ Viết vào ô trống (theo mẫu).

10 > 8

8 6

6 4

4 2


3 ✎ Vẽ thêm chấm tròn rồi viết số thích hợp vào ô trống (theo mẫu).



$$\boxed{5} > 4$$



$$3 > \boxed{}$$

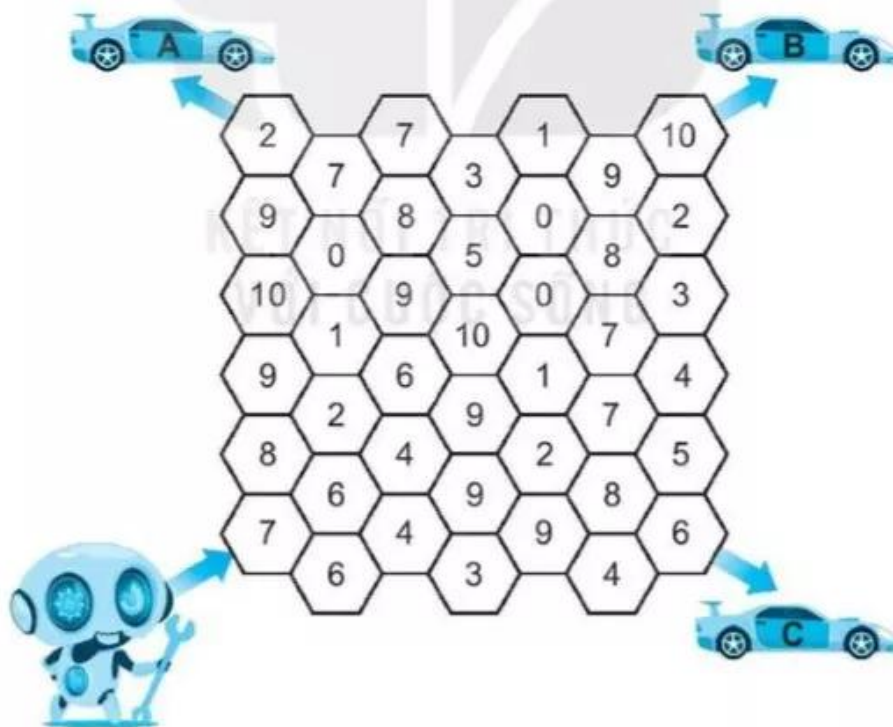


$$\boxed{} > 2$$




$$6 > \boxed{}$$

4 ✎ Hãy giúp rô-bốt tìm đường đến chiếc xe của mình bằng cách tô màu vào các ô có số lớn hơn 6.




Tiết 2


1) Viết vào ô trống (theo mẫu).



$$\boxed{5} < \boxed{6}$$



$$\boxed{} \bigcirc \boxed{}$$

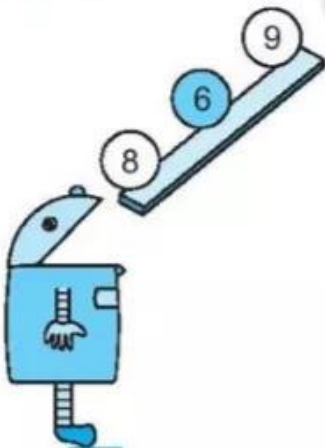


$$\boxed{} \bigcirc \boxed{}$$

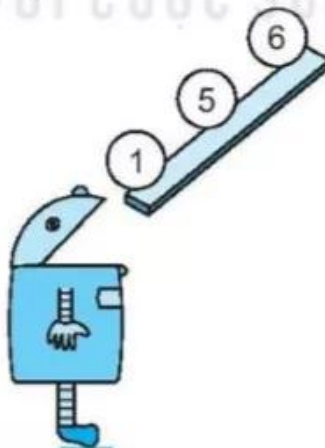


$$\boxed{} \bigcirc \boxed{}$$

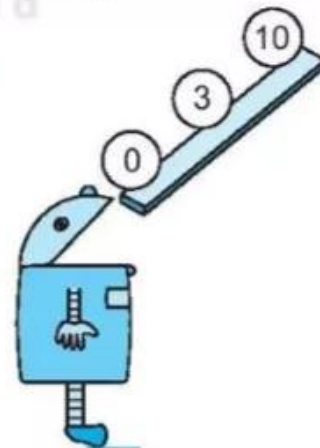
2) Tô màu vào quả bóng có số thích hợp (theo mẫu).



a) $\boxed{} < 7$



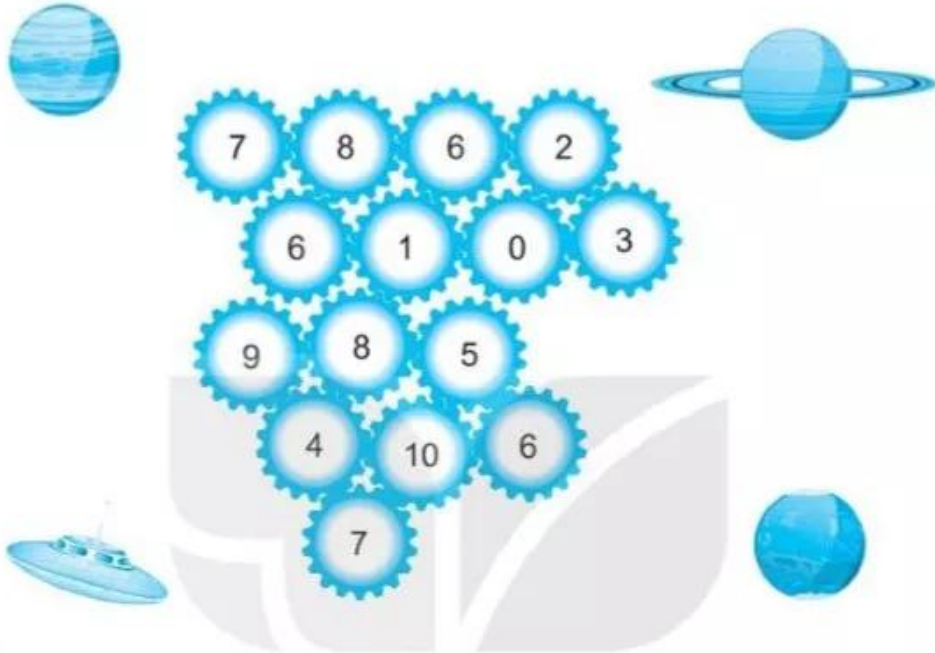
b) $\boxed{} < 5$



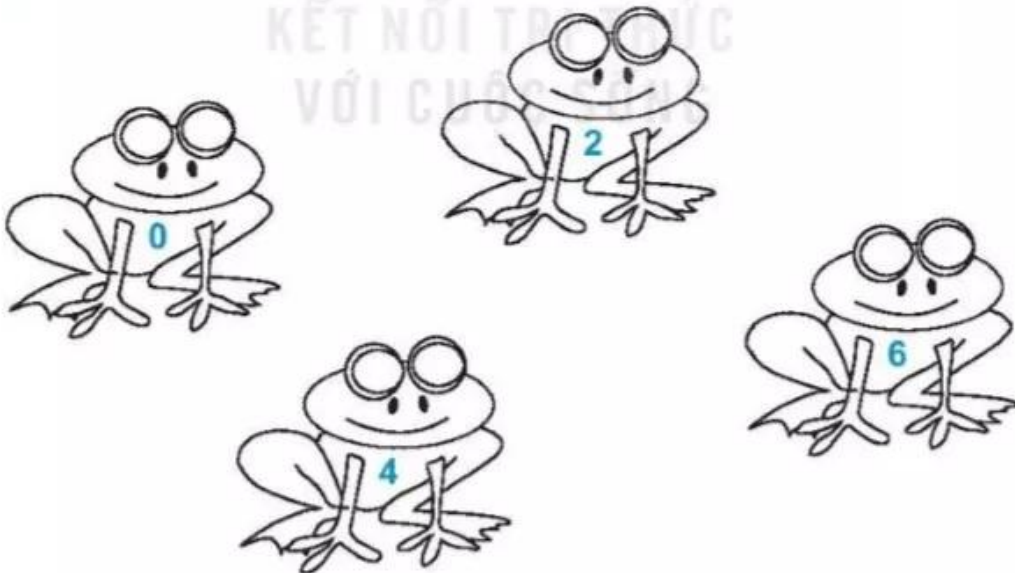
c) $4 < \boxed{}$

3 Tô màu đỏ vào các ô có số bé hơn 5.

Tô màu vàng vào các ô có số lớn hơn 5.











4 Tô màu cho chú ếch ghi số vừa bé hơn 5 vừa lớn hơn 3.



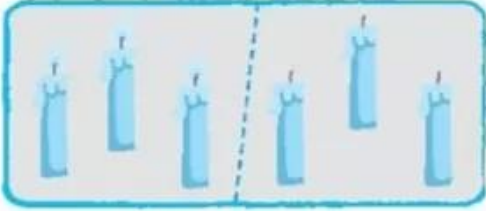



Tiết 3

1 Nói và viết (theo mẫu).

		<input type="checkbox"/> ○ <input type="checkbox"/>
		<input type="checkbox"/> 3 = 3 <input type="checkbox"/>
		<input type="checkbox"/> ○ <input type="checkbox"/>
		<input type="checkbox"/> ○ <input type="checkbox"/>

2 Viết vào ô trống (theo mẫu).

	
<input type="checkbox"/> 5 = 5 <input type="checkbox"/>	<input type="checkbox"/> ○ <input type="checkbox"/>
	
<input type="checkbox"/> ○ <input type="checkbox"/>	<input type="checkbox"/> ○ <input type="checkbox"/>

- 3 Tô màu xanh và nâu cho các chú tôm sao cho số tôm màu xanh bằng số tôm màu nâu.



- 4 Tô màu vào hòn đảo có số thuyền, số cây dừa và số con khỉ bằng nhau.



Tiết 4

1 Viết vào ô trống (theo mẫu).

a)



$$3 < 5$$



$$\square \bigcirc \square$$




$$\square \bigcirc \square$$




$$\square \bigcirc \square$$


b)



$$\square \bigcirc \square$$



$$\square \bigcirc \square$$



$$\square \bigcirc \square$$



$$\square \bigcirc \square$$

- 2 Có 5 con khỉ, mỗi con khỉ cần có một cây dừa. Em hãy tô màu vào hòn đảo có vừa đủ cây dừa cho khỉ (không thừa, không thiếu).



- 3 Khoanh vào chữ đặt dưới con khỉ có nhiều quả dừa nhất.



A



B



C