

BÀI 6

LUYỆN TẬP CHUNG

Tiết 1

1 Nói số với bức tranh thích hợp (theo mẫu).

The exercise consists of six rectangular boxes arranged in a 3x2 grid. The top-left box contains 1 bird. The top-right box contains 4 birds. The middle-left box contains 5 birds. The middle-right box contains 2 birds. The bottom-left box is empty. The bottom-right box contains 3 birds. In the center of the grid is a circle containing the numbers 0, 1, 2, 3, 4, and 5. A line connects the top-left box (1 bird) to the number 1 in the central circle.

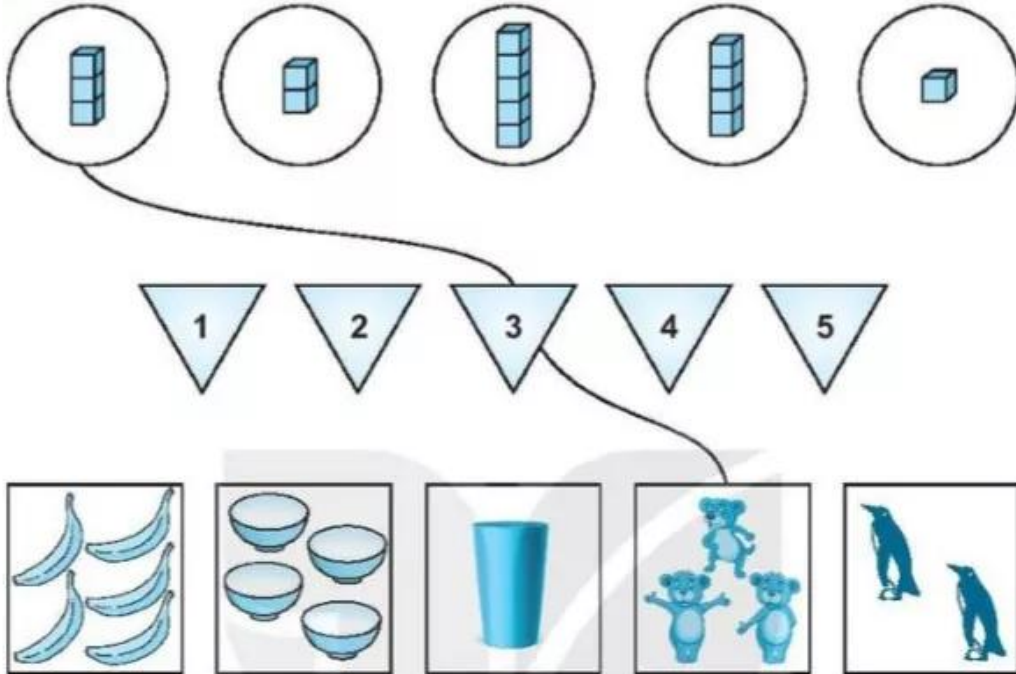
2 Viết tiếp vào chỗ chấm.

Trong hình bên, em nhìn thấy các số:

2,




3 Nói (theo mẫu).




4 Tô bức tranh theo mã màu cho trước.

- 1: màu vàng
- 2: màu nâu
- 3: màu xanh da trời
- 4: màu xanh lá cây
- 5: màu đỏ

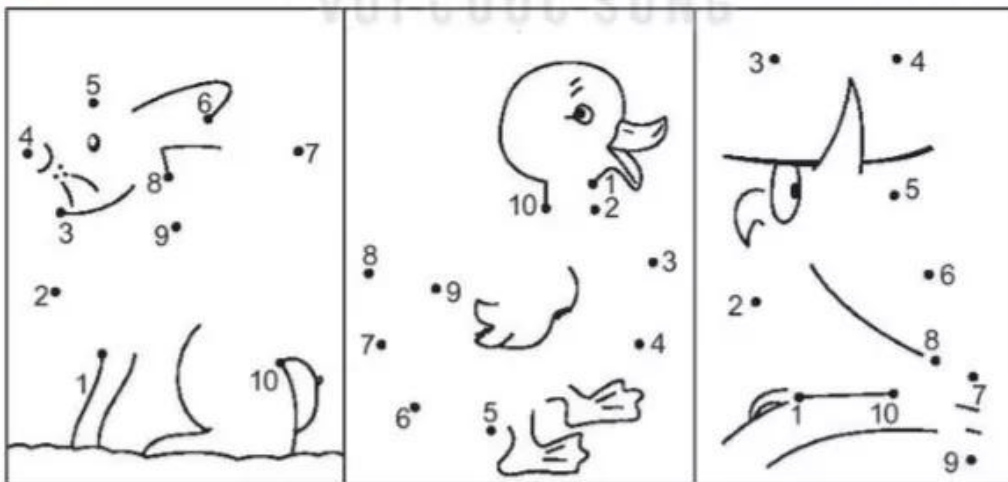


Tiết 2

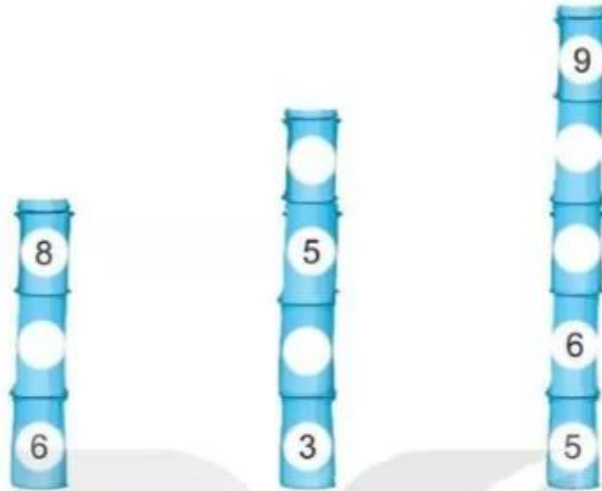
1 Vẽ thêm các cánh hoa để số cánh hoa bằng số ghi ở nhụy hoa (theo mẫu).



2 Nói các số theo thứ tự từ bé đến lớn để tìm ra bức tranh rồi tô màu.



3 ✎ Viết số thích hợp vào đốt tre còn trống.



4 ✎ Quan sát tranh, đếm rồi viết số thích hợp vào ô trống.



Tiết 3

1 >, <, = ?

$3 \square 5$

$7 \square 7$

$5 \square 9$

$6 \square 4$

$8 \square 10$

$3 \square 3$

$8 \square 8$

$4 \square 2$

$9 \square 6$

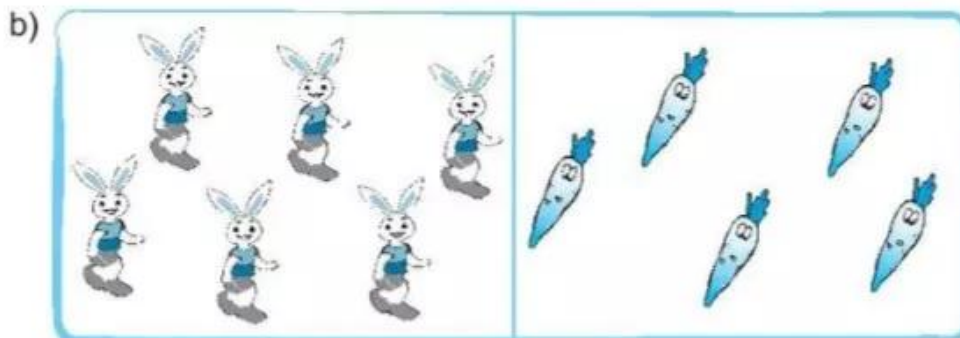
2 Khoanh vào chữ đặt trước câu trả lời đúng.

Mỗi con thỏ ăn một củ cà rốt. Có đủ cà rốt cho thỏ không?



A. Đủ




B. Không đủ



A. Đủ

B. Không đủ

3 a) Tô màu vào bông hoa có nhiều cánh hoa nhất.



b) Khoanh vào chữ đặt dưới câu trả lời đúng.
Cành cây nào có ít quả nhất?



4 Tô màu vào cây có 4 bông hoa và 6 chiếc lá.



Tiết 4

1 Tô màu xanh hoặc đỏ vào mỗi quả táo sao cho:

a) Số quả táo màu xanh nhiều hơn số quả táo màu đỏ.



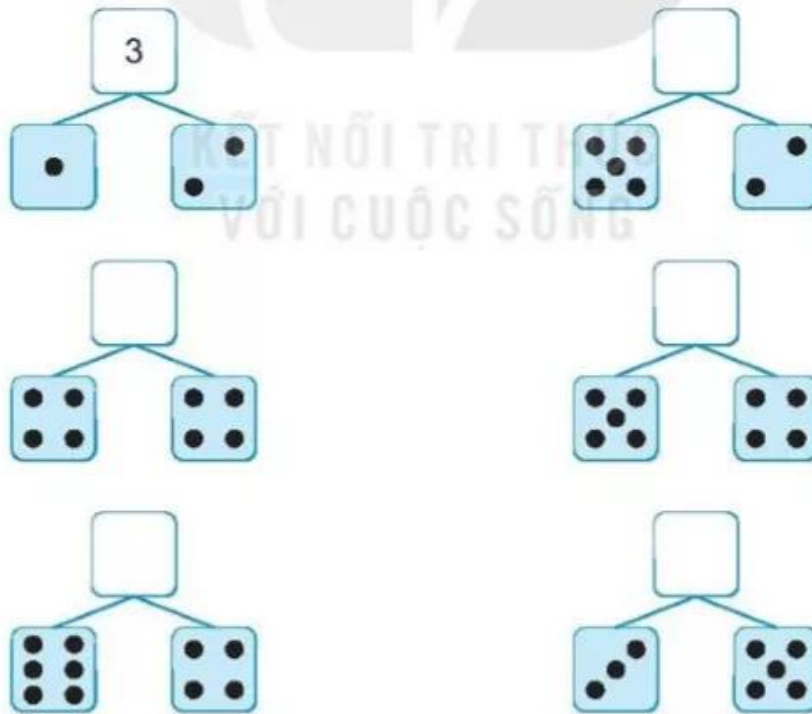
b) Số quả táo màu xanh ít hơn số quả táo màu đỏ.



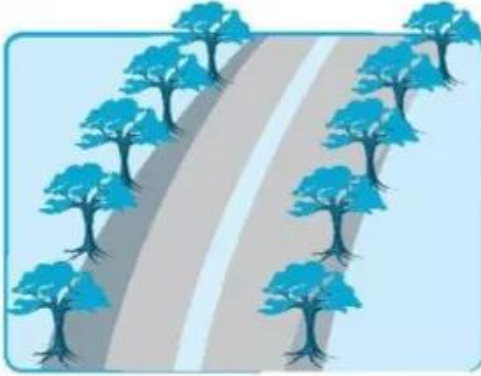
c) Số quả táo màu xanh bằng số quả táo màu đỏ.



2 Viết số thích hợp vào ô trống (theo mẫu).



3 ✎ Viết số thích hợp vào ô trống.



10 gồm và



10 gồm và



9 gồm và



9 gồm và

4 ✎ Nói (theo mẫu).

