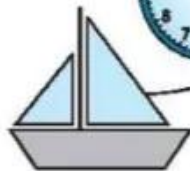


BÀI 7

HÌNH VUÔNG, HÌNH TRÒN, HÌNH TAM GIÁC, HÌNH CHỮ NHẬT

Tiết 1

1 Nói (theo mẫu).



Hình tròn



Hình chữ nhật



Hình tam giác



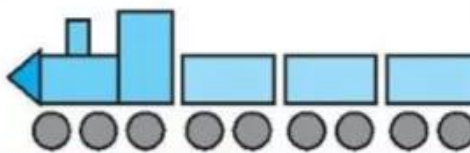
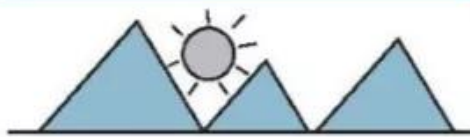
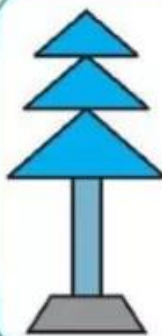
Hình vuông




2 Viết số thích hợp
vào ô trống.

Trong hình bên có:

- a) hình tròn.
- b) hình tam giác.
- c) hình chữ nhật.



- 3 a) Tô màu đỏ vào hình tròn, màu vàng vào hình vuông, màu xanh vào hình tam giác, màu nâu vào hình chữ nhật.



b) Viết tiếp vào chỗ chấm cho thích hợp.

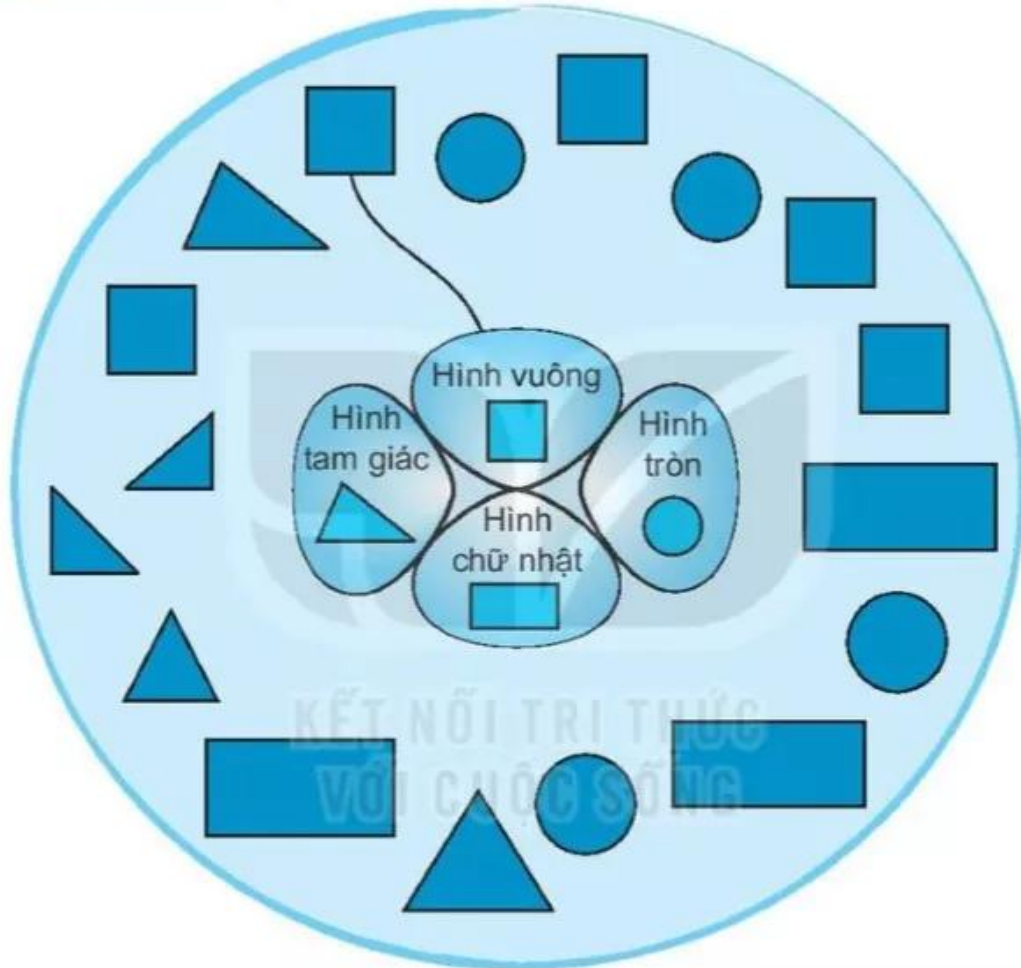
Trong các hình ở câu a:

– Màu có số hình được tô nhiều nhất là màu

– Màu có số hình được tô ít nhất là màu

Tiết 2

1 Nói (theo mẫu).

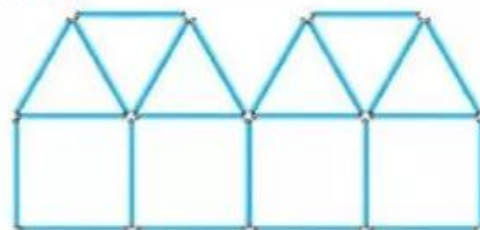


2 Các que tính được xếp thành hình H.

Viết số thích hợp vào ô trống.

Trong hình H có:

- hình tam giác.
- hình vuông.



Hình H

3 Em quan sát mỗi bức tranh rồi viết số thích hợp vào bảng.

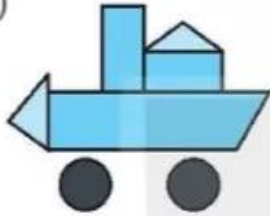
a)



b)



c)



d)



	Hình vuông	Hình tròn	Hình tam giác	Hình chữ nhật
a)				2
b)			4	
c)		2		
d)	3			

4 Tô màu vào các hình không phải là hình vuông.

