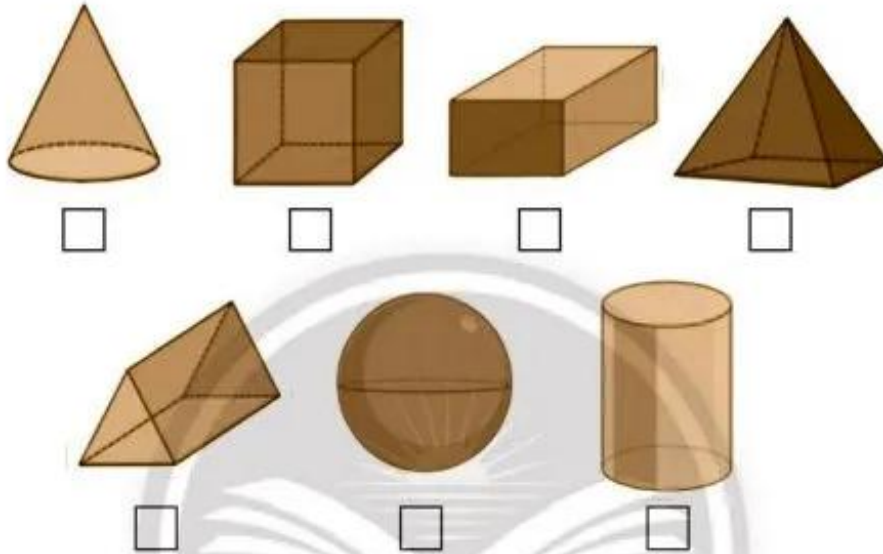


Bài
27

QUẢ ĐỊA CẦU - MÔ HÌNH THU NHỎ CỦA TRÁI ĐẤT

1 Chọn hình phù hợp với hình dạng của Trái Đất.



2 Chọn từ thích hợp để viết vào chỗ (...).

Cực Bắc

Cực Nam


Đường Xích đạo

Bán cầu Bắc

Bán cầu Nam



- 3 Bạn gấu này thường sống ở đâu? Tìm và tô màu đường đi để giúp bạn gấu trở về nơi sống của mình.




- 4 Vẽ hình dạng Trái Đất theo tưởng tượng của em. Tô màu và chú thích vị trí cực Bắc, cực Nam, đường Xích đạo.



Bài
28

TRÁI ĐẤT TRONG HỆ MẶT TRỜI

1 Viết vào chỗ (...) tên các hành tinh trong hệ Mặt Trời.



2 Em hãy chọn một hành tinh và tô màu đường đi từ phi thuyền tới hành tinh đó.

