


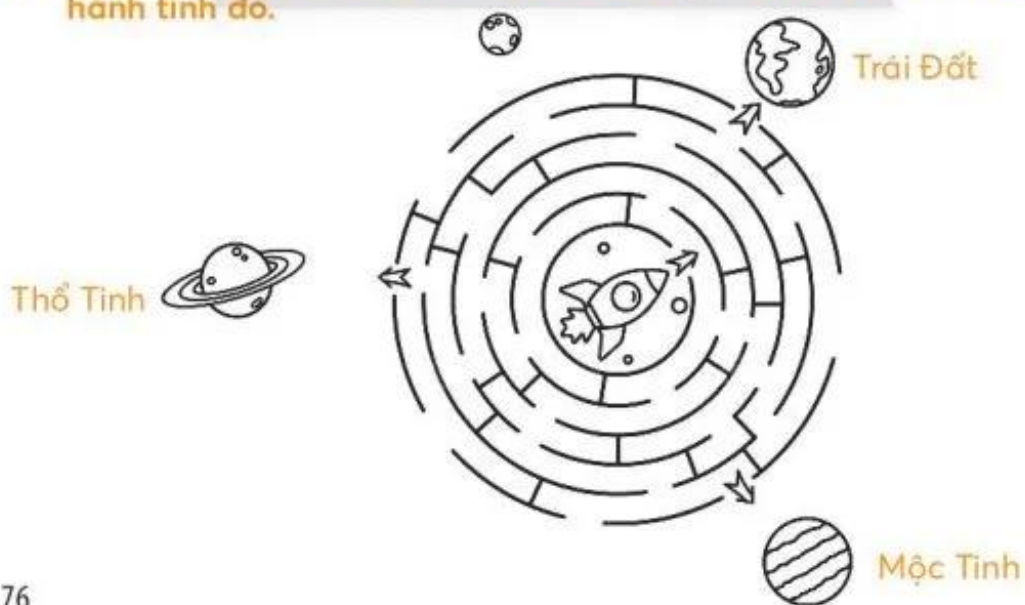
Bài
28

TRÁI ĐẤT TRONG HỆ MẶT TRỜI

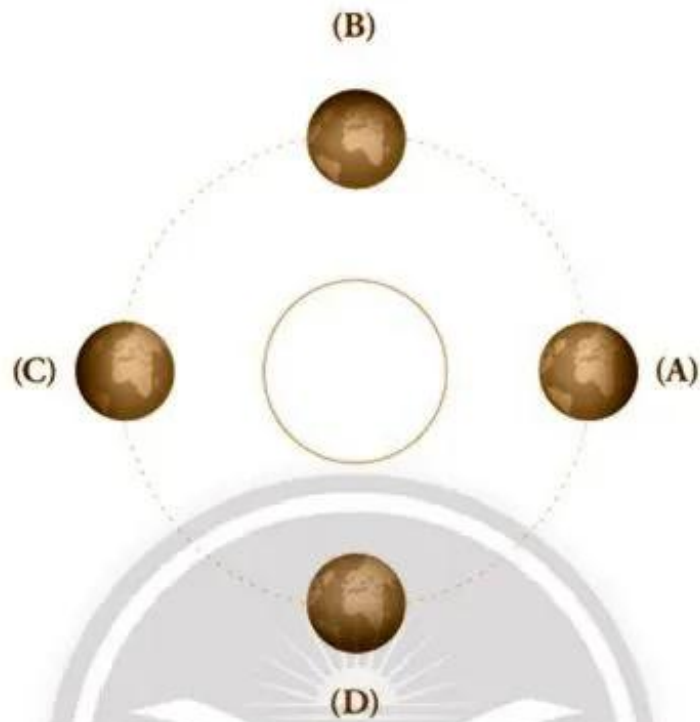
1 Viết vào chỗ (...) tên các hành tinh trong hệ Mặt Trời.



2 Em hãy chọn một hành tinh và tô màu đường đi từ phi thuyền tới hành tinh đó.



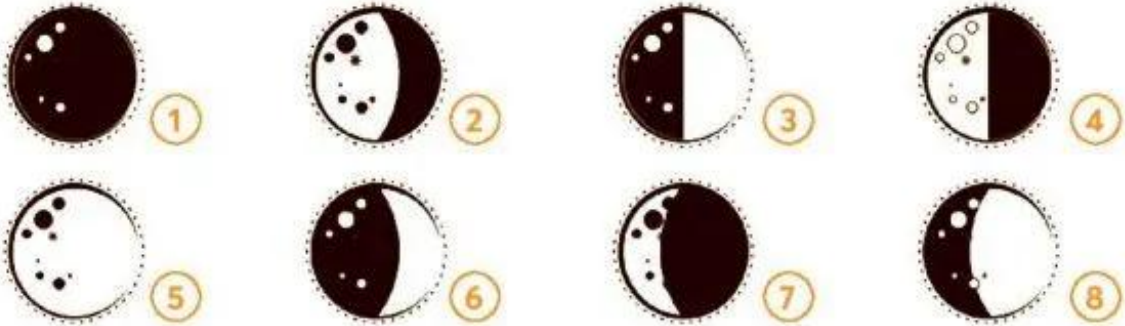
3 Vẽ thêm các mũi tên lên hình sau để chỉ chiều chuyển động của Trái Đất quanh mình nó và quanh Mặt Trời.



4 Vẽ sơ đồ thể hiện chiều chuyển động của Trái Đất quanh Mặt Trời và Mặt Trăng quanh Trái Đất.



5 Quan sát các hình Mặt Trăng và điền số thích hợp vào các ô trống trên sơ đồ dưới đây.



Bài 29

BỀ MẶT TRÁI ĐẤT

1 Viết vào chỗ (...) trên lược đồ tên của các châu lục và đại dương.



2 Nối hình ở cột A sao cho phù hợp với tên gọi ở cột B.

A



B

Suối

Hồ

Cao nguyên

Sông

Núi

Đồi

Đồng bằng

A

