










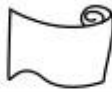



**Bài 26.****LUYỆN TẬP**

1. Dựa vào biểu đồ dưới đây hãy trả lời các câu hỏi sau :

**SỐ VẢI HOA VÀ VẢI TRẮNG ĐÃ BÁN TRONG THÁNG 9**

|        |   |   |  |   |
|--------|---|---|--|---|
| Tuần 1 |  |  |  |   |
| Tuần 2 |  |  |  |   |
| Tuần 3 |  |  |  |  |
| Tuần 4 |  |  |  |   |

Mỗi  chỉ 100m vải hoa. Mỗi  chỉ 100m vải trắng.

- Tuần 1 bán được bao nhiêu mét vải hoa ?
- Tuần 3 bán được bao nhiêu mét vải hoa ?
- Cả 4 tuần bán được bao nhiêu mét vải hoa ?
- Cả 4 tuần bán được bao nhiêu mét vải ?
- Tuần 3 bán được nhiều hơn tuần 1 bao nhiêu mét vải trắng ?

*Trả lời*

.....

.....

.....

.....

.....

.....

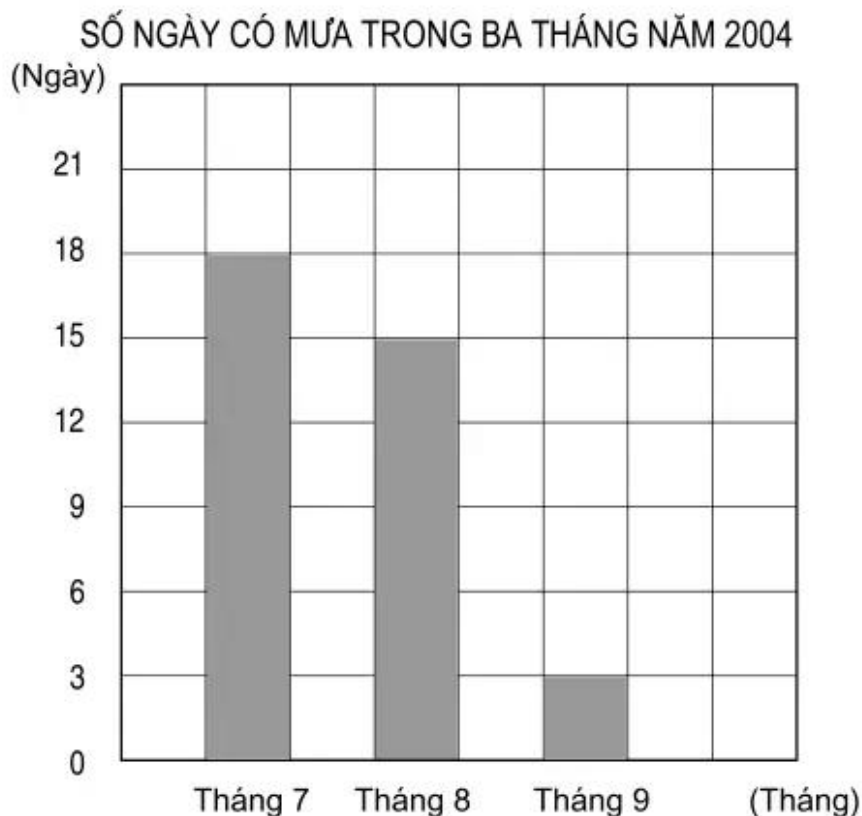
.....

.....

.....

.....

2. Biểu đồ dưới đây nói về số ngày có mưa trong ba tháng của năm 2004 ở một huyện miền núi :



Dựa vào biểu đồ hãy khoanh vào chữ đặt trước câu trả lời đúng :

- a) Số ngày có mưa của tháng 7 nhiều hơn tháng 9 là :

A. 5 ngày  
B. 15 ngày  
C. 1 ngày

- b) Số ngày có mưa trong cả ba tháng là :

A. 92 ngày  
B. 36 ngày  
C. 12 ngày

- c) Trung bình mỗi tháng có số ngày có mưa là :

A. 4 ngày  
B. 15 ngày  
C. 12 ngày