

Bài 30.**PHÉP TRỪ**

1. Đặt tính rồi tính :

$62975 - 24138$

$39700 - 9216$

$100000 - 9898$

.....
.....
.....

2. Viết số thích hợp vào chỗ chấm :

– Số lớn nhất có bốn chữ số là :

– Số bé nhất có bốn chữ số là :

– Hiệu của hai số này là :

3. Một cửa hàng ngày thứ nhất bán được 2632kg đường, ngày thứ hai bán được ít hơn ngày thứ nhất 264kg đường. Hỏi cả hai ngày cửa hàng đó bán được bao nhiêu tấn đường ?

Bài giải

.....


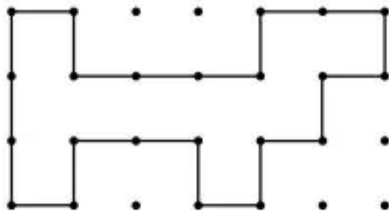
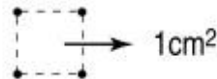
.....

.....

.....

.....

4. a) Vẽ theo mẫu :

b) Cho biết bốn chấm tạo thành một ô vuông có diện tích 1cm^2 (như hình dưới đây).

Ta có diện tích của hình cần vẽ là :