

**Bài 31.****LUYỆN TẬP**

1. Tính rồi thử lại :

$$\begin{array}{r} \text{a) } + \quad 38726 \\ \quad \quad 40954 \\ \hline \end{array} \quad \begin{array}{l} \text{Thử lại} \quad \dots\dots\dots \\ \quad \quad \quad \dots\dots\dots \\ \quad \quad \quad \dots\dots\dots \end{array}$$

$$\begin{array}{r} \text{b) } + \quad 42863 \\ \quad \quad 29127 \\ \hline \end{array} \quad \begin{array}{l} \text{Thử lại} \quad \dots\dots\dots \\ \quad \quad \quad \dots\dots\dots \\ \quad \quad \quad \dots\dots\dots \end{array}$$

$$\begin{array}{r} \text{c) } - \quad 92714 \\ \quad \quad 25091 \\ \hline \end{array} \quad \begin{array}{l} \text{Thử lại} \quad \dots\dots\dots \\ \quad \quad \quad \dots\dots\dots \\ \quad \quad \quad \dots\dots\dots \end{array}$$

$$\begin{array}{r} \text{d) } - \quad 8300 \\ \quad \quad 516 \\ \hline \end{array} \quad \begin{array}{l} \text{Thử lại} \quad \dots\dots\dots \\ \quad \quad \quad \dots\dots\dots \\ \quad \quad \quad \dots\dots\dots \end{array}$$

2. Một ô tô giờ thứ nhất chạy được 42 640m, giờ thứ hai chạy được ít hơn giờ thứ nhất 6280m. Hỏi trong hai giờ ô tô đó chạy được tất cả bao nhiêu ki-lô-mét ?

*Bài giải*

.....


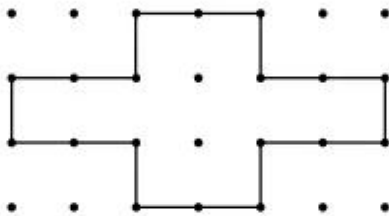
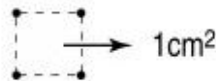
.....

.....

.....

.....

3. a) Vẽ theo mẫu :

b) Cho biết bốn chấm tạo thành một ô vuông có diện tích  $1\text{cm}^2$  (như hình dưới đây).

Ta có diện tích của hình cần vẽ là : .....