

Bài 32.

BIỂU THỨC CÓ CHỨA HAI CHỮ

1. Viết vào chỗ chấm (theo mẫu) :

Mẫu : Nếu $a = 2$ và $b = 1$ thì $a + b = 2 + 1 = 3$.

– Nếu $a = 2$ và $b = 1$ thì $a - b = \dots\dots\dots$

– Nếu $m = 6$ và $n = 3$ thì : $m + n = \dots\dots\dots$

$m - n = \dots\dots\dots$

$m \times n = \dots\dots\dots$

$m : n = \dots\dots\dots$

2. Viết vào ô trống (theo mẫu) :

a)

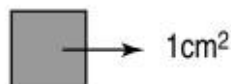
a	b	a + b	a × b
3	5	8	15
9	1		
0	4		
6	8		
2	2		

b)

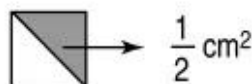
c	d	c - d	c : d
10	2	8	5
9	3		
16	4		
28	7		
20	1		

3. Cho biết :

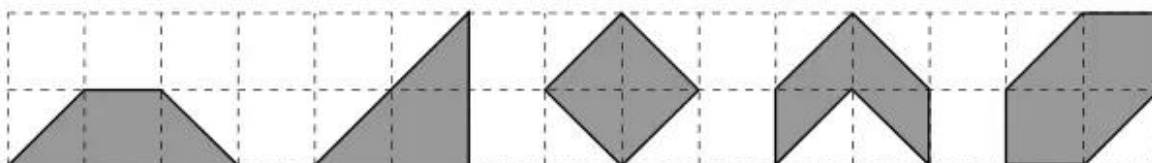
– Diện tích của mỗi ô vuông bằng 1cm^2 .



– Mỗi hình tam giác có diện tích bằng $\frac{1}{2}\text{cm}^2$.



Viết số đo diện tích của mỗi hình dưới đây (theo mẫu) :



2cm^2

$\dots\dots\dots$

$\dots\dots\dots$

$\dots\dots\dots$

$\dots\dots\dots$