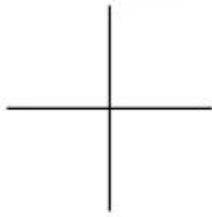


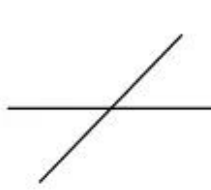
Bài 41.

HAI ĐƯỜNG THẲNG VUÔNG GÓC

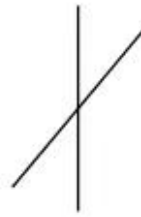
1. Dùng ê ke để kiểm tra rồi khoanh vào chữ đặt trước câu trả lời đúng :



Hình 1



Hình 2



Hình 3



Hình 4

Trong các hình trên, hình vẽ hai đường thẳng vuông góc với nhau là :

A. Hình 4


B. Hình 3

C. Hình 2

D. Hình 1

2. Viết tiếp vào chỗ chấm :

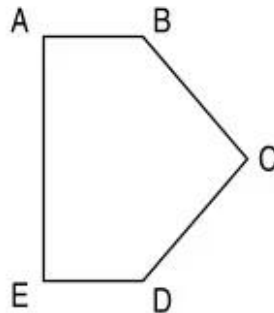
Các cặp cạnh vuông góc với nhau có trong hình chữ nhật ABCD là :



.....
.....
.....
.....

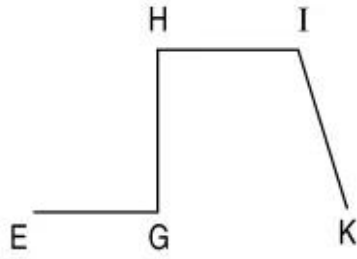
3. Dùng ê ke để kiểm tra rồi viết tên từng cặp cạnh vuông góc với nhau có trong mỗi hình sau vào chỗ chấm :

a)



.....
.....
.....

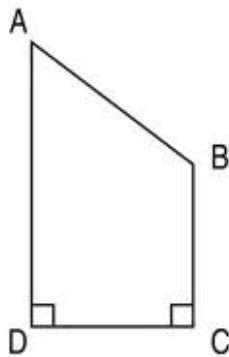
b)



.....

.....

4. Viết tiếp vào chỗ chấm :



a) Các cặp cạnh cắt nhau mà không vuông góc với nhau có trong hình trên là :

.....

.....

b) Các cặp cạnh vuông góc với nhau có trong hình trên là :

.....

.....