


Bài 42.**HAI ĐƯỜNG THẲNG SONG SONG**

1. Viết tiếp vào chỗ chấm :

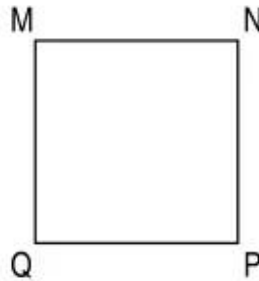
a)



Các cặp cạnh song song với nhau có trong hình chữ nhật ABCD là :

.....


b)



Các cặp cạnh song song với nhau có trong hình vuông MNPQ là :

.....

2. Viết tiếp vào chỗ chấm :



Cho ba hình chữ nhật ABCD, ABNM, MNCD như hình bên.

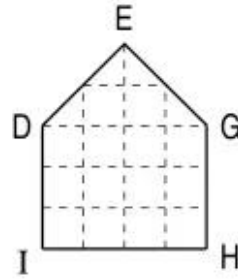
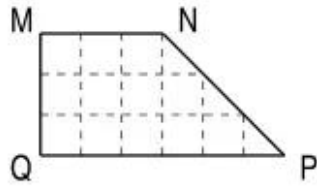
a) Các cạnh song song với cạnh MN là :

.....

b) Trong hình chữ nhật MNCD, các cạnh vuông góc với cạnh DC là :

.....

3. Viết tiếp vào chỗ chấm :



a) Các cặp cạnh song song với nhau có trong :

– Hình MNPQ là :

.....

– Hình DEGHI là :

.....

b) Các cặp cạnh vuông góc với nhau có trong :

– Hình MNPQ là :

.....

– Hình DEGHI là :

.....

4. Tô màu hình tứ giác có cặp cạnh song song với nhau trong mỗi hình sau :

