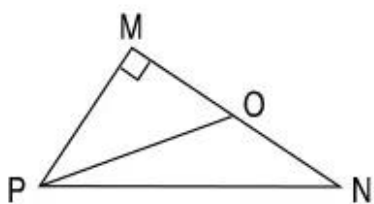
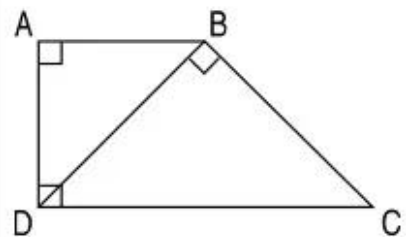
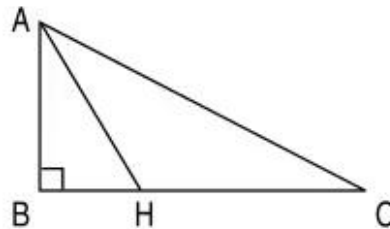


Bài 47.**LUYỆN TẬP**

1. Viết tên các góc có trong mỗi hình vào ô trống (theo mẫu) :

Trong mỗi hình bên		
Có góc vuông là	Góc vuông đỉnh M ; cạnh MP, MO	
Có góc nhọn là		
Có góc tù là		
Có góc bẹt là		


2. Đúng ghi Đ, sai ghi S :



Đường cao của hình tam giác ABC là :

- AH
- AB

3. Vẽ hình vuông ABCD có cạnh $AB = 3\text{cm}$.



4. a) Vẽ hình chữ nhật ABCD có chiều dài 4cm, chiều rộng 2cm. Nối trung điểm M của cạnh AD với trung điểm N của cạnh BC ta được các hình tứ giác đều là hình chữ nhật.

b) – Các hình chữ nhật có trong hình trên là :

.....

– Các cạnh song song với cạnh AB là :

.....