


## Bài 4

# CÁC QUỐC GIA CỔ ĐẠI PHƯƠNG ĐÔNG

### 1. Các quốc gia cổ đại phương Đông đã được hình thành ở đâu và từ bao giờ ?

Vào cuối thời nguyên thủy, cư dân ở lưu vực những dòng sông lớn như sông Nin ở Ai Cập, Ơ-phơ-rat và Ti-gơ-rơ ở Lưỡng Hà, sông Ấn và sông Hằng ở Ấn Độ, Hoàng Hà và Trường Giang ở Trung Quốc... ngày càng đông. Đất ven sông vừa màu mỡ, vừa dễ trồng trọt. Nghề nông trồng lúa ngày càng phát triển và trở thành ngành kinh tế chính. Người ta cũng biết làm *thủy lợi*<sup>(1)</sup>, đắp đê ngăn lũ, đào kênh, máng dẫn nước vào ruộng. Nhờ thế, con người có thể thu hoạch lúa ổn định hằng năm. Lúa gạo ngày càng nhiều. Trong xã hội bắt đầu xuất hiện kẻ giàu, người nghèo. Nhà nước ra đời. Từ cuối thiên niên kỉ IV đến đầu thiên niên kỉ III TCN, những quốc gia cổ đại phương Đông đầu tiên đã hình thành ở Ai Cập, vùng Lưỡng Hà, Ấn Độ và Trung Quốc ngày nay. Đây là những quốc gia xuất hiện sớm nhất trong lịch sử loài người.

*Em hãy miêu tả cảnh làm ruộng của người Ai Cập qua hình 8.*



Hình 8 - Tranh khắc trên tường đá một lăng mộ ở Ai Cập thế kỉ XIV TCN

(1) *Thủy lợi* : những công trình ngăn nước, dẫn nước, tưới tiêu cho đồng ruộng.

## 2. Xã hội cổ đại phương Đông bao gồm những tầng lớp nào ?

Ở các nước phương Đông, cư dân chủ yếu làm nghề nông. Vì vậy, bộ phận đông đảo nhất và có vai trò to lớn trong sản xuất là *nông dân*. Họ nhận ruộng đất ở *công xã*<sup>(1)</sup> để cày cấy và phải nộp một phần thu hoạch và *lao dịch*<sup>(2)</sup> không công cho *bọn quý tộc*<sup>(3)</sup>.

Quý tộc, quan lại là tầng lớp có nhiều của cải và quyền thế. Đứng đầu tầng lớp này là một ông vua nắm mọi quyền hành.


Nhà vua và các quý tộc đều có nhiều người hầu hạ phục dịch, gọi chung là *nô lệ*. Thân phận của nô lệ không khác gì con vật. Những người nô lệ và dân nghèo đã nhiều lần nổi dậy. Năm 2300 TCN, một vụ bạo động bùng nổ ở La-gát (Lưỡng Hà). Năm 1750 TCN, nô lệ và dân nghèo ở Ai Cập đã nổi dậy, cướp phá, đốt cháy cung điện.

Ở Lưỡng Hà, vua Ham-mu-ra-bi đã ban hành một bộ luật, được khắc trên đá.

- Phần trên của bia đá khắc hình Thần Sa-mát<sup>(4)</sup> đang trao bộ luật cho vua Ham-mu-ra-bi.

- Phần dưới của bia đá khắc phần đầu của bộ luật.

Điều 42 : Dân tự do thuê ruộng cày, nếu ruộng không có thóc thì người này bị coi là chưa hết sức chăm bón, phải lấy người bên cạnh làm tiêu chuẩn để nộp thóc cho chủ ruộng.



Hình 9 - Bia đá khắc Luật Ham-mu-ra-bi (Lưỡng Hà)

(1) Công xã : khu vực có người sinh sống với nhau như làng, xã ngày nay.

(2) Lao dịch : lao động nặng nhọc, bắt buộc và không được trả công theo chế độ của nhà nước hay lệnh của chúa đất.

(3) Quý tộc : lớp người giàu có và quyền thế nhất trong giai cấp thống trị thời cổ đại và phong kiến.

(4) Sa-mát : vị thần Mặt Trời của Ba-bi-lon cổ.

Điều 43 : Nếu không cày cấy mà bỏ ruộng hoang thì người này phải căn cứ theo người bên cạnh để nộp thóc cho chủ ruộng và còn phải cày bừa ruộng đã bỏ hoang cho bằng phẳng rồi trả lại cho chủ ruộng.

(Trích Luật Ham-mu-ra-bi)

**Qua hai điều luật trên, theo em, người cày thuê ruộng phải làm việc như thế nào ?**

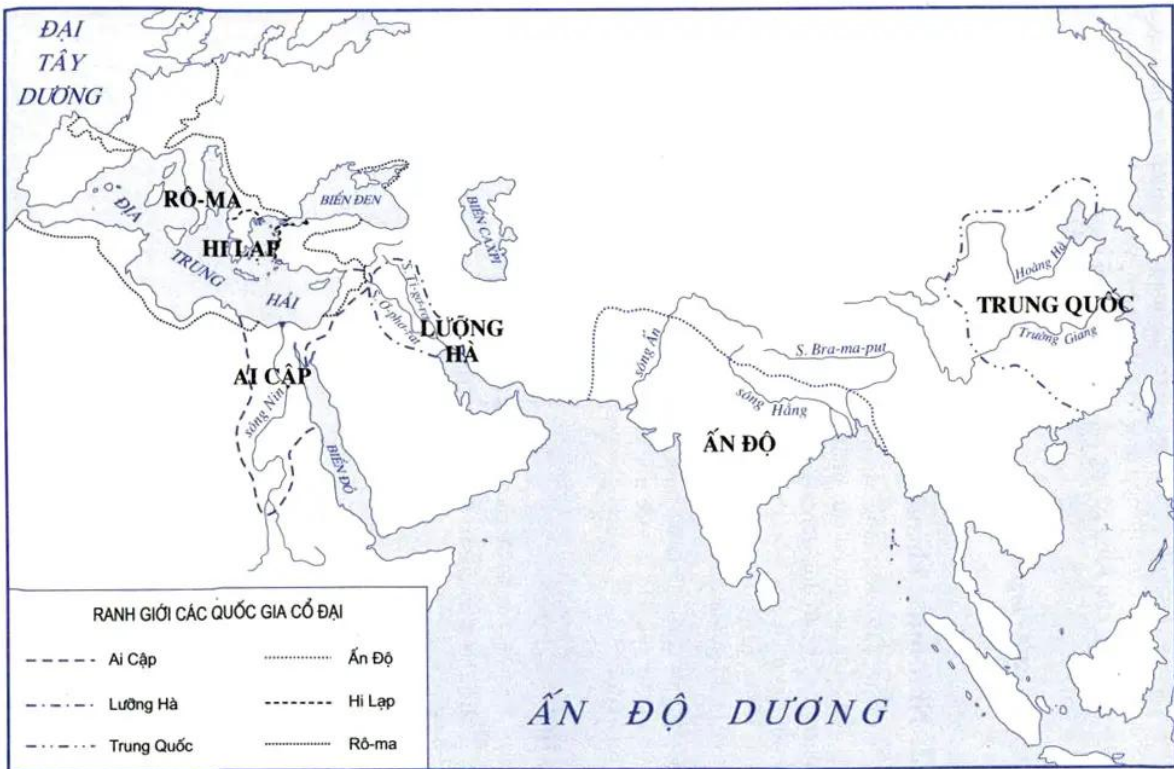
### **3. Nhà nước chuyên chế cổ đại phương Đông**

Để cai trị đất nước, tầng lớp quý tộc đã lập ra bộ máy nhà nước do vua đứng đầu. Vua có quyền cao nhất trong mọi công việc - từ việc đặt ra luật pháp, chỉ huy quân đội, đến việc xét xử những người có tội. Vua còn được coi là người đại diện của thần thánh ở dưới trần gian. Ở Trung Quốc, vua được gọi là *Thiên tử* (con trời), ở Ai Cập là *Pha-ra-ôn* (ngôi nhà lớn), còn ở Lưỡng Hà thì gọi là *En-si* (người đứng đầu).

Giúp việc cho vua là bộ máy hành chính từ trung ương đến địa phương gồm toàn quý tộc. Họ lo việc thu thuế, xây dựng cung điện, đền tháp và chỉ huy quân đội.

#### **CÂU HỎI**

1. Em hãy nêu tên các quốc gia cổ đại phương Đông.
2. Xã hội cổ đại phương Đông bao gồm những tầng lớp nào ?
3. Ở các nước phương Đông, nhà vua có những quyền hành gì ?



Hình 10 - Lược đồ : Các quốc gia cổ đại