



7. Em hãy vẽ sơ đồ nhịp $\frac{4}{4}$.

Tay trái	Tay phải

8. Nhịp $\frac{4}{4}$ còn có kí hiệu nào khác? Hãy chọn phương án đúng.

a. 

b. 

c. 

d. 



9. Tạo hai mẫu tiết tấu, sau đó thể hiện bằng nhạc cụ gỗ mà em thích.

mẫu a 

mẫu b 

10. Hãy tạo mẫu tiết tấu gõ đệm cho bài hát *Niềm tin thấp sáng trong tim em*.




Dòng sông kia khi có đôi bờ, sông chảy về nơi biển...


11. Em hãy thổi mẫu giai điệu dưới đây bằng sáo recorder:



12. Em hãy đọc và chép lại mẫu giai điệu dưới đây:



13. Viết tên các nốt nhạc theo mẫu dưới đây:



14. Ý nghĩa của từ Moderato trong âm nhạc là gì?

- | | |
|--------------------------------------|---------------------------------------|
| <input type="checkbox"/> a. vừa phải | <input type="checkbox"/> b. hơi nhanh |
| <input type="checkbox"/> c. chậm rãi | <input type="checkbox"/> d. thong thả |

15. Hãy tạo mẫu tiết tấu để gõ đệm cho Bài đọc nhạc số 3 (SGK trang 24).





16. Em hãy cho biết nhạc sĩ Antonio Vivaldi là người nước nào?

- a. Pháp b. Đức c. Ý d. Áo

17. Hãy viết những nét chính về cuộc đời và sự nghiệp sáng tác của nhạc sĩ Antonio Vivaldi mà em đã được học.

.....

.....

.....

.....

.....

.....

18. Hãy liệt kê một số tác phẩm âm nhạc của nhạc sĩ Antonio Vivaldi mà em biết.

.....

.....

.....

.....

.....

.....

19. Hãy nêu cảm nhận của em sau khi nghe trích đoạn tác phẩm *Concerto số 3 Mùa Thu*.

.....

.....

.....

20. Hãy tạo mẫu tiết tấu để gõ đệm cho trích đoạn tác phẩm *Concerto số 3 Mùa Thu*.

