

Chủ đề
3

PHÉP CỘNG, PHÉP TRỪ TRONG PHẠM VI 10

Bài 10

PHÉP CỘNG TRONG PHẠM VI 10



Khám phá

Gộp lại thì bằng mấy?

a)

Gộp 3 quả bóng và 2 quả bóng
được mấy quả bóng?



$$3 + 2 = 5$$

Ba cộng hai bằng năm. Dấu cộng: +

b)



$$1 + 3 = 4$$

Một cộng ba bằng bốn.



hoạt động

1 Số ?

a)  $1 + 1 = \boxed{?}$

b)  $2 + 1 = \boxed{?}$

c)  $3 + 1 = \boxed{?}$

d)  $1 + 4 = \boxed{?}$

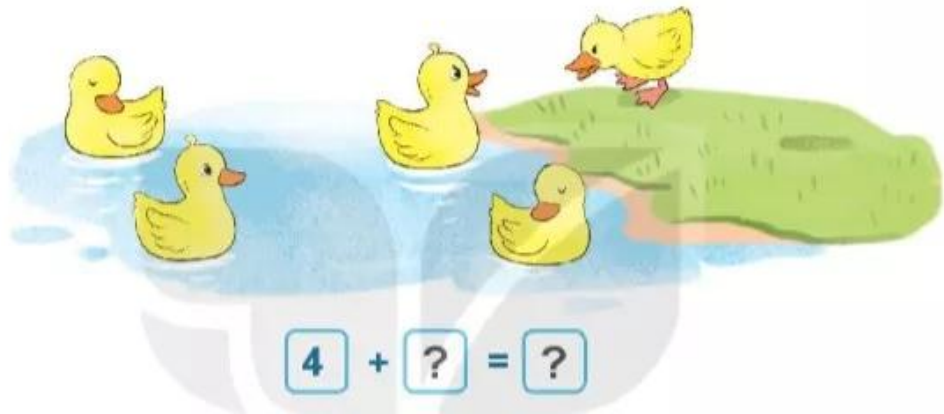
2 Số ?

a)



$$2 + ? = ?$$

b)



$$4 + ? = ?$$

3 Số ?

KẾT NỐI TRI THỨC
VỚI CUỘC SỐNG

a)

5
2 3
 $2 + 3 = 5$

3
1 2
 $1 + 2 = ?$

4
2 2
 $2 + 2 = ?$

b)

?
1 1
 $1 + 1 = ?$

?
3 1
 $3 + 1 = ?$

?
2 1
 $2 + 1 = ?$



luyện tập

1 Số ?



2 Tính nhẩm.

$1 + 1$

$1 + 2$

$1 + 5$

$2 + 1$

$1 + 3$

$2 + 3$

$3 + 1$

$1 + 4$

$4 + 2$

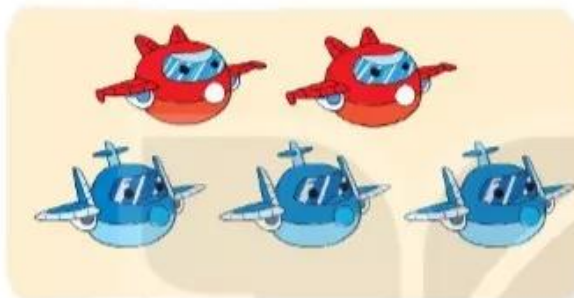
3 Số ?

a)



$3 + \boxed{?} = \boxed{?}$

b)



$2 + \boxed{?} = \boxed{?}$

c)



$\boxed{?} + 4 = \boxed{?}$


4 Số ?

$1 + \boxed{?} = 2$

$3 + \boxed{?} = 5$

$2 + \boxed{?} = 4$

$5 + \boxed{?} = 6$



Khám phá

Thêm vào thì bằng mấy?



5 bông hoa,
thêm 2 bông hoa
được mấy bông hoa?

$5 + 2 = 7$ Đếm thêm: 5, 6, 7



hoạt động

KẾT NỐI TRI THỨC
VỚI CUỘC SỐNG

1 Số ?

a)



$6 + 1 = \boxed{?}$

b)



$4 + 3 = \boxed{?}$

2 Số ?

a)



$$4 + ? = ?$$

b)



$$3 + ? = ?$$

3 Số ?



$$6 + 1 = ?$$

$$6 + 2 = ?$$

$$6 + 3 = ?$$

$$7 + 3 = ?$$

$$7 + 2 = ?$$

$$7 + 1 = ?$$


$$6 + 4 = ?$$

$$8 + 1 = ?$$

$$8 + 2 = ?$$

$$9 + 1 = ?$$

ĐKH



Khám phá


Số 0 trong phép cộng

a)



$4 + 0 = 4$

b)



$0 + 2 = 2$



hoạt động

1 Tính nhẩm.

$0 + 4$

$2 + 3$

$3 + 3$

$3 + 1$

$0 + 5$

$4 + 2$

$2 + 2$

$1 + 4$

$6 + 0$

2 Số ?

+	6	5	4	3	2	1	0
	1	2	3	4	5	6	7
	7	?	?	7	?	?	7

3 Số ?

a)



$$? + ? = ?$$

b)



$$? + ? = ?$$

4 Tìm chuồng cho thỏ.

KẾT NỐI THỰC VỚI CỘNG ĐỒNG

Rabbits and their math problems:

- Light brown rabbit: $3 + 1$
- Light blue rabbit: $6 + 2$
- Light orange rabbit: $5 + 2$
- Light green rabbit: $2 + 4$
- Yellow rabbit: $3 + 2$
- Pink rabbit: $6 + 3$

Houses and their numbers:

- House 1: 4
- House 2: 5
- House 3: 6
- House 4: 7
- House 5: 8
- House 6: 9

A blue line connects the yellow rabbit (math problem $3 + 2$) to House 2 (number 5).



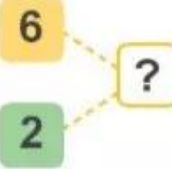
luyện tập

1 Số ?

a)



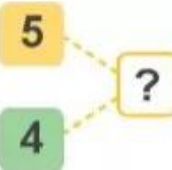
$$6 + 2 = \boxed{?} \quad 2 + 6 = \boxed{?}$$



b)



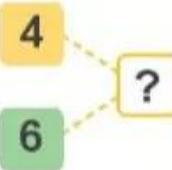
$$5 + 4 = \boxed{?} \quad 4 + 5 = \boxed{?}$$



c)



$$4 + 6 = \boxed{?} \quad 6 + 4 = \boxed{?}$$



2 Tính nhẩm.

$7 + 1$

$6 + 2$

$5 + 3$

$4 + 4$

$1 + 7$

$2 + 6$

$3 + 5$

$8 + 0$

3 Số ?

+	9	8	7	6	5
	0	1	2	3	4
	9	?	?	?	?

4 Số ?



$$\boxed{?} + \boxed{?} = \boxed{?}$$



$$\boxed{?} + \boxed{?} = \boxed{?}$$



Trò chơi

Cặp tấm thẻ anh em

Cách chơi:

- Chơi theo nhóm.
- Úp các tấm thẻ có các phép cộng dưới đây thành một nhóm theo thứ tự bất kì.

$1 + 0$

$4 + 3$

$2 + 1$

$2 + 4$

$7 + 3$

$6 + 2$

$1 + 1$

$2 + 2$

$5 + 4$

$3 + 2$

- Úp các tấm thẻ có các số dưới đây thành một nhóm theo thứ tự bất kì.

8

2

6

10

5

3

7

1

4

9

- Khi đến lượt, người chơi lấy ở mỗi nhóm 1 tấm thẻ. Nếu là cặp tấm thẻ anh em (cặp tấm thẻ có ghi phép tính và kết quả của phép tính đó, ví dụ $1 + 0$ và 1) thì người chơi được giữ lấy, nếu không thì xếp trả lại.
- Trò chơi kết thúc khi có người lấy được 2 cặp tấm thẻ anh em.



luyện tập

1 Số ?

+	9	8	7	6	5
	1	2	3	4	5
	10	?	?	?	?

2 a) Tính nhẩm.

$$\begin{array}{l} 2 + 7 \\ 1 + 8 \end{array}$$

$$\begin{array}{l} 2 + 8 \\ 3 + 7 \end{array}$$

$$\begin{array}{l} 3 + 5 \\ 1 + 7 \end{array}$$

b) Số ?

$$4 + \boxed{?} = 7$$


$$\boxed{?} + 4 = 10$$

$$\boxed{?} + 3 = 8$$

$$3 + \boxed{?} = 3$$

KẾT NỐI TRI THỨC
VỚI CUỘC SỐNG


3



và



và



$$3 + 1 + 2 = 6$$

Nhẩm: $3 + 1 = 4$

$$4 + 2 = 6$$


Tính:

$$1 + 2 + 2$$

$$2 + 3 + 5$$

$$5 + 4 + 0$$

4 Tìm những quả bóng ghi phép tính có kết quả bằng 10.



5 Số ?

$$\begin{aligned} 4 + 1 &= 5 \\ 1 + 1 &= 2 \\ \dots \end{aligned}$$

