

Bài 13

LUYỆN TẬP CHUNG



1 Số ?

a) $3 + 5 = 8$	$4 + 2 = 6$	$8 + 2 = 10$
$8 - 3 = ?$	$6 - 4 = ?$	$10 - 2 = ?$
$8 - 5 = ?$	$6 - 2 = ?$	$10 - 8 = ?$

b) $4 + 3 = 7$	$7 + 1 = 8$	$5 + 0 = 5$
$3 + 4 = ?$	$1 + 7 = ?$	$5 - 0 = ?$
$7 - 4 = ?$	$8 - 1 = ?$	$5 - 5 = ?$

2 Số ?

$1 + 9 = 10$	● ○ ○ ○ ○ ○ ○ ○ ○ ○	$10 - 1 = 9$
$2 + 8 = 10$	● ● ○ ○ ○ ○ ○ ○ ○ ○	$10 - 2 = 8$
$3 + 7 = 10$	● ● ● ○ ○ ○ ○ ○ ○ ○ ○	$10 - 3 = 7$
$4 + 6 = 10$	● ● ● ● ○ ○ ○ ○ ○ ○ ○ ○	$10 - 4 = 6$
$5 + 5 = 10$	● ● ● ● ● ○ ○ ○ ○ ○ ○ ○ ○	$10 - 5 = 5$
$6 + 4 = ?$	● ● ● ● ● ● ○ ○ ○ ○ ○ ○ ○ ○	$10 - 6 = ?$
$7 + 3 = ?$	● ● ● ● ● ● ● ○ ○ ○ ○ ○ ○ ○ ○	$10 - 7 = ?$
$8 + 2 = ?$	● ● ● ● ● ● ● ● ○ ○ ○ ○ ○ ○ ○ ○	$10 - 8 = ?$
$9 + 1 = ?$	● ● ● ● ● ● ● ● ● ○ ○ ○ ○ ○ ○ ○ ○	$10 - 9 = ?$

3 Số ?

a)


+	3	6	7	4	2	4	9
	4	2	1	3	8	6	0
	7	?	?	?	10	?	?

b)



4 Số ?

a)



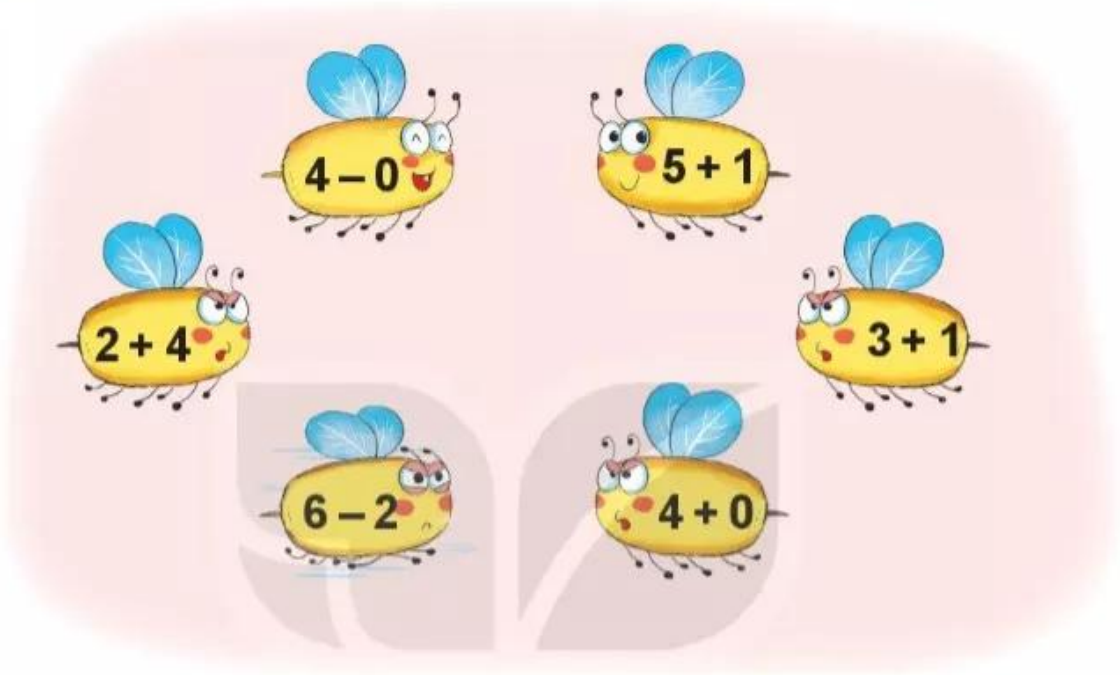
b)





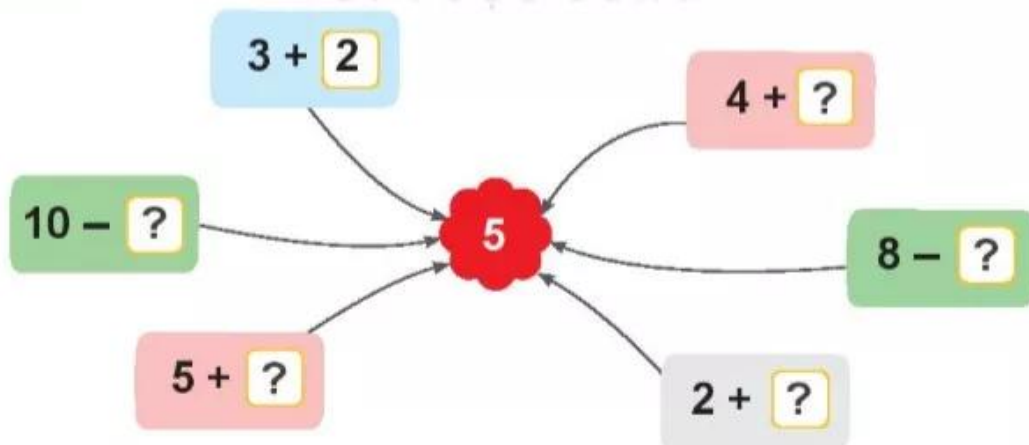
luyện tập

1 Những con ong nào chứa phép tính có kết quả bằng 4?




2 Số ?

KẾT NỐI TRI THỨC
VỚI CUỘC SỐNG



3




- a) Tìm kết quả phép tính ghi trên mỗi quả bưởi.
b) Có mấy quả bưởi ghi phép tính có kết quả bằng 5?



luyện tập

1 Số ?



$$? + ? = ?$$

2 Số ?



$$? + ? = ?$$

3 > ; < ; = ?

a) 9 4 + 1

8 10 - 2

7 2 + 6

b) 3 + 4 7

7 + 2 8

10 - 2 7

4 Số ?



8 - =