

Chủ đề
4

**LÀM QUEN VỚI
MỘT SỐ HÌNH KHỐI**

Bài 14

**KHỐI LẬP PHƯƠNG,
KHỐI HỘP CHỮ NHẬT**

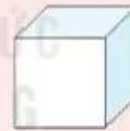
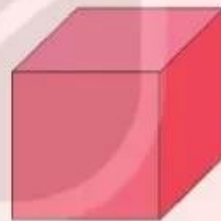


Khám phá

a)



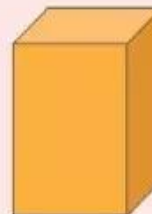

Khối lập phương



b)



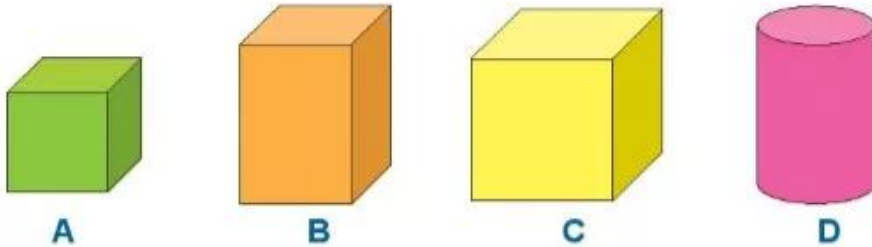
Khối hộp chữ nhật



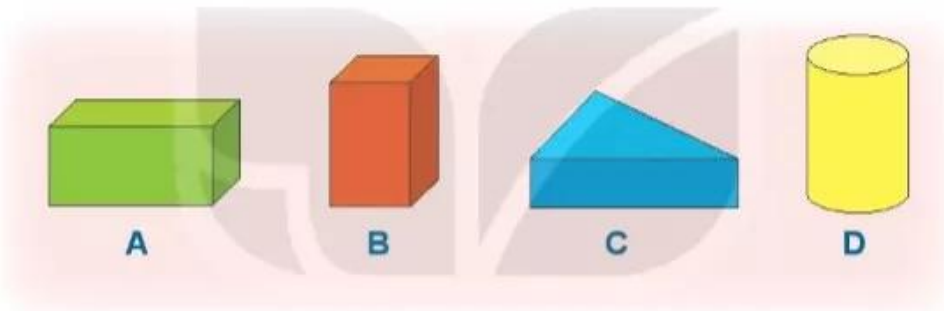


hoạt động

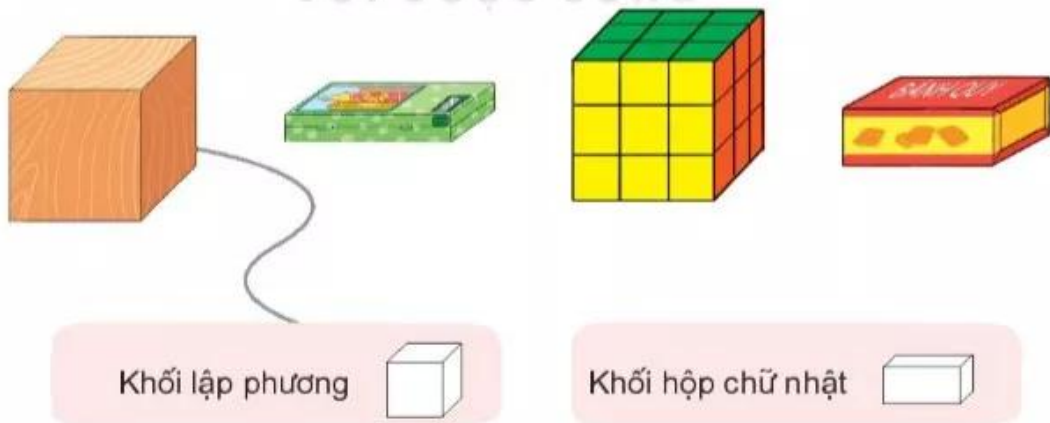
1 Những hình nào là khối lập phương?



2 Những hình nào là khối hộp chữ nhật?



3 a) Mỗi đồ vật sau có dạng hình gì?



b) Em hãy nêu tên một số đồ vật có dạng khối lập phương hoặc khối hộp chữ nhật ở quanh ta nhé!



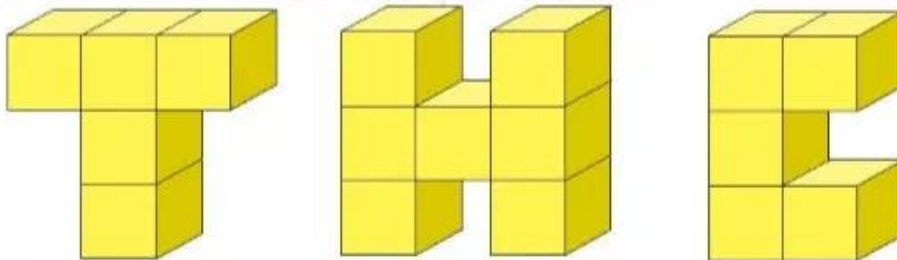
luyện tập

1 Bạn Mai xếp được hình dưới đây. Trong hình đó:

- Có bao nhiêu khối lập phương?
- Có bao nhiêu khối hộp chữ nhật màu đỏ?

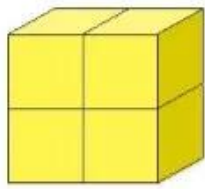


2 Dùng các khối lập phương nhỏ như nhau, bạn Việt xếp thành các chữ T, H, C như sau:

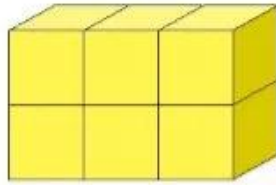


- Chữ nào được xếp bởi nhiều khối lập phương nhất?
- Hai chữ nào được xếp bởi số khối lập phương bằng nhau?

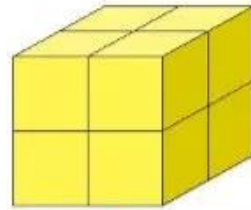
3 Các khối lập phương nhỏ như nhau được xếp thành các hình sau:



A



B

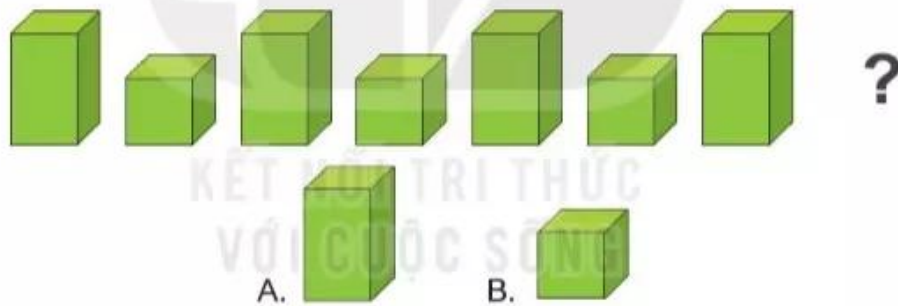


C

Hình nào là khối lập phương?

4 Hình khối thích hợp đặt vào dấu "?" là hình nào?

a)



b)

