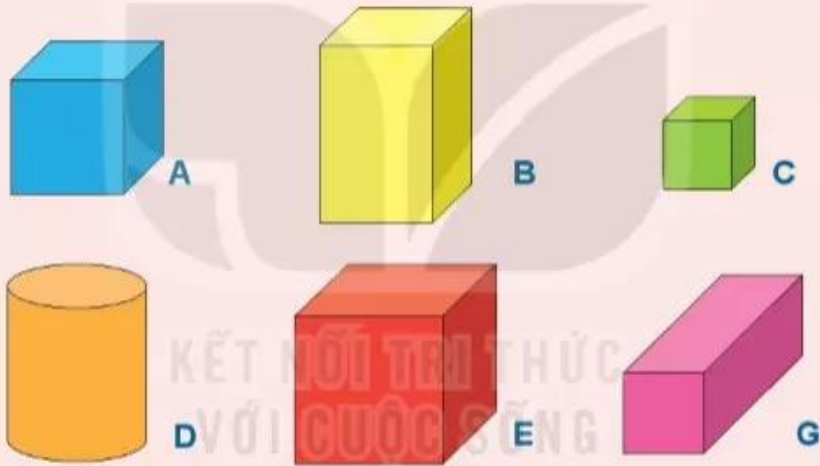


## Bài 16


# LUYỆN TẬP CHUNG



1 Những hình nào là khối lập phương? Những hình nào là khối hộp chữ nhật?



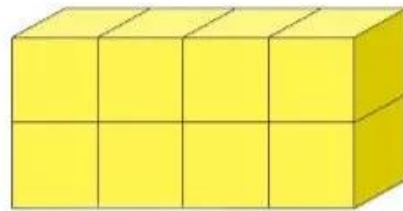
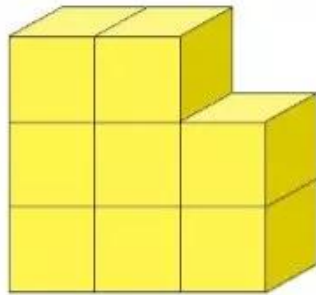
2



- Mặt trước xúc xắc có mấy chấm?
- Mặt bên phải xúc xắc có mấy chấm?
- Mặt trên xúc xắc có mấy chấm?

**3** Câu nào đúng?

- a) Hình bên phải có nhiều khối lập phương nhỏ hơn hình bên trái.
- b) Hai hình có số khối lập phương nhỏ bằng nhau.



**4** Từ 8 khối lập phương nhỏ như nhau, em hãy xếp thành một khối lập phương lớn.

