

Bài 17

**ÔN TẬP CÁC SỐ TRONG PHẠM VI 10**



**1** Số ?

The fishbowl images contain the following number of fish:

- Top left: 2 green fish
- Second left: 5 green fish
- Third left: 8 pink fish
- Fourth left: 4 yellow fish
- Fifth left: 8 blue fish
- Bottom center: 2 pink fish
- Top right: 0 fish
- Second right: 5 blue fish
- Third right: 6 orange fish
- Fourth right: 3 yellow and black striped fish
- Fifth right: 8 green fish







The central list of numbers and names is:

- ? hai
- 10** mười
- ? ba
- ? năm
- ? sáu
- 4** bốn
- 0** không
- ? chín
- ? bảy
- 8** tám
- ? một

2



a) Số ?

					
8	?	?	?	?	?

b) Trong các con vật: con thỏ, con chó, con trâu, số con vật nào ít nhất?

3 >, <, = ?

a)  $6 ? 8$

b)  $9 ? 9 - 1$

c)  $10 ? 8 + 2$

d)  $4 + 3 ? 7$

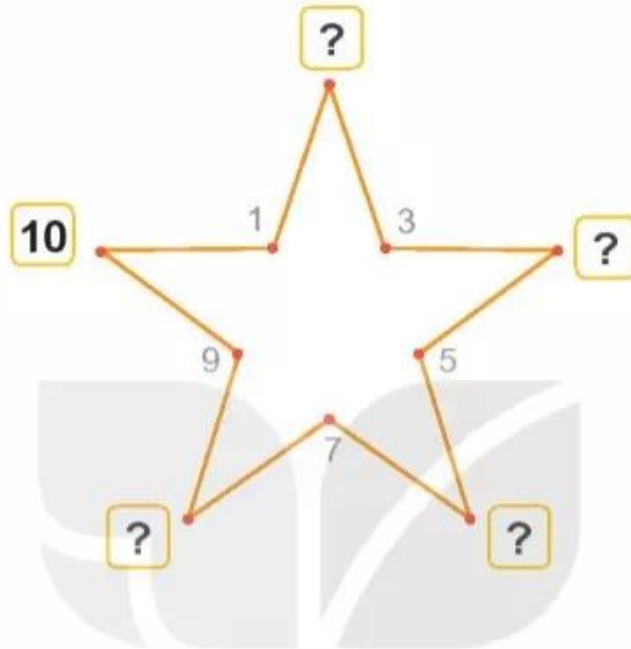
e)  $5 + 1 ? 8$

g)  $3 + 0 ? 2$



## luyện tập

- 1 Nối các số theo thứ tự từ bé đến lớn là được hình dưới đây. Các số còn thiếu là số nào?



- 2 Cho các số:



- a) Sắp xếp các số đó theo thứ tự từ bé đến lớn.  
b) Trong các số đó, số nào lớn nhất? Số nào bé nhất?  
c) Trong các số đó, những số nào vừa lớn hơn 5, vừa bé hơn 8?



- 3 Có 3 bạn rùa đi dạo chơi, rùa xanh đi thứ nhất, rùa vàng đi thứ hai, rùa nâu đi thứ ba.

Nếu bạn rùa đỏ vào giữa rùa xanh và rùa vàng thì khi đó rùa nâu đi thứ mấy?



- 4 Có 3 bạn thỏ đang chơi thì trời mưa, các bạn chạy vào trong cả hai chuồng. Hỏi mỗi chuồng có mấy bạn thỏ? Biết rằng số thỏ ở chuồng A nhiều hơn số thỏ ở chuồng B.

