

Bài 3

NHIỀU HƠN, ÍT HƠN, BẰNG NHAU



Khám phá



Số ếch **nhiều hơn** số lá.

Số lá **ít hơn** số ếch.



Số thỏ **bằng** số cà rốt.




hoạt động

1 Số bướm nhiều hơn hay số hoa nhiều hơn?



2 Câu nào đúng?



- a) Số ổ cắm nhiều hơn số đồ vật.
- b) Số đồ vật nhiều hơn số ổ cắm.

3 Câu nào đúng?

- a) Số chim nhiều hơn số cá.
- b) Số chim bằng số cá.
- c) Số cá ít hơn số mèo.









luyện tập

1 Câu nào đúng?



- a) Số  nhiều hơn số 
- b) Số  nhiều hơn số 


2 Số nấm nhiều hơn hay số nhím nhiều hơn?




3 Chọn câu trả lời đúng.

Cho thêm cà rốt để:

a) Số cà rốt bằng số bắp cải.



b) Số cà rốt nhiều hơn số bắp cải.



4 Câu nào đúng?



a) Số vịt dưới nước nhiều hơn số vịt trên bờ.

b) Số vịt trên bờ ít hơn số mèo.

c) Số mèo bằng số vịt.