

Bài 5 MẤY VÀ MẤY



Khám phá

Đếm số cá ở mỗi bể và ở cả hai bể.



Mai có: **3**

Nam có: **2**

3 và **2** được **5**



hoạt động

1 Số ?

a)



? và **?** được **?**

b)








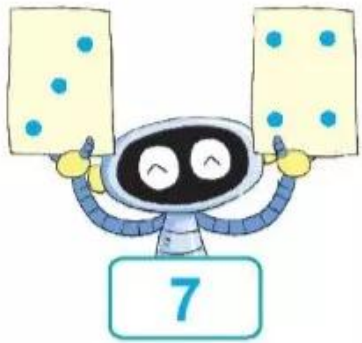
? và **?** được **?**

c)




? và **?** được **?**

2 Số ?



KẾT NỐI TRI THỨC
VỚI CUỘC SỐNG



khám phá

Có 5 con cá
gồm 1 con cá to
và 4 con cá nhỏ.

Có 5 con cá
gồm 2 con cá màu hồng
và 3 con cá màu vàng.



5 gồm 1 và 4

5 gồm 4 và 1

5 gồm 2 và 3

5 gồm 3 và 2



hoạt động

KẾT NỐI TRI THỨC
VỚI CUỘC SỐNG

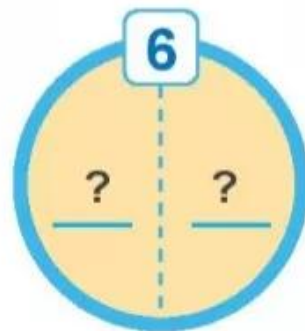
1 Số ?

4	
1	?
?	?
?	?



2 Số ?

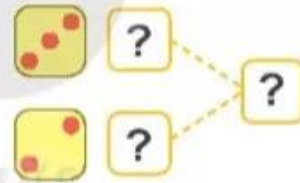
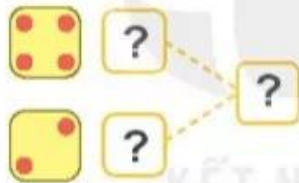
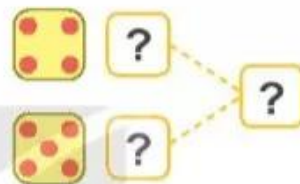
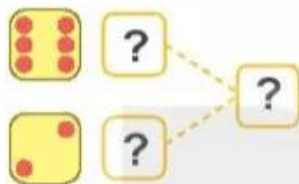
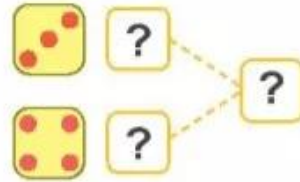
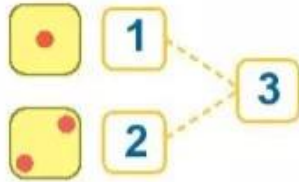
Lấy 6 que tính. Tách 6 que tính đó thành hai nhóm.
Tìm số que tính ở mỗi nhóm (theo mẫu).






luyện tập

1 Số ?




KẾT NỐI TRI THỨC
VỚI CUỘC SỐNG

2 Số ?



? và ? được ?



? gồm ? và ?

3 Số ?

