


## Bài 6

# LUYỆN TẬP CHUNG



1 Trong hình dưới đây có những số nào?



2 Trong mỗi bể có bao nhiêu con cá?



?



?



?



?




?



?

3 Tìm chậu hoa thích hợp.



4 Số ?






# luyện tập

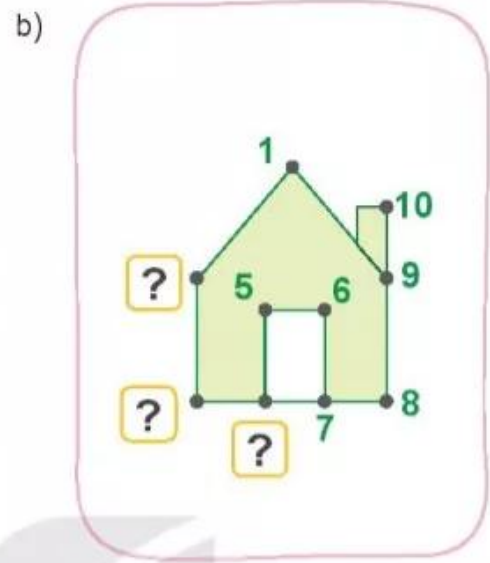
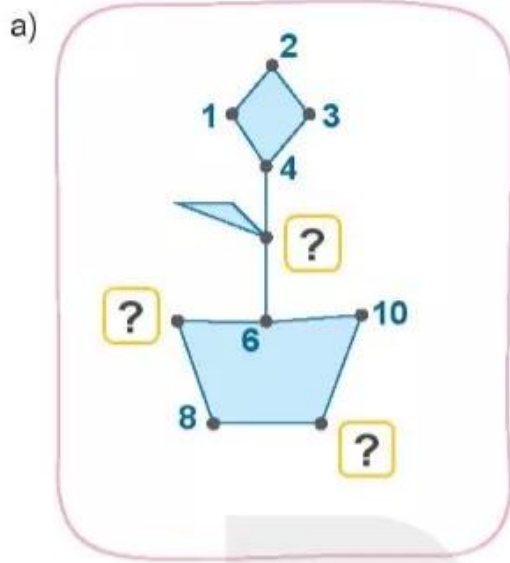
1 Số ?



2 Số ?



**3** Số ?



**4** a) Cốc nào có nhiều hạt sen nhất?



A



B



C



D

b) Cốc nào có ít hạt sen nhất?



A



B



C



D



# luyện tập

1 > ; < ; = ?

1  2

2  3


4  4

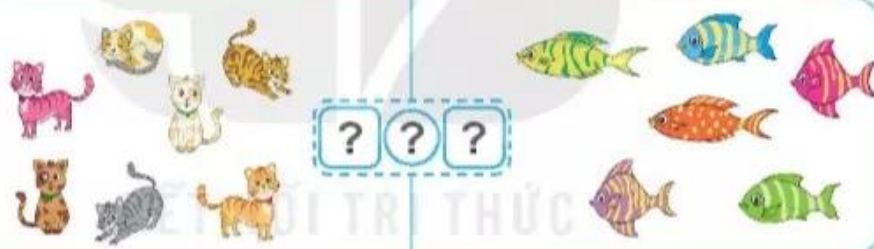
6  5

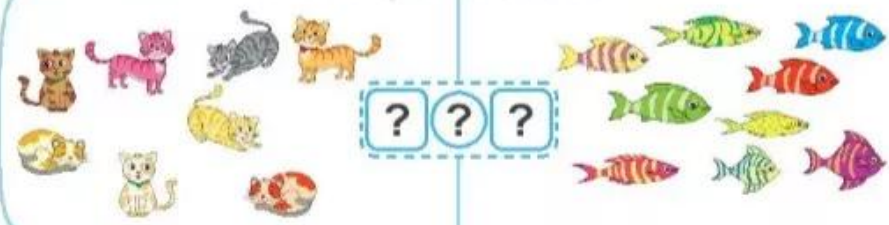
8  7

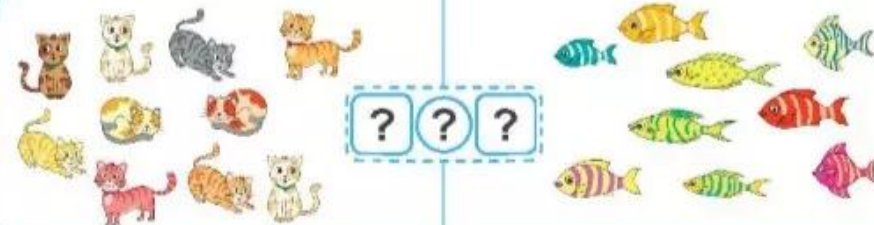
10  5

2 So sánh (theo mẫu).

a)   <

b) 

c) 

d) 



# Trò chơi



## Cầu thang - Cầu trượt

Cách chơi:

- Chơi theo nhóm.
- Người chơi bắt đầu từ ô **xuất phát**. Khi đến lượt, người chơi gieo xúc xắc. Đếm số chấm ở mặt trên xúc xắc rồi di chuyển số ô bằng số chấm nhận được. Đọc số lớn hơn trong ô đó. Khi đến cầu thang, em leo lên; khi đến cầu trượt, em trượt xuống.
- Trò chơi kết thúc khi có người về **đích**.

5 6	2 1	9 8	2 4	<b>ĐÍCH</b>
6 10	5 1	8 3	5 8	7 4
10 9	6 9	8 10	3 9	9 7
8 1	3 5	5 2	3 10	9 3
2 5	1 4	0 6	4 3	8 5
3 8	2 6	3 1	0 1	<b>XUẤT PHÁT</b>



## luyện tập

1 Hàng nào có nhiều đồ chơi hơn?

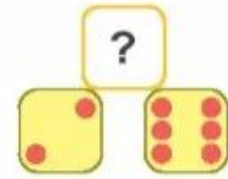
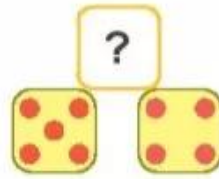
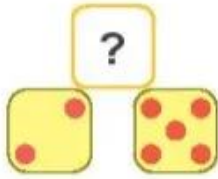
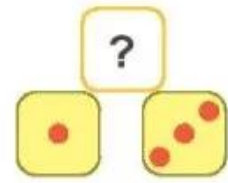
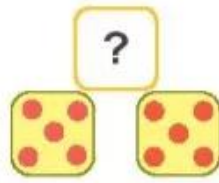
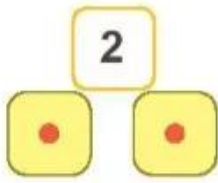


2 Chọn câu trả lời đúng.



- A. Số ô tô ít hơn số máy bay.
- B. Số ô tô bằng số máy bay.
- C. Số ô tô nhiều hơn số máy bay.

**3** Số ?




**4** Số ?

a)



6	
1	?
2	?
3	?

b)



9	
1	?
2	?
3	?