


Chủ đề  
**2**

## LÀM QUEN VỚI MỘT SỐ HÌNH PHẪNG

Bài 7

### HÌNH VUÔNG, HÌNH TRÒN, HÌNH TAM GIÁC, HÌNH CHỮ NHẬT



**Khám phá**



Hình vuông



Hình tròn



Hình tam giác



Hình chữ nhật



**hoạt động**

**1** Mỗi đồ vật có dạng hình gì?



Hình vuông



Hình tròn



Hình chữ nhật




Hình tam giác



2 a) Những hình nào là hình tròn?



b) Những hình nào là hình tam giác?



c) Những hình nào là hình vuông?




d) Những hình nào là hình chữ nhật?



3 Trong hình sau có bao nhiêu hình vuông?

Bao nhiêu hình tròn? Bao nhiêu hình tam giác?



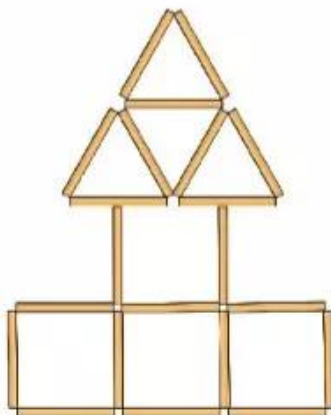


## luyện tập

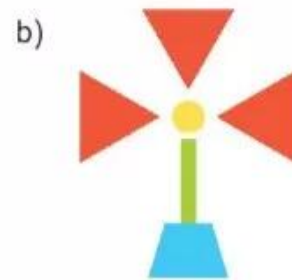
- 1 Có bao nhiêu hình tròn? Bao nhiêu hình vuông? Bao nhiêu hình tam giác?  
Bao nhiêu hình chữ nhật?



- 2 Các que tính được xếp thành hình dưới đây. Trong hình đó có bao nhiêu hình vuông? Bao nhiêu hình tam giác?



**3** Có bao nhiêu hình vuông, hình tròn, hình tam giác, hình chữ nhật trong mỗi hình sau?



	Hình tròn	Hình chữ nhật	Hình tam giác	Hình vuông
a)	<b>2</b>	<b>?</b>	<b>3</b>	<b>?</b>
b)	<b>?</b>	<b>1</b>	<b>?</b>	<b>0</b>
c)	<b>?</b>	<b>3</b>	<b>?</b>	<b>0</b>

**4** Những hình nào không là hình vuông?

