

Bài 9

LUYỆN TẬP CHUNG



- 1 Liên hệ xung quanh mình và quanh lớp học, bạn Việt đã nêu được tên một số đồ vật có dạng các hình đã học như sau:



Khung cửa sổ



Biển báo giao thông



Đĩa DVD



Bánh xe



Bảng lớp



Cái bánh



Bìa sách



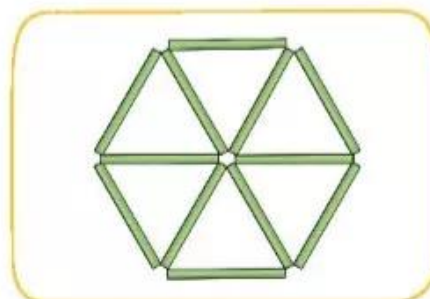
Ê-ke



Con tem

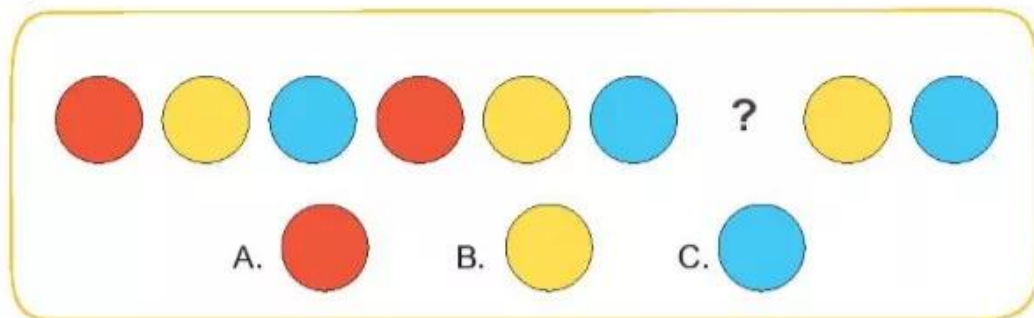
Mỗi đồ vật trên có dạng hình gì?

- 2 a) Em hãy xếp các que tính để được hình bên.
b) Em hãy xếp 5 que tính thành một hình có 2 hình tam giác.

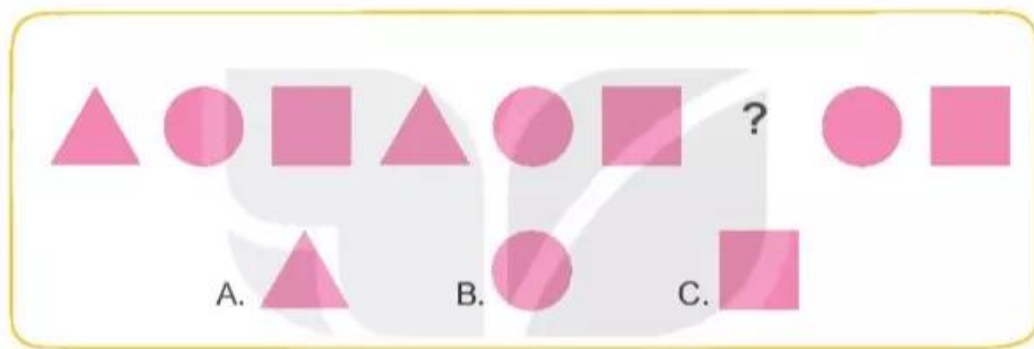


3 Hình thích hợp đặt vào dấu "?" là hình nào?

a)



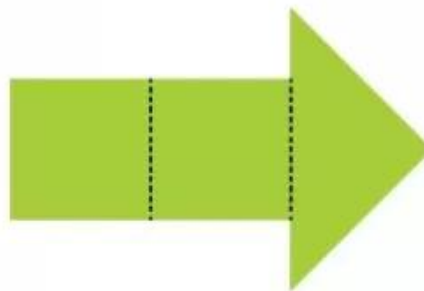
b)



4 Với các miếng bìa hình tam giác:



Bạn Mai ghép thành hình sau:



Hỏi bạn Mai đã dùng bao nhiêu miếng bìa hình tam giác để ghép được hình trên?