
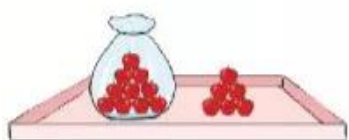


Bài 22

SO SÁNH SỐ CÓ HAI CHỮ SỐ




Khám phá



$16 < 19$

$19 > 16$

$16 < 19$



$42 > 25$

$25 < 42$

$42 > 25$



hoạt động

1 So sánh (theo mẫu).

	$13 < 16$	
	?	
	?	
	?	

2 Túi nào có số lớn hơn?

a)



b)



c)



3 >; <; = ?

24 ? 19

56 ? 65

35 ? 37

90 ? 89

68 ? 68

71 ? 81

4 a) Chiếc lọ nào có số lớn nhất?



b) Chiếc lọ nào có số bé nhất?





luyện tập

1 Số nào lớn hơn trong mỗi cặp?



2 Số nào bé hơn trong mỗi cặp?



3 Đổi chỗ hai chiếc xe để các số trên xe sắp xếp theo thứ tự từ bé đến lớn.



4 Đổi chỗ hai chiếc xe để các số trên xe sắp xếp theo thứ tự từ lớn đến bé.





Cầu thang – Cầu trượt

Cách chơi:

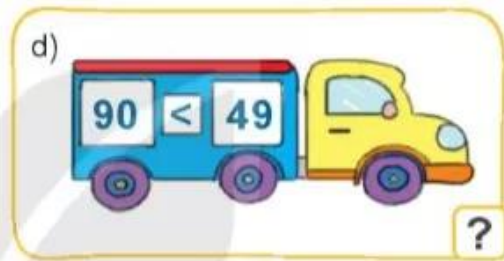
- Chơi theo nhóm.
- Người chơi bắt đầu từ ô **xuất phát**. Khi đến lượt, người chơi gieo xúc xắc. Đếm số chấm ở mặt trên xúc xắc rồi di chuyển số ô bằng số chấm nhận được. Đọc số bé hơn trong ô đó. Khi đến cầu thang, em leo lên. Khi đến cầu trượt, em trượt xuống.
- Trò chơi kết thúc khi có người về đến **đích**.

	13	17	17	36	
4	20	53	89		ĐÍCH
	80	18	38	59	26
90	13	83	55		51
	19	28	12	14	35
34	65	9	20	87	
	22	26	15	29	31
27	62	55	88	42	
	14	9	13	49	18
41	12	30	47		40
	17	93	31	11	
71	99	22	10		XUẤT PHÁT

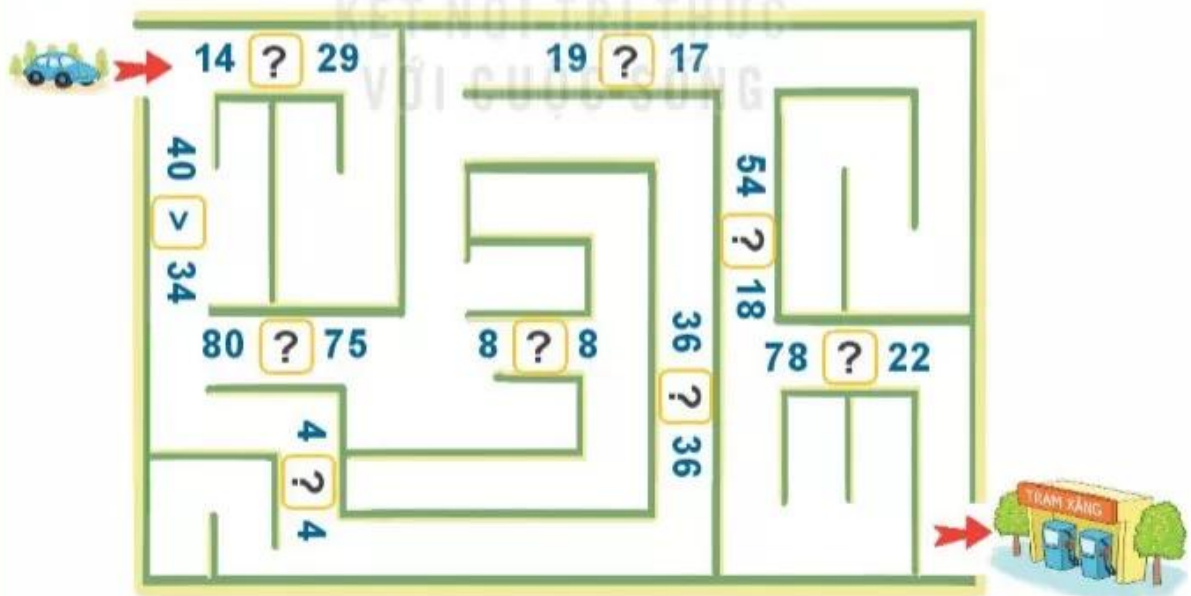


luyện tập

1 Đ, S ?



2 a) >; <; = ?



b) Tìm đường xe đi đến trạm xăng.

3 Lớp 1A có 33 học sinh, lớp 1B có 30 học sinh, lớp 1C có 35 học sinh. Hỏi:

- a) Lớp 1A và lớp 1B, lớp nào có nhiều học sinh hơn?
- b) Lớp 1B và lớp 1C, lớp nào có ít học sinh hơn?
- c) Lớp nào có nhiều học sinh nhất?
- d) Lớp nào có ít học sinh nhất?

