

Bài 30

PHÉP CỘNG SỐ CÓ HAI CHỮ SỐ VỚI SỐ CÓ HAI CHỮ SỐ



Khám phá

$32 + 15 = ?$

| Chục | Đơn vị |
|------|--------|
| 3 | 2 |
| + | 1 |
| 4 | 7 |

$$\begin{array}{r} 32 \\ + 15 \\ \hline 47 \end{array}$$

- 2 cộng 5 bằng 7, viết 7.
- 3 cộng 1 bằng 4, viết 4.

$24 + 30 = ?$

| Chục | Đơn vị |
|------|--------|
| 2 | 4 |
| + | 3 |
| 5 | 4 |

$$\begin{array}{r} 24 \\ + 30 \\ \hline 54 \end{array}$$

- 4 cộng 0 bằng 4, viết 4.
- 2 cộng 3 bằng 5, viết 5.



hoạt động

1 Tính:

$$\begin{array}{r} 41 \\ + 11 \\ \hline \end{array}$$

$$\begin{array}{r} 15 \\ + 30 \\ \hline \end{array}$$

$$\begin{array}{r} 56 \\ + 31 \\ \hline \end{array}$$

$$\begin{array}{r} 60 \\ + 29 \\ \hline \end{array}$$

2 Đặt tính rồi tính.

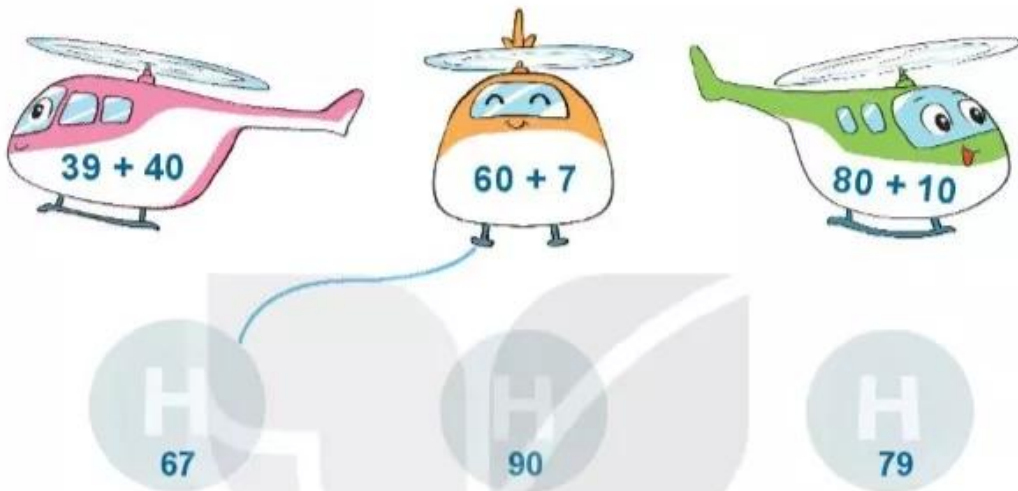
$13 + 21$

$15 + 64$

$34 + 40$


$83 + 15$

3 Tìm chỗ trống cho trực thăng.



4 Có hai cây cà chua trong vườn. Một cây có 10 quả, một cây có 26 quả. Hỏi cả hai cây có bao nhiêu quả cà chua?

$?\ +\ ?\ =\ ?$





luyện tập

1 Đặt tính rồi tính.


$10 + 47$

$23 + 54$

$61 + 35$


$58 + 41$

2 Quả xoài nào ghi phép tính có kết quả lớn nhất? Quả xoài nào ghi phép tính có kết quả bé nhất?



3 Trên cây có 15 con chim. Lát sau có thêm 24 con chim bay đến đậu cùng. Hỏi lúc này trên cây có tất cả bao nhiêu con chim?

KẾT ? ? ? = ?
VỚI CUỘC SỐNG



4 Tính nhẩm (theo mẫu).

$30 + 20 = ?$

$3 \text{ chục} + 2 \text{ chục} = 5 \text{ chục}$
 $30 + 20 = 50$



a) $10 + 50$

$20 + 40$

$30 + 30$

b) $30 + 40$

$40 + 30$

$20 + 50$

c) $10 + 20$

$10 + 30$

$10 + 40$

5 Tìm số bị rơi mất trong mỗi chiếc lá có dấu "?".

