

Bài 38

ÔN TẬP CÁC SỐ VÀ PHÉP TÍNH TRONG PHẠM VI 10

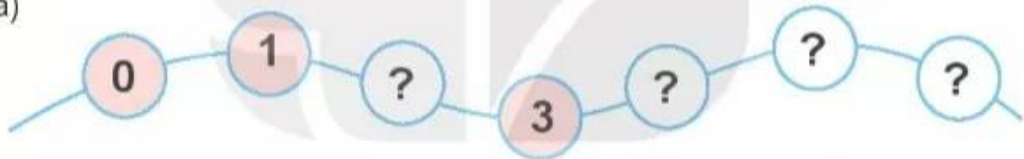


luyện tập

Ôn tập các số trong phạm vi 10

1 Số ?

a)



b)



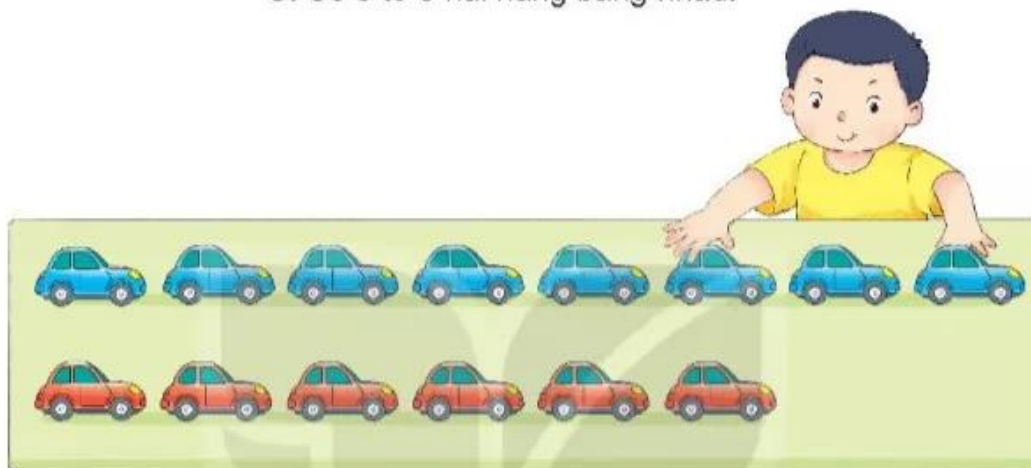
2 a) Những bông hoa nào ghi số lớn hơn 5?

b) Trong các bông hoa trắng, bông hoa nào ghi số lớn nhất, bông hoa nào ghi số bé nhất?



3 Lúc đầu Việt xếp các ô tô thành hai hàng (như hình vẽ). Sau đó Việt chuyển một ô tô từ hàng trên xuống hàng dưới. Khi đó câu nào dưới đây là đúng?

- A. Số ô tô ở hàng trên nhiều hơn.
- B. Số ô tô ở hàng dưới nhiều hơn.
- C. Số ô tô ở hai hàng bằng nhau.



4 Số ?



Một số giai đoạn hình thành và phát triển của hoa sen.

5 Điểm số của Mai, Việt và Nam trong bài kiểm tra Toán là 9, 10, 10. Biết rằng điểm của Mai cao hơn điểm của Nam. Hỏi Việt được mấy điểm?



luyện tập

Ôn tập các phép tính trong phạm vi 10

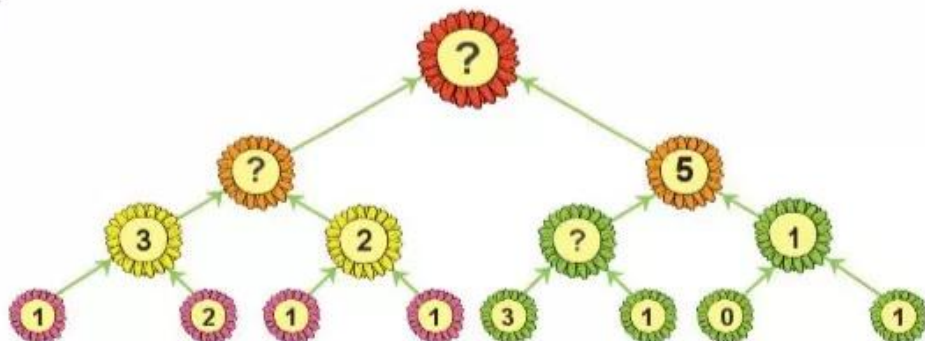
1 Những phép tính nào có kết quả bằng 8?



2 Mỗi chú thỏ sẽ vào chuồng có số là kết quả phép tính ghi trên chú thỏ đó. Hỏi chuồng nào sẽ có hai chú thỏ?



3 Số ?




4 > ; < ; = ?

$4 + 3 \boxed{?} 6$






$7 - 2 \boxed{?} 7$

$8 \boxed{?} 10 - 2$

5 Bướm sẽ đậu vào bông hoa có số là kết quả phép tính trên cánh bướm.



Mỗi bông hoa có bao nhiêu bướm sẽ đậu?


| | | | | | |
|--------------|---|---|--|---|---|
| Tên bông hoa |  |  |  |  |  |
| Số bướm đậu | 1 | ? | ? | ? | ? |



luyện tập

1 Xếp que tính.

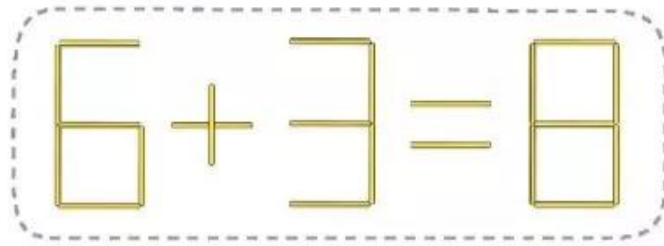
a) Em hãy xếp que tính thành các số 0, 1, 2, 3, 4, 5, 6, 7, 8, 9 theo hình dưới đây:



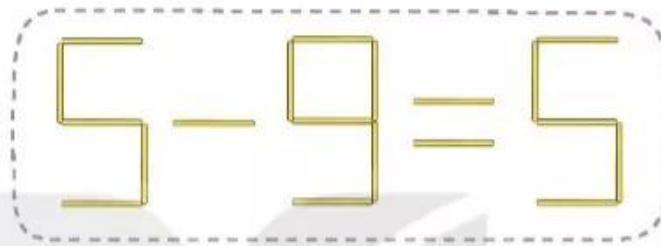
b) Với 5 que tính, em xếp được những số nào trong các số trên?

2 Bạn Mai xếp que tính thành phép tính nhưng bị sai. Em hãy chuyển chỗ 1 que tính để có phép tính đúng (vẫn giữ nguyên dấu + hoặc dấu -).

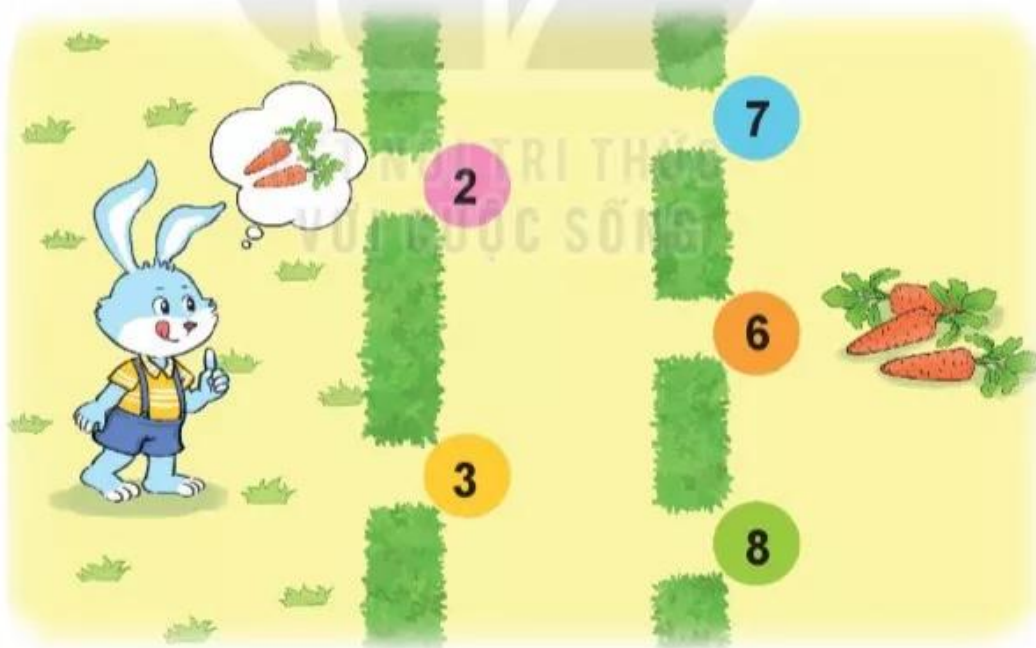
a)



b)



3 Thỏ và cà rốt.



Thỏ lấy được cà rốt nếu đi qua hai cửa có hai số cộng với nhau được 10. Hỏi có mấy cách đi để thỏ lấy được cà rốt?