

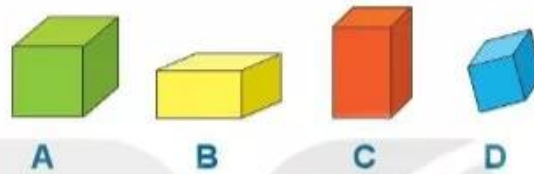
## Bài 40

# ÔN TẬP HÌNH HỌC VÀ ĐO LƯỜNG

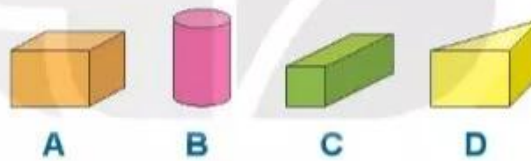


### Ôn tập về hình học





1 a) Những hình nào dưới đây là khối lập phương?




b) Những hình nào dưới đây là khối hộp chữ nhật?

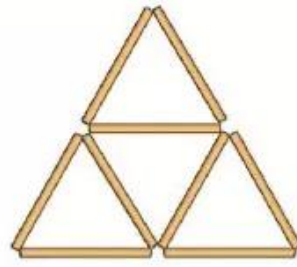


2 Xem hình sau rồi tìm số thích hợp.

Hình	Số hình
	?
	?
	?
	?

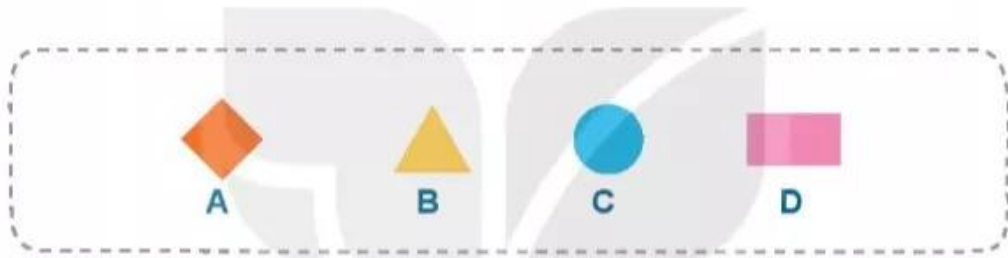


- 3** a) Lấy 9 que tính xếp thành hình bên.  
 b) Hình bên có mấy hình tam giác?  
 c) Nhắc ra 2 que tính để hình còn lại có 2 hình tam giác.

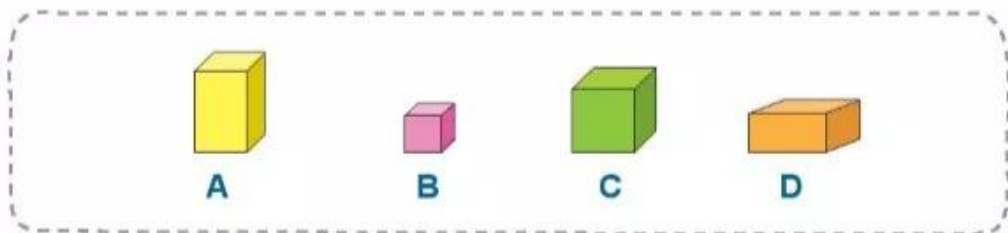
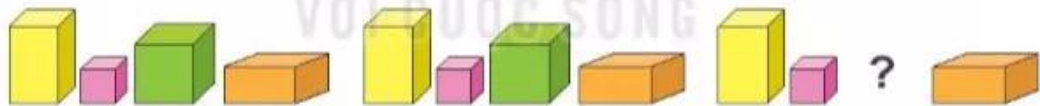


- 4** Tìm hình thích hợp đặt vào dấu "?".

a)



b)





## luyện tập

### Ôn tập về đo lường

1 Chọn đồng hồ thích hợp với mỗi bức tranh.



Viết tập thể dục lúc 6 giờ sáng.



Viết đi học lúc 7 giờ sáng.



Viết ăn trưa lúc 12 giờ.



Viết tập bơi lúc 5 giờ chiều.



Viết chơi đàn lúc 8 giờ tối.



Viết đi ngủ lúc 9 giờ tối.

2 Chọn câu trả lời đúng.

a)

Trong một tuần, nếu ngày 20 là thứ hai thì ngày 22 là thứ mấy?

A. Thứ tư

B. Thứ năm

C. Thứ sáu

b)

Nếu hôm qua là thứ ba thì ngày mai là thứ mấy?

A. Thứ tư

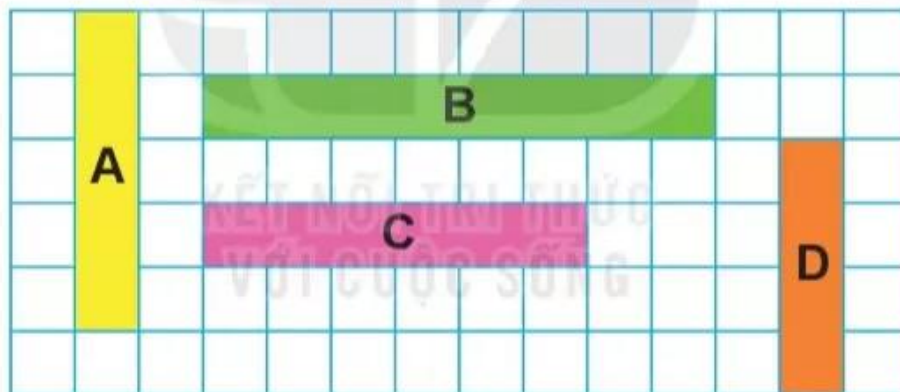
B. Thứ năm

C. Thứ sáu

3) Đo độ dài mỗi đồ vật sau với đơn vị là xăng-ti-mét.



4) Trong hình dưới đây, băng giấy nào dài nhất, băng giấy nào ngắn nhất?



5) Chọn câu trả lời đúng.

a) Gang tay của em dài khoảng: A. 10 cm B. 1 cm C. 5 cm

b) Bàn học của em cao khoảng: A. 6 cm B. 6 gang tay C. 20 cm

c) Bảng lớp học dài khoảng: A. 3 sải tay B. 3 gang tay C. 30 cm