

a) 5 bãi biển đẹp ở nước ta, lần lượt từ Bắc vào Nam.

b) 5 vườn quốc gia.

c) 5 di sản thế giới ở nước ta.

d) 5 lễ hội cổ truyền ở nước ta.

e) 5 làng nghề truyền thống ở nước ta.

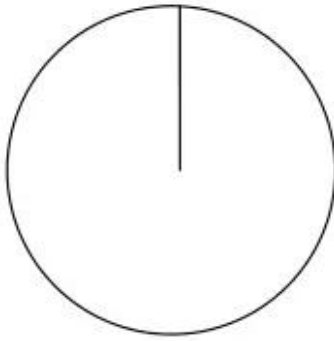
Câu 4. Cho bảng 15.2:

**Bảng 15.2. CƠ CẤU GIÁ TRỊ XUẤT KHẨU HÀNG HOÁ
PHÂN THEO NHÓM HÀNG CỦA NƯỚC TA, NĂM 1995 VÀ 2007**

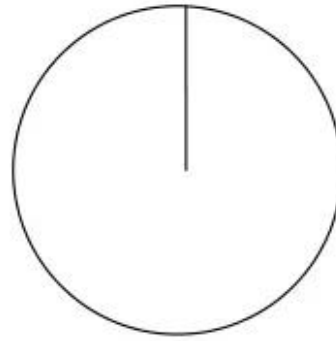
(Đơn vị: %)

Nhóm hàng	Năm 1995	Năm 2007
Hàng công nghiệp nặng và khoáng sản	25,3	32,9
Hàng công nghiệp nhẹ và tiểu thủ công nghiệp	28,5	44,5
Hàng nông, lâm, thủy sản	46,2	22,6

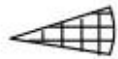
a) Vẽ biểu đồ thích hợp thể hiện sự thay đổi cơ cấu giá trị xuất khẩu hàng hoá phân theo nhóm hàng của nước ta, năm 1995 và năm 2007.



Năm 1995



Năm 2007



Hàng công nghiệp nặng và khoáng sản



Hàng công nghiệp nhẹ và tiểu thủ công nghiệp



Hàng nông, lâm, thuỷ sản

Biểu đồ cơ cấu giá trị xuất khẩu hàng hoá phân theo nhóm hàng của nước ta, năm 1995 và 2007

b) Nhận xét về các mặt hàng xuất khẩu của nước ta.

.....

.....

.....

c) Vì sao hàng công nghiệp nhẹ và tiểu thủ công nghiệp chiếm tỉ trọng cao?

.....

.....

.....