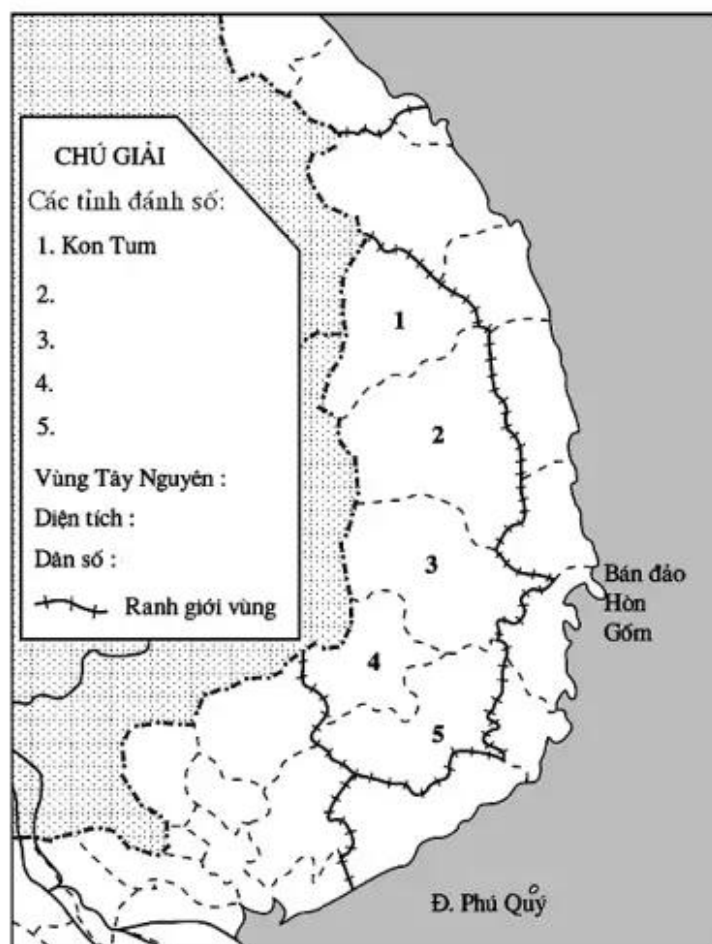


***Bài 28.* VÙNG TÂY NGUYÊN**

Câu 1. Dựa vào hình 28:



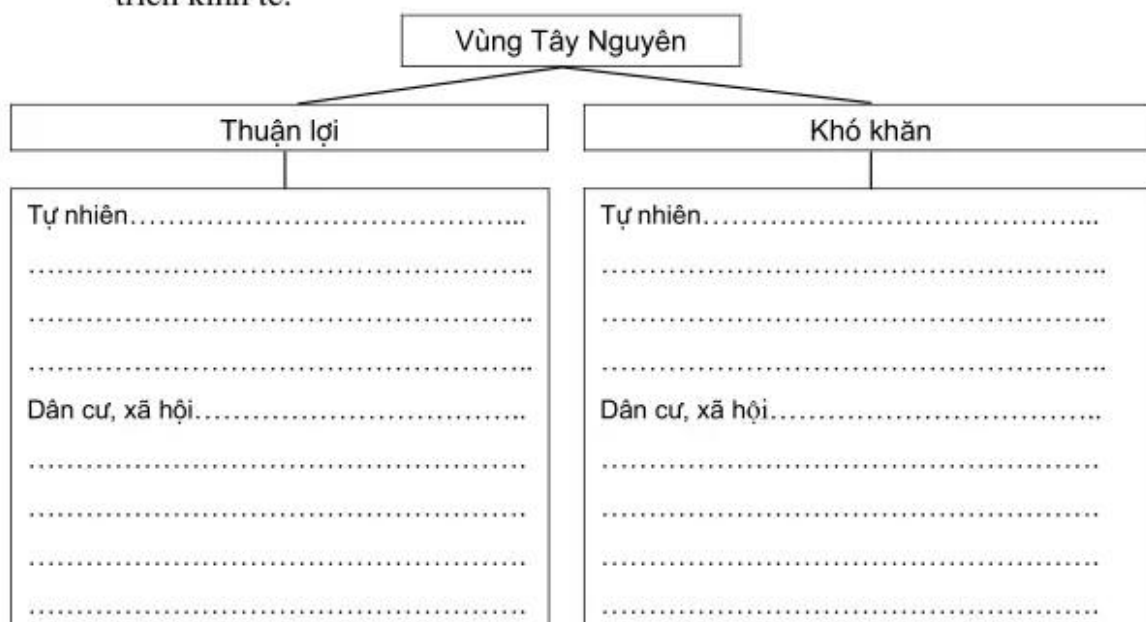
Hình 28.

Em hãy:

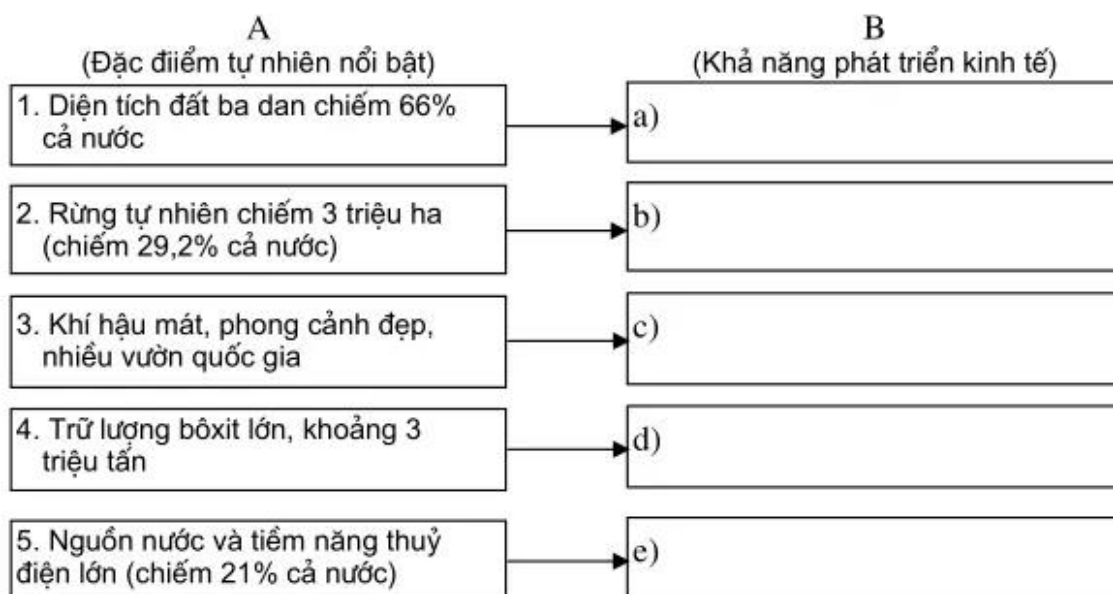
- Hoàn thành bảng chú giải.
- Ghi tên các nước, các vùng tiếp giáp với vùng Tây Nguyên.

c) Tô màu vàng vào các tỉnh vùng Tây Nguyên.

Câu 2. Hoàn thành sơ đồ dưới đây, nêu rõ thuận lợi và khó khăn về điều kiện tự nhiên và điều kiện kinh tế - xã hội của Tây Nguyên khi xây dựng và phát triển kinh tế.



Câu 3. Điền nội dung thích hợp vào các ô trống bên phải để nêu rõ thế mạnh kinh tế của điều kiện tự nhiên ở Tây Nguyên.



Câu 4. Nối ô chữ ở cột (A) với những ô chữ thích hợp ở cột (B) sao cho đúng.

A

Tỉ lệ dân thành thị ở Tây Nguyên lại cao hơn so với cả nước vì:

B

a) Tây Nguyên có trình độ phát triển kinh tế - xã hội cao hơn so với trung bình cả nước.

b) Dân cư ở Tây Nguyên tập trung chủ yếu ở đô thị và ven các trục đường giao thông.

c) Tây Nguyên là vùng dân cư tập trung đông đúc.

d) Dân tộc Kinh chiếm tới 68% dân số của vùng và phần lớn sinh sống ở các đô thị, ven đường giao thông và các nông, lâm trường.