

# ĐỊA LÍ KINH TẾ

## Bài 6. SỰ PHÁT TRIỂN NỀN KINH TẾ VIỆT NAM

Câu 1. Khoanh tròn chữ cái trước ý đúng.

- a) Sau khi đất nước thống nhất, nước ta xây dựng và phát triển kinh tế từ nền sản xuất
- A. công - nông nghiệp.                      C. nông nghiệp lạc hậu.  
B. nông - công nghiệp.                      D. công nghiệp hiện đại.
- b) Nước ta bắt đầu công cuộc Đổi mới nền kinh tế từ năm
- A. 1975.                      B. 1985.                      C. 1986.                      D. 1990.
- c) Đến nay, Việt Nam đã trở thành thành viên của các tổ chức quốc tế

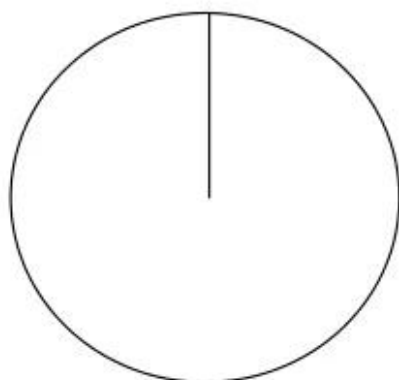
19




Bảng 6. CƠ CẤU GDP PHÂN THEO THÀNH PHẦN KINH TẾ, NĂM 2008

(Đơn vị: %)

Các thành phần kinh tế	Tổng cộng	Kinh tế Nhà nước	Kinh tế tập thể	Kinh tế tư nhân	Kinh tế cá thể	Kinh tế có vốn đầu tư nước ngoài
Tỉ lệ	100,0	35,54	5,66	10,50	29,87	18,43

a) Vẽ biểu đồ cơ cấu GDP phân theo thành phần kinh tế nước ta, năm 2008.



-  Kinh tế Nhà nước
-  Kinh tế tập thể
-  Kinh tế tư nhân
-  Kinh tế cá thể
-  Kinh tế có vốn đầu tư nước ngoài

Biểu đồ cơ cấu GDP phân theo thành phần kinh tế nước ta, năm 2008

b) Nhận xét về cơ cấu GDP phân theo thành phần kinh tế ở nước ta.

.....

.....

.....

A. APEC, ASEAN, OPEC.

C. OEDC, WTO, EEC.

B. EEC, OPEC, OEDC.

D. ASEAN, APEC, WTO.

**Câu 2.** Cho biết cơ cấu ngành kinh tế nước ta đang chuyển dịch theo xu hướng nào?

.....

.....

.....

.....

**Câu 3.** Dựa vào kiến thức đã học, hoàn thành bảng sau:

**NHỮNG THÀNH TỰU VÀ THÁCH THỨC CỦA NỀN KINH TẾ NƯỚC TA  
TRONG THỜI KÌ ĐỔI MỚI**

Thành tựu	Thách thức
.....	.....
.....	.....
.....	.....
.....	.....
.....	.....
.....	.....
.....	.....
.....	.....
.....	.....

**Câu 4.** Dựa vào hình 6.2. Lược đồ các vùng kinh tế và vùng kinh tế trọng điểm, tr. 21 SGK, hãy:

a) Kể tên các vùng kinh tế ở nước ta.

.....

.....

.....

b) Kể tên các vùng kinh tế trọng điểm của nước ta.

.....

.....

**Câu 5.** Cho bảng 6: