





# Bài 43 RỄ CÂY

1. Hãy quan sát rễ cây ở các hình dưới đây, đánh dấu x vào  trước ý đúng.

<input type="checkbox"/> Rễ cọc <input type="checkbox"/> Rễ chùm <input type="checkbox"/> Rễ phụ <input type="checkbox"/> Rễ củ 	<input type="checkbox"/> Rễ cọc <input type="checkbox"/> Rễ chùm <input type="checkbox"/> Rễ phụ <input type="checkbox"/> Rễ củ 
<input type="checkbox"/> Rễ cọc <input type="checkbox"/> Rễ chùm <input type="checkbox"/> Rễ phụ <input type="checkbox"/> Rễ củ 	<input type="checkbox"/> Rễ cọc <input type="checkbox"/> Rễ chùm <input type="checkbox"/> Rễ phụ <input type="checkbox"/> Rễ củ 

2. Viết tên từ 2 đến 3 cây có các loại rễ sau :

a) Rễ cọc - ..... - ..... - .....	b) Rễ chùm - ..... - ..... - .....
c) Rễ phụ - ..... - .....	d) Rễ củ - ..... - .....

3. Vẽ một cây có rễ củ (hoặc loại rễ khác).