



CÁC SỐ ĐẾN 20

1 a) Nối (theo mẫu).

• 11

• 12

• 13

• 14

• 15

• 16

• 17

• 18

• 19

• 20

b) Viết các số theo thứ tự từ bé đến lớn.

10, 11, 12, . . . , . . . , 15, . . . , . . . , . . . , 19, 20.

2 Viết số (theo mẫu).

Mẫu:



3 a) Viết các số còn thiếu.

b) Tô màu các ô

2, 4, 6, ..., 20.

1	2	3		5
6	7			10
11			14	
	17			

4 Nối theo thứ tự từ bé đến lớn rồi tô màu.



5

$>$	12 ... 15	20 ... 16	7 ... 12
$=$? 11 ... 8	9 ... 19	13 ... 13
$<$	17 ... 17	14 ... 20	18 ... 10

6 Tô màu số lớn nhất.

15	17	16	19	10	20
----	----	----	----	----	----

7 Tô màu số bé nhất.

18	19	10	13	11	14
----	----	----	----	----	----

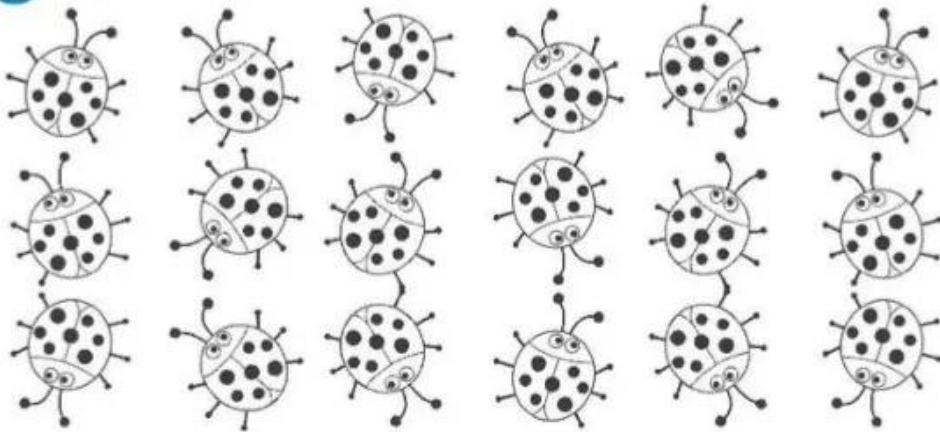
8 Viết các số sau theo thứ tự.

a) Từ bé đến lớn.


b) Từ lớn đến bé.

<div style="border: 1px solid lightblue; border-radius: 15px; padding: 10px; background-color: #e0f2f1;"> </div>	<div style="border: 1px solid lightblue; border-radius: 15px; padding: 10px; background-color: #e0f2f1;"> </div>
<div style="display: flex; justify-content: space-around; margin-top: 10px;"> <div style="border: 1px solid lightblue; width: 40px; height: 40px; margin: 5px;"></div> <div style="border: 1px solid lightblue; width: 40px; height: 40px; margin: 5px;"></div> <div style="border: 1px solid lightblue; width: 40px; height: 40px; margin: 5px;"></div> <div style="border: 1px solid lightblue; width: 40px; height: 40px; margin: 5px;"></div> </div>	<div style="display: flex; justify-content: space-around; margin-top: 10px;"> <div style="border: 1px solid lightblue; width: 40px; height: 40px; margin: 5px;"></div> <div style="border: 1px solid lightblue; width: 40px; height: 40px; margin: 5px;"></div> <div style="border: 1px solid lightblue; width: 40px; height: 40px; margin: 5px;"></div> <div style="border: 1px solid lightblue; width: 40px; height: 40px; margin: 5px;"></div> </div>

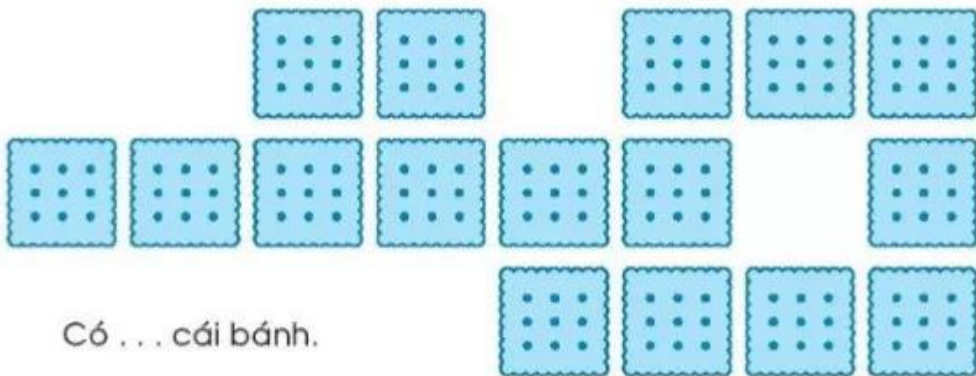
9 Tô màu 14 con bọ rùa.



10 Vẽ thêm cho đủ 17 hình tam giác.



11 Đếm rồi viết số cái bánh.



Có . . . cái bánh.

12 Có bao nhiêu con mỗi loại?

