



CÁC SỐ ĐẾN 40

1 Viết vào chỗ chấm.

Viết số	Đọc số	Viết số	Đọc số
1	một	4
11	mười bốn
...	hai mươi mốt	24	hai mươi bốn
31		hai mươi tư
5	34
...	mười lăm	
25	hai mươi hai
...	ba mươi lăm	...	bốn mươi

2 Nối theo mẫu.

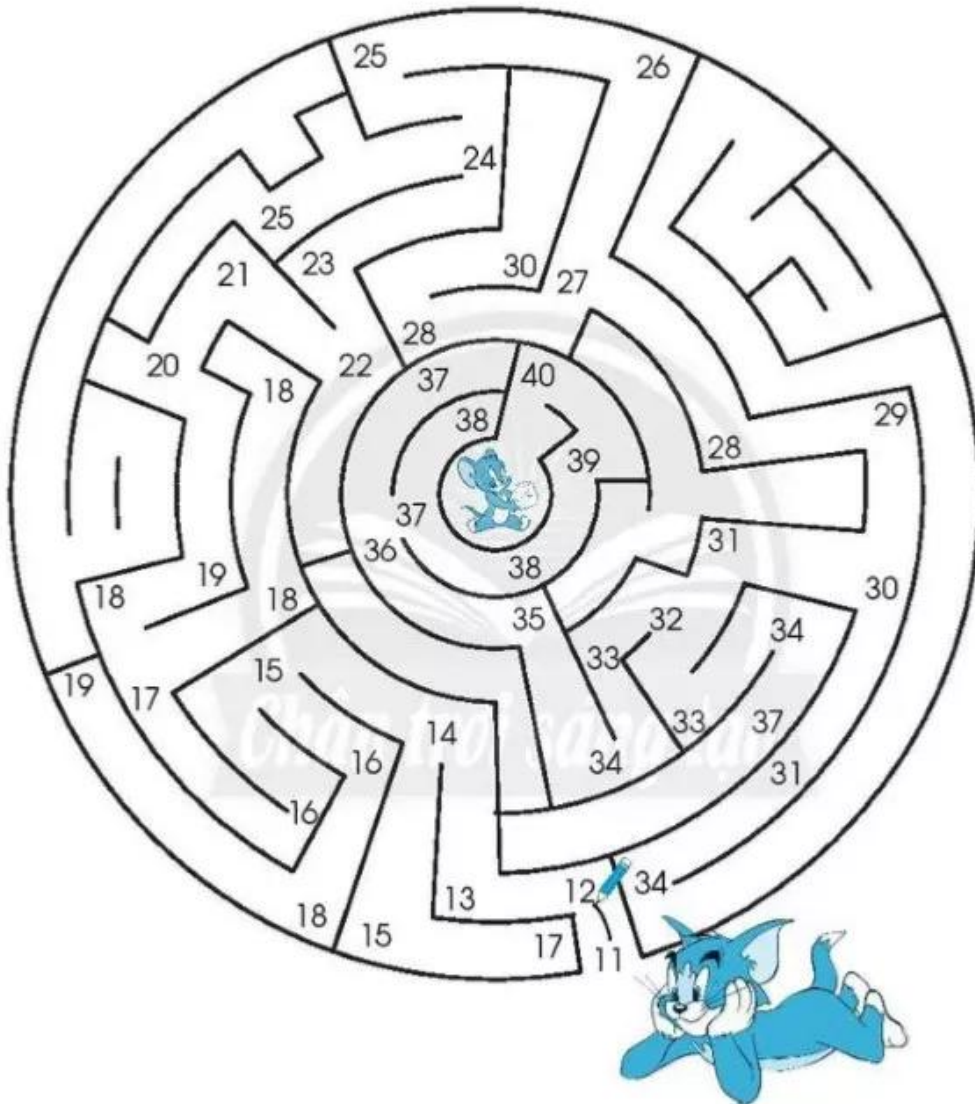
17 20 24 27 30

18 21 22 23 25 28 29

$17 < \square < 20$ $24 < \square < 27$

3 Mèo đi đường nào để tìm chuột?

Muốn biết, em tìm cách nối lần lượt các số từ 11 đến 40.



4 Đếm rồi viết số vào .

a) Có bao nhiêu cái tai thỏ?



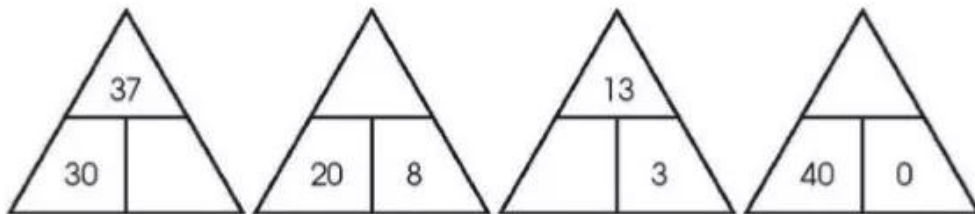
b) Có bao nhiêu viên kem?



c) Có bao nhiêu quyển sách?



5 Viết số vào sơ đồ tách - gộp số.



6 Vẽ thêm để đủ số lượng. Viết số vào chỗ chấm.

a)

34




34

$30 + 4 = \dots$

$34 - 4 = \dots$

b)

29



29

$\dots + \dots = \dots$

$\dots - \dots = \dots$