





CHỤC - SỐ TRÒN CHỤC

1. Viết các số còn thiếu rồi nối (theo mẫu).



1
chục

4
chục

3
chục

2
chục

7
chục

9
chục

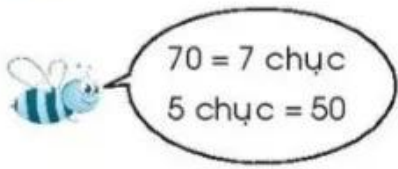
5
chục

10
chục

8
chục

6
chục

2 Viết vào chỗ chấm.



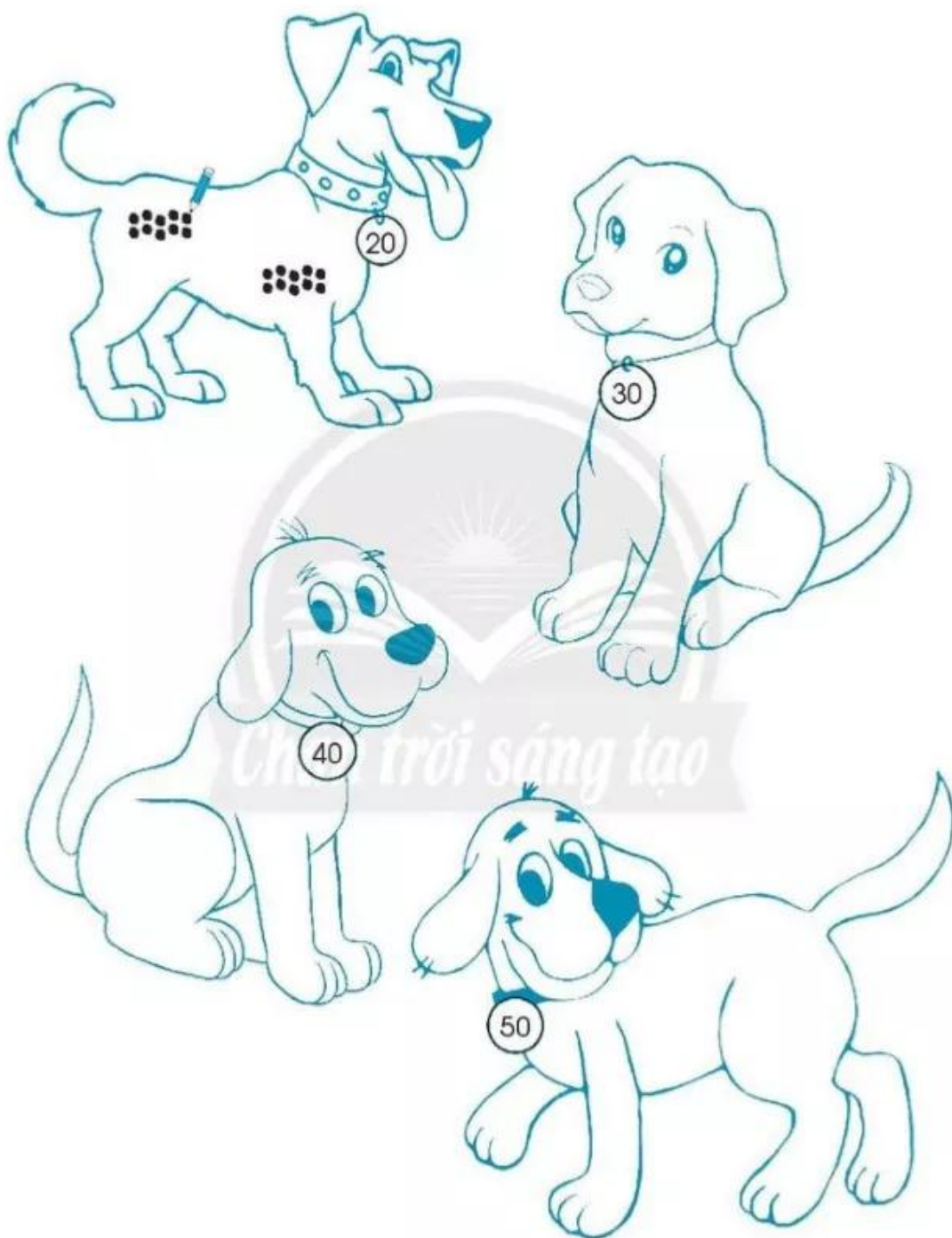
10 = 6 chục =
40 = 8 chục =
90 = 10 chục =

3 Đếm, khoanh đủ chục rồi viết số vào .

a)

b)

4 Vẽ các chấm (theo mẫu).



5 Tô màu xe mang số tròn chục.

