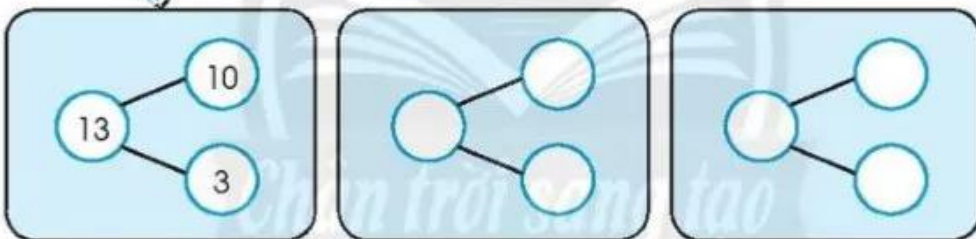
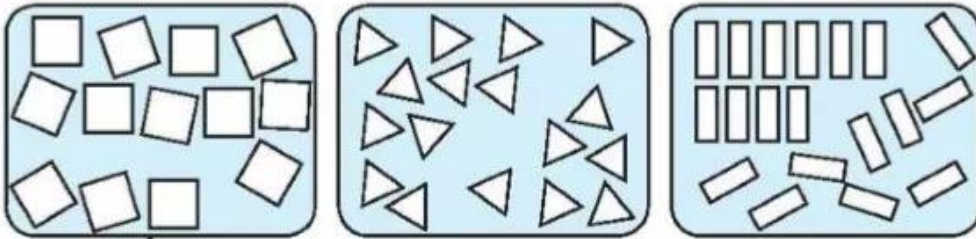




EM LÀM ĐƯỢC NHỮNG GÌ?

1 Làm theo mẫu.



$10 + 3 = 13$

$13 - 3 = 10$

$\dots + \dots = \dots$

$\dots - \dots = \dots$

$\dots + \dots = \dots$

$\dots - \dots = \dots$

2 Nối.

$16 < \square$

• $15 + 2$


• $19 - 1$

• $16 + 0$

• 20

3 Viết vào chỗ chấm (theo mẫu).


Mẫu:



Em đến trường lúc 7 giờ sáng.



Em ngủ lúc ... giờ ...



Em ra về lúc ... giờ ...



Em ăn cơm lúc ... giờ ...

4 Tô màu các hình tam giác.



5 Khoanh vào chữ cái trước ý trả lời đúng.

Hình vẽ bên có:

- A. 1 hình tam giác
- B. 2 hình tam giác
- C. 3 hình tam giác

