



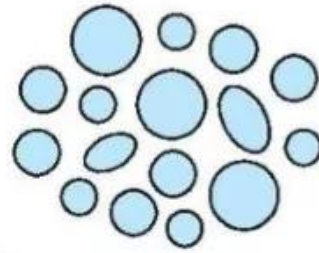
KIỂM TRA

A. TRẮC NGHIỆM

I. Khoanh vào chữ cái trước ý trả lời đúng.

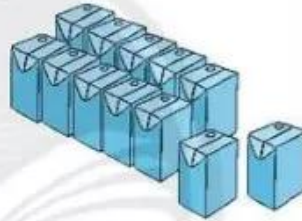
Câu 1. Có bao nhiêu hình tròn?

- A. 14
- B. 15
- C. 16

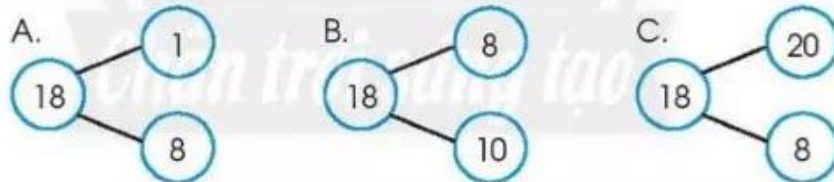


Câu 2. Có bao nhiêu hộp sữa?

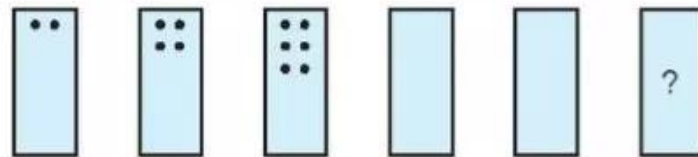
- A. 7
- B. 11
- C. 12



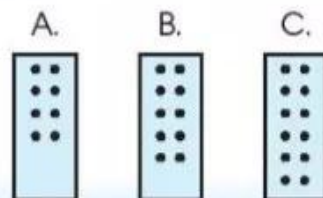
Câu 3.




Câu 4.

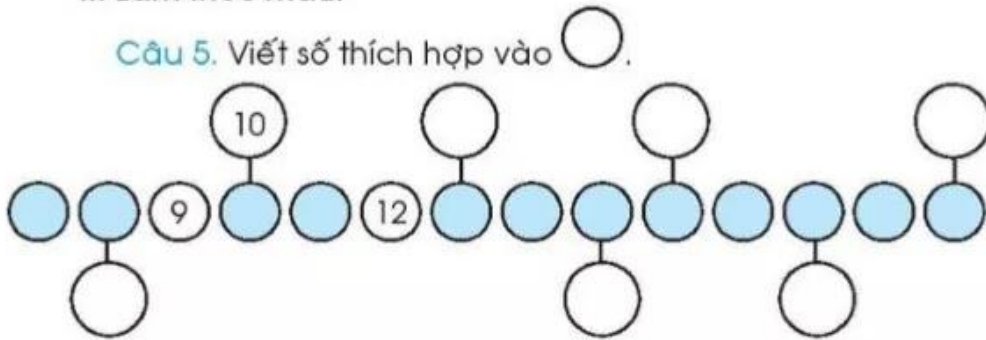


Hình cuối cùng là:



II. Làm theo mẫu.

Câu 5. Viết số thích hợp vào .



Câu 6. Nối tranh với đồng hồ thích hợp.

Buổi sáng: Đến trường.

Buổi trưa: Ăn cơm.



Buổi chiều: Học nhóm.

Buổi tối: Nghỉ ở nhà.

B. TỰ LUẬN

Câu 1.

a) Tính:

$$11 + 5 = \dots$$

$$19 - 4 = \dots$$

$$17 - 7 = \dots$$

$$6 + 10 = \dots$$

b)



$$14 - 3 \quad \square \quad 14$$

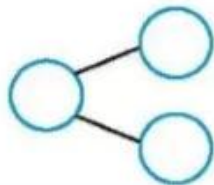
$$? \quad 14 + 3 \quad \square \quad 14$$

$$14 - 0 \quad \square \quad 14$$

Câu 2. Quan sát tranh.



a) Viết số.



b) Viết phép tính.

$$\dots + \dots = \dots$$

$$\dots - \dots = \dots$$