




ÔN TẬP CUỐI NĂM

1 Tô màu:



2 Khoanh vào chữ cái trước ý trả lời đúng.

a) Hình nào có hình vuông ở bên phải, hình tròn ở bên trái?



b) Hình vẽ bên **không** có hình nào?

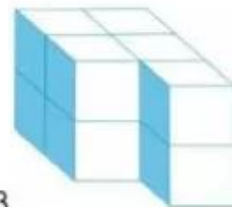
- A. Hình vuông
- B. Hình tròn
- C. Hình tam giác
- D. Hình chữ nhật



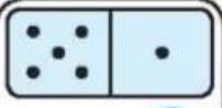
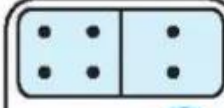

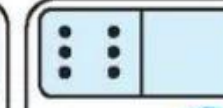
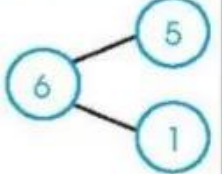
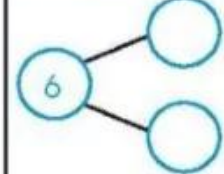
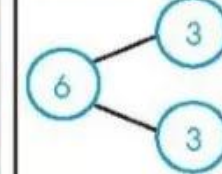
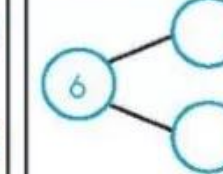
c) Thêm vào hình bên ít nhất

bao nhiêu  để được khối hộp chữ nhật?

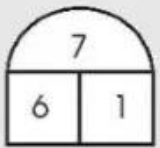
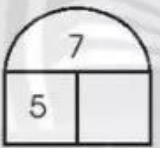
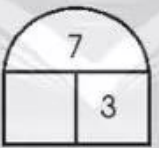

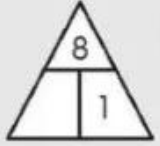


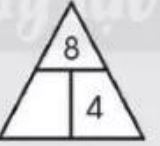
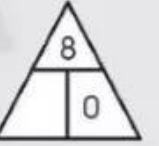
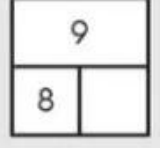
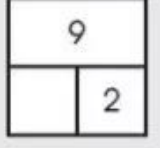
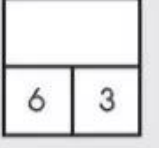
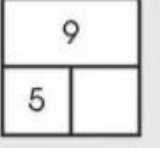
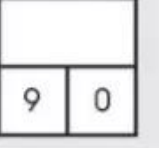
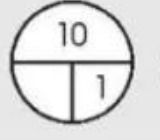
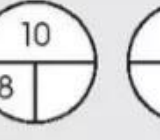
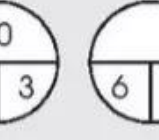
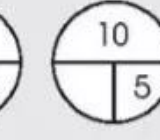


- A. 0
- B. 1
- C. 2
- D. 3



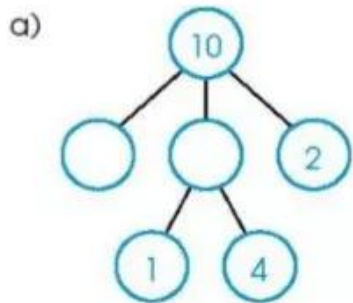
3 Làm theo mẫu.

| | | | |
|---|---|---|---|
|  |  |  |  |
|  |  |  |  |
| $5 + 1 = 6$ $1 + 5 = 6$ $6 - 1 = 5$ $6 - 5 = 1$ | <p>.....</p> <p>.....</p> <p>.....</p> <p>.....</p> | <p>.....</p> <p>.....</p> | <p>.....</p> <p>.....</p> <p>.....</p> <p>.....</p> |

4 Viết số vào ô trống.

| | | | | | |
|---|---|---|--|---|---|
|  |  |  |  | | |
|  |  |  |  |  | |
|  |  |  |  |  | |
|  |  |  |  |  |  |

5) Viết số vào ô trống.




b)

| | | | | |
|---|---|---|---|---|
| 2 | + | | = | 8 |
| + | | + | | - |
| 8 | - | | = | |
| = | | = | | = |
| | - | 8 | = | |

6) Khoanh vào chữ cái trước ý trả lời đúng.

Hình vẽ sau có bao nhiêu que diêm?

- A. 39
- B. 30
- C. 27



7 Cho biết mỗi thùng dưới đây có 10 trái (quả) dưa hấu.

A

B

C

65

80

60

67

60

0

5

7

$65 = 60 + 5$

$67 = 60 + 7$

$80 = 80 + 0$

a) Làm theo mẫu.

b) Khoanh vào câu trả lời đúng.

Hình nào có số trái dưa hấu nhiều nhất?

A

B

C

8 Làm theo mẫu.

Sáu mươi chín

68 70 73 78

$69 < \bigcirc < 72$ $81 > \bigcirc > 78$

9 Trong hình vẽ sau, bậc thang dưới có kết quả bé hơn bậc thang trên.
Viết số vào chỗ chấm.

$78 - 1 = \dots$

$78 - \dots = \dots$

$\dots + \dots = \dots$

$70 + 4 = \dots$

10

$>$
 $=$
 $<$

? $27 \dots 17$ $9 \dots 30$ $51 \dots 28$
 $61 \dots 65$ $84 \dots 4 + 80$ $99 \dots 100$

a) Tính.

b) Tô màu.

Kết quả là 47: đỏ

Kết quả là 33, 43: nâu

Kết quả là 36, 46: cam

Kết quả là 62: xanh dương nhạt

Kết quả là 35, 45, 55: vàng

Kết quả là 34, 44, 54: xanh lá

Kết quả và các số là 38, 48, 58: xanh dương đậm

- 12 Ước lượng, đo sách Toán 1 của em rồi viết số đo.



| | Ước lượng | Đo |
|------------|---------------|--------|
| Chiều dài | khoảng ... cm | ... cm |
| Chiều rộng | khoảng ... cm | ... cm |
| Chiều cao | khoảng ... cm | ... cm |

- 13 Ước lượng, đo rồi viết số đo ghế của em.



| | Ước lượng | Đo |
|------------|---------------------------|-----------------|
| Chiều dài | khoảng ... gang tay | ... gang tay |
| Chiều rộng | khoảng ... gang tay | ... gang tay |
| Chiều cao | khoảng ... gang tay | ... gang tay |

14 Hôm nay là thứ sáu, ngày 7.

Ba bạn Tuấn, Minh, Thu hẹn nhau:

9 giờ sáng ngày mai có mặt tại nhà sách.







a) Đánh dấu (✓) vào tờ lịch ngày mai.



b) Buổi sáng ở nhà sách.

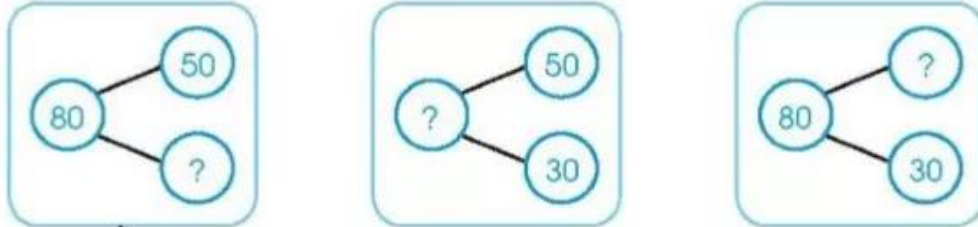
Nối đồng hồ với từ thích hợp.

Giờ có mặt

| | | | |
|---|---|---|----------------|
|  Tuấn |  | • | Đúng giờ |
|  Minh |  | • | Đến sớm |
|  Thu |  | • | Đến trễ (muộn) |

15 Nối theo mẫu.

a)

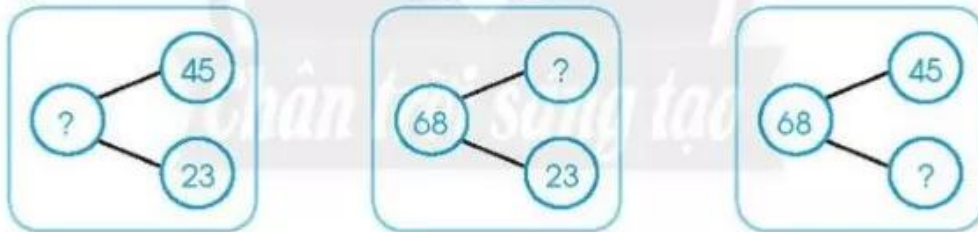


$$50 + 30 = 80$$

$$80 - 30 = 50$$

$$80 - 50 = 30$$

b)




$$68 - 45 = 23$$

$$45 + 23 = 68$$

$$68 - 23 = 45$$

16 Làm theo mẫu.



Có 10 cái bánh tròn và 5 cái bánh vuông.
Hỏi tất cả có bao nhiêu cái bánh?

$$10 + 5 = 15$$



Có tất cả 15 cái bánh vuông và tròn, trong đó có 3 cái bánh vuông.
Hỏi có bao nhiêu cái bánh tròn?

.....



Có 10 cái bánh, ăn hết 3 cái. Hỏi còn lại mấy cái bánh?

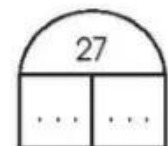


.....



Có 6 cái bánh, thêm 4 cái bánh. Hỏi tất cả có bao nhiêu cái bánh?

.....

17 Vẽ thêm để đủ 27 hình tam giác. Viết số vào chỗ chấm.



$$\dots + \dots = \dots$$

$$\dots - \dots = \dots$$