

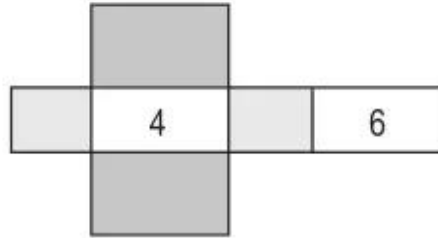
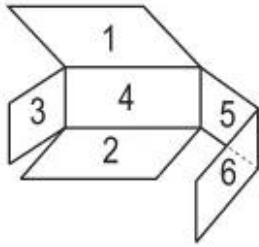
Bài 104. HÌNH HỘP CHỮ NHẬT. HÌNH LẬP PHƯƠNG

1. Viết số thích hợp vào chỗ chấm :

a) Hình hộp chữ nhật có : mặt, cạnh, đỉnh.

b) Hình lập phương có : mặt, cạnh, đỉnh.

2. Viết các số còn thiếu vào các mặt tương ứng :



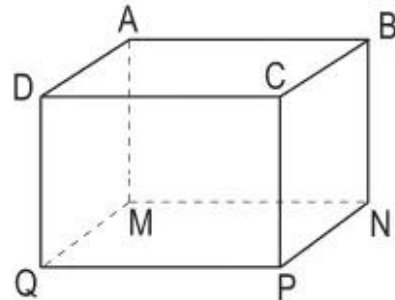
3. Cho hình hộp chữ nhật (xem hình bên).

a) Viết tiếp vào chỗ chấm cho thích hợp :

$$DQ = AM = \dots\dots = \dots\dots$$

$$AB = MN = \dots\dots = \dots\dots$$

$$AD = BC = \dots\dots = \dots\dots$$



b) Biết chiều dài 7cm, chiều rộng 4cm, chiều cao 5cm. Tính diện tích mặt đáy ABCD và các mặt bên DCPQ, AMQD.

Bài giải

.....

.....

.....

.....

.....

.....

.....

4. Ghi dấu × vào ô trống đặt dưới hình hộp chữ nhật, ghi dấu ✓ vào ô trống đặt dưới hình lập phương :

