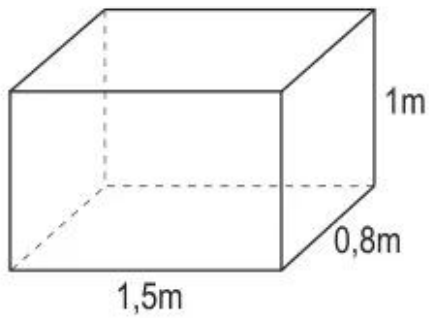


Bài 114.**THỂ TÍCH HÌNH HỘP CHỮ NHẬT**

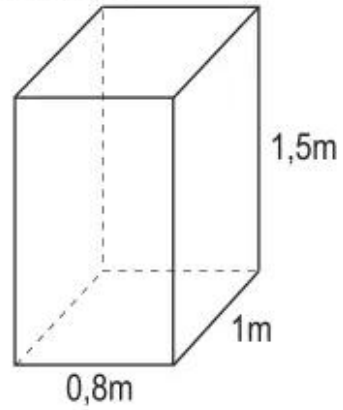
1. Viết số đo thích hợp vào ô trống :

Hình hộp chữ nhật	(1)	(2)	(3)
Chiều dài	6cm	2,5m	$\frac{3}{4}$ dm
Chiều rộng	4cm	1,8m	$\frac{1}{3}$ dm
Chiều cao	5cm	1,1m	$\frac{2}{5}$ dm
Thể tích			

2. Tính rồi so sánh thể tích của hai hình hộp chữ nhật dưới đây :



A



B

Bài giải

.....

.....

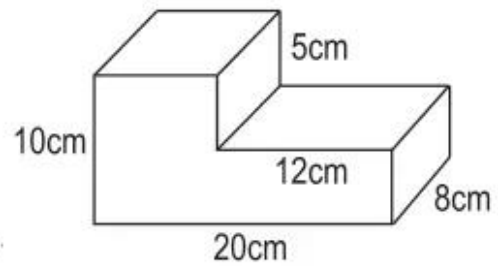
.....

.....

.....

3. Tính thể tích của khối gỗ có dạng như hình bên :

Bài giải



.....

.....

.....

.....

.....

.....

.....

.....

.....

.....