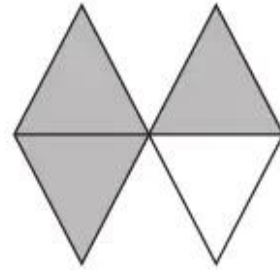
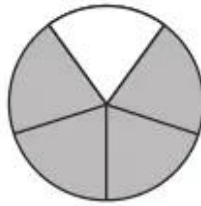



Bài 140.

ÔN TẬP VỀ PHÂN SỐ

1. Viết phân số chỉ phần đã tô đậm của mỗi hình vẽ dưới đây vào chỗ chấm :




.....

.....

.....

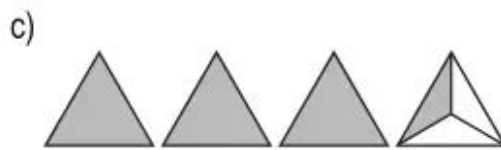
2. Viết hỗn số chỉ phần đã tô đậm của mỗi nhóm hình vẽ dưới đây vào chỗ chấm :



.....



.....



.....



.....

3. Rút gọn phân số (theo mẫu) :

a) $\frac{4}{8} = \frac{4 : 4}{8 : 4} = \frac{1}{2}$

b) $\frac{12}{18} = \text{---} = \text{---}$

c) $\frac{15}{35} = \text{---} = \text{---}$

d) $\frac{9}{12} = \text{---} = \text{---}$

4. Quy đồng mẫu số các phân số :

a) $\frac{2}{3}$ và $\frac{4}{5}$ MSC : $3 \times 5 = 15$

b) $\frac{3}{4}$ và $\frac{2}{7}$ MSC :

$\frac{2}{3} = \frac{2 \times \dots}{3 \times \dots} = \text{---}$

$\frac{3}{4} = \text{---} = \text{---}$

$\frac{4}{5} = \frac{4 \times \dots}{5 \times \dots} = \text{---}$

$\frac{2}{7} = \text{---} = \text{---}$

c) $\frac{7}{10}$ và $\frac{17}{20}$ MSC :

d) $\frac{2}{3}$; $\frac{5}{4}$ và $\frac{7}{12}$ MSC :

.....

$\frac{2}{3} = \text{---} = \text{---}$

.....

$\frac{5}{4} = \text{---} = \text{---}$

.....

Lưu ý : MSC là chữ viết tắt của "mẫu số chung".

5.



?

$\frac{5}{14} \dots \frac{9}{14}$;

$\frac{8}{12} \dots \frac{2}{3}$;

$\frac{9}{10} \dots \frac{9}{14}$.

6. Viết phân số thích hợp vào chỗ chấm chỉ vạch ở giữa $\frac{1}{4}$ và $\frac{2}{4}$ trên tia số :

