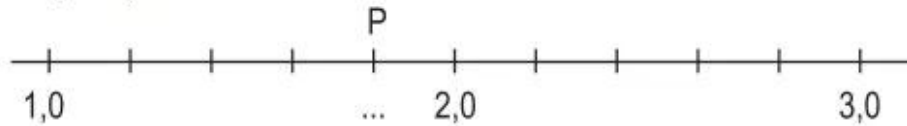


Bài 175.**TỰ KIỂM TRA**

Phần 1 : Khoanh vào chữ đặt trước câu trả lời đúng :

1. Cho một đoạn của tia số :



Số thập phân thích hợp để viết vào chỗ chấm ngay dưới điểm P là :


- A. 1,9 B. 2,1 C. 1,8 D. 1,2

2. Số nào dưới đây có cùng giá trị với 0,500 ?

- A. 0,5 B. 0,05
C. 0,005 D. 5,0

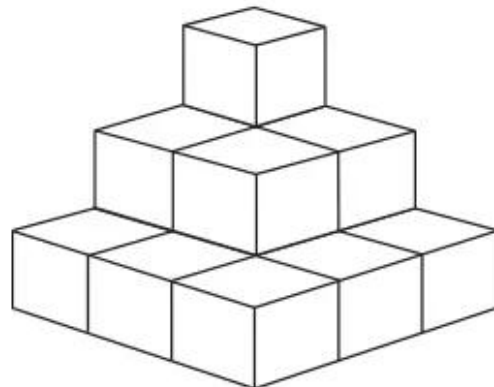
3. Số thập phân nào dưới đây chỉ phần đã tô đậm của hình vuông bên ?

- A. 27,0 B. 2,7
C. 0,27 D. 0,027



4. Có bao nhiêu hình lập phương trong tháp vẽ bên ?

- A. 9
B. 10
C. 14
D. 21



5. Một đội bóng rổ đã thi đấu 20 trận, thắng 12 trận. Như thế tỉ số phần trăm các trận thắng của đội bóng đó là :

- A. 12% B. 32%
C. 40% D. 60%

Phần 2

1. Đặt tính rồi tính :

a) $24,206 + 38,497$

.....
.....
.....

b) $85,34 - 46,29$

.....
.....
.....

c) $40,5 \times 5,3$

.....
.....
.....
.....
.....

d) $28,32 : 8$

.....
.....
.....
.....

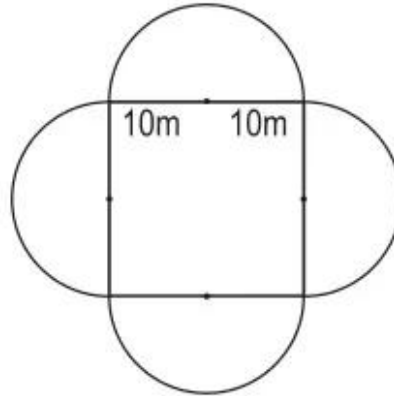
2. Một ô tô đi từ tỉnh A lúc 7 giờ và đến tỉnh B lúc 10 giờ 35 phút. Ô tô đi với vận tốc 44 km/giờ và nghỉ ở dọc đường mất 20 phút. Tính quãng đường AB.

Bài giải

.....
.....
.....
.....
.....
.....
.....
.....

3. Viết kết quả tính vào chỗ chấm :

Một mảnh đất gồm bốn nửa hình tròn và một hình vuông có kích thước ghi trên hình vẽ dưới đây :



a) Diện tích của mảnh đất là :

b) Chu vi của mảnh đất là :

VỞ BÀI TẬP TOÁN 5 - TẬP HAI

Mã số : 1B513T3

In : bản ; khổ 17×24 cm ; tại

Số in : Số xuất bản : 01-2013/CXB/601-1135/GD.

In xong và nộp lưu chiểu tháng ... năm 2013.