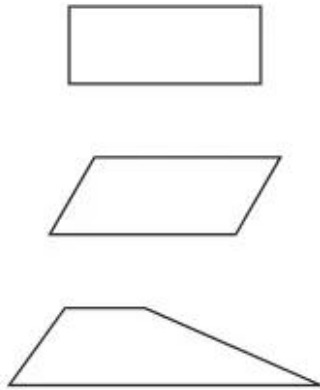


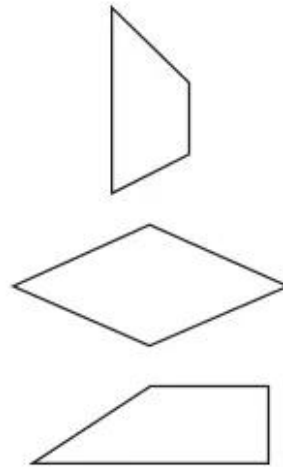
Bài 90.

HÌNH THANG

1. Nối mỗi hình với tên gọi tương ứng :



Hình bình hành
Hình chữ nhật
Hình thoi
Hình thang



2. Cho các hình sau :



A



B



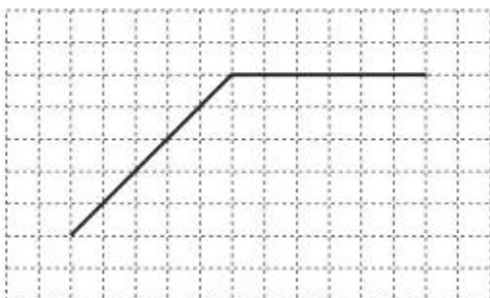
C

Hãy viết "có" hoặc "không" thích hợp vào ô trống :

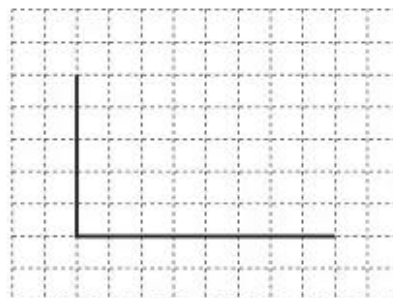
Hình	A	B	C
Đặc điểm			
Có bốn cạnh và bốn góc			
Có hai cặp cạnh đối diện song song			
Chỉ có một cặp cạnh đối diện song song			
Có bốn góc vuông			

3. Vẽ thêm hai đoạn thẳng vào mỗi hình sau để được :

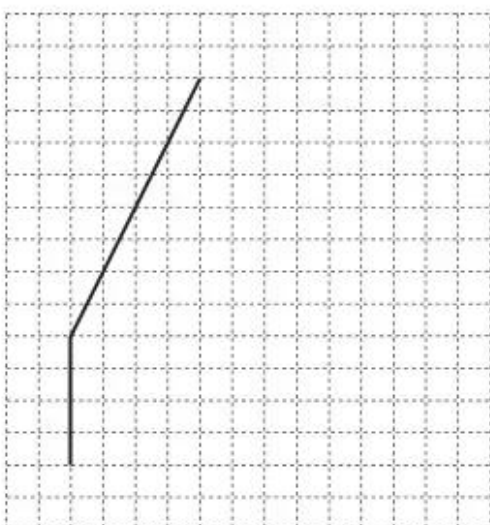
a) Hình thang



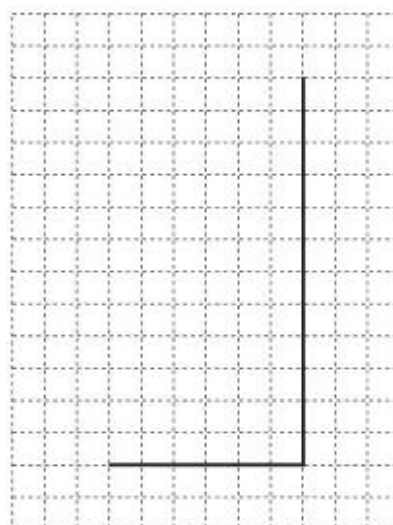
b) Hình chữ nhật



c) Hình thang

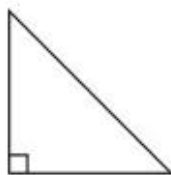


d) Hình chữ nhật



4. Khoanh vào chữ đặt trước câu trả lời đúng :

Cho các hình :



\mathcal{M}



\mathcal{N}

Số hình \mathcal{M} cần thiết để ghép được hình \mathcal{N} là :

A. 3

B. 4

C. 5

D. 6