


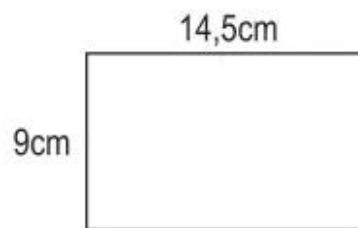
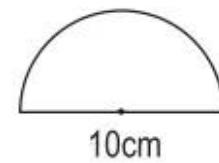
Bài 96.**LUYỆN TẬP**

1. Viết số đo thích hợp vào ô trống :

Hình tròn	(1)	(2)	(3)
Bán kính	18cm	40,4dm	1,5m
Chu vi			

11

4. Tìm các hình có chu vi bằng nhau trong các hình sau :

*A**B**C*

.....

.....

.....

.....

2. a) Chu vi của một hình tròn là 3,14m. Tính đường kính của hình tròn.
b) Chu vi của một hình tròn là 188,4cm. Tính bán kính của hình tròn.

Bài giải

.....
.....
.....
.....
.....
.....

3. Đường kính của một bánh xe ô tô là 0,8m.
a) Tính chu vi của bánh xe đó.
b) Ô tô đó sẽ đi được bao nhiêu mét nếu bánh xe lăn trên mặt đất được 10 vòng ;
được 200 vòng ; được 1000 vòng ?

Bài giải

.....
.....
.....
.....
.....
.....
.....
.....
.....
.....