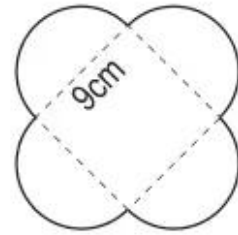


Bài 99.

LUYỆN TẬP CHUNG

1. Tính độ dài của sợi dây thép dùng để uốn thành bông hoa như hình bên.



Bài giải

.....

.....

.....

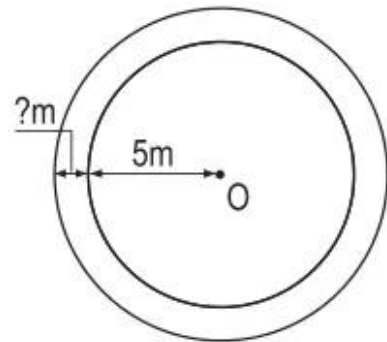
.....

.....

.....

.....

2. Hai hình tròn có cùng tâm O như hình bên. Hình tròn bé có bán kính 5m. Chu vi của hình tròn lớn là 40,82m. Hỏi bán kính hình tròn lớn dài hơn bán kính hình tròn bé bao nhiêu mét ?



Bài giải

.....

.....

.....

.....

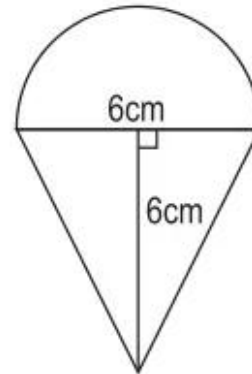
.....

3. Khoanh vào chữ đặt trước câu trả lời đúng :

Hình bên được tạo bởi nửa hình tròn và một hình tam giác.

Diện tích hình bên là :

- A. $46,26\text{cm}^2$
- B. $50,13\text{cm}^2$
- C. $28,26\text{cm}^2$
- D. $32,13\text{cm}^2$



4. Khoanh vào chữ đặt trước câu trả lời đúng :

Diện tích phần đã tô đậm của hình vuông là :

- A. 243cm^2
- B. 126cm^2
- C. 314cm^2
- D. 86cm^2

