


## BÀI 10. QUÁ TRÌNH NỘI SINH VÀ NGOẠI SINH. CÁC DẠNG ĐỊA HÌNH CHÍNH. KHOÁNG SẢN

**Câu 1. Điền các thông tin còn thiếu vào bảng sau:**

	Quá trình nội sinh	Quá trình ngoại sinh
Nguyên nhân	..... ..... ..... .....	..... ..... ..... .....
Hệ quả	..... ..... ..... .....	..... ..... ..... .....

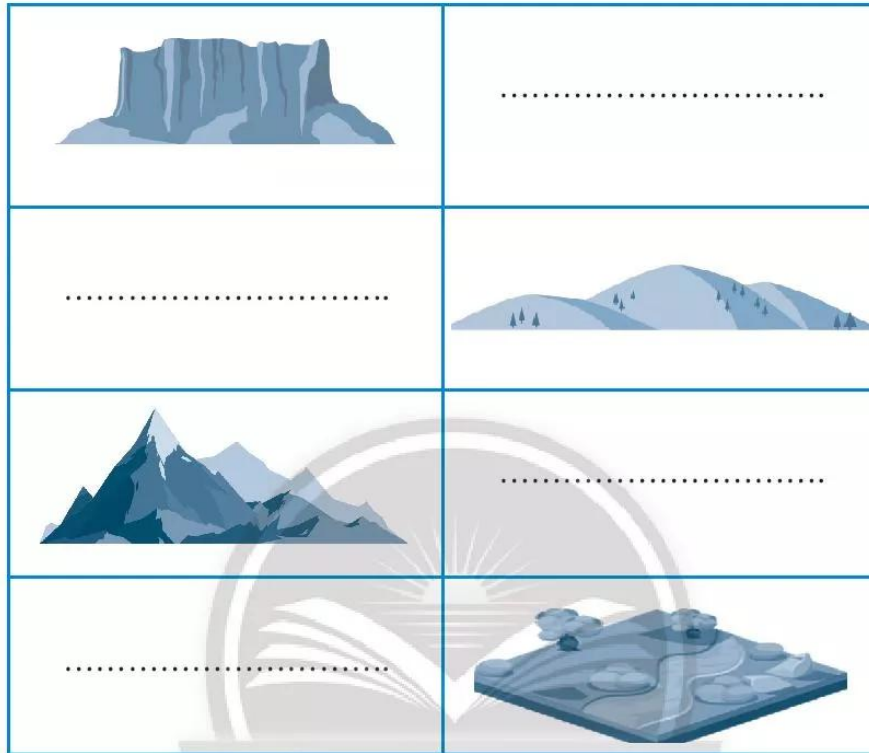
**Câu 2. Điền các thông tin còn thiếu vào sơ đồ bên dưới.**

ngoại sinh	nội sinh	mưa
magma	núi lửa	động đất



Hình 10.1. Quá trình nội sinh và ngoại sinh

**Câu 3. Hãy ghi tên thích hợp cho các dạng địa hình sau:**



Hình 10.2. Các dạng địa hình trên Trái Đất

**Câu 4. Cho đoạn văn sau:**

Một đoàn leo núi chinh phục đỉnh Phan-xi-păng cao 3 143 m so với mực nước biển trong hành trình hai ngày, một đêm. Ngày đầu tiên, đoàn cắm trại nghỉ qua đêm ở điểm thứ nhất có độ cao 2 800 m. Sau khi lên đến đỉnh vào ngày hôm sau, đoàn quay về và nghỉ chân tại điểm thứ hai có độ cao 2 200 m trước khi xuống núi.

Dựa vào nội dung đoạn văn và kiến thức đã học, em hãy tính:

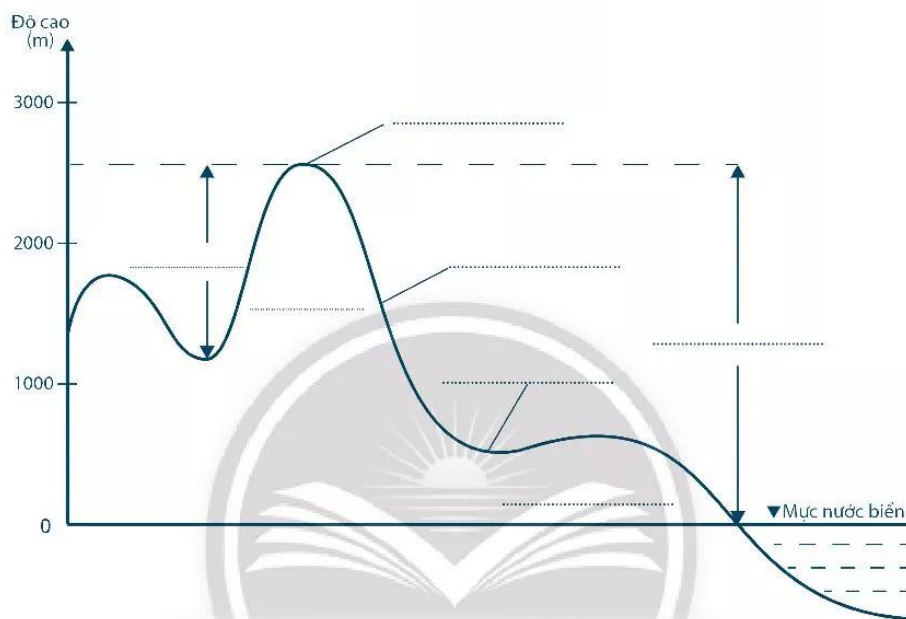
Độ cao tuyệt đối của đỉnh Phan-xi-păng: ..... m

Độ cao tương đối của đỉnh Phan-xi-păng với điểm thứ nhất: ..... m

Độ cao tương đối của đỉnh Phan-xi-păng với điểm thứ hai: ..... m

**Câu 5. Hãy chọn những từ sau đây điền vào các vị trí tương ứng trong hình 10.3.**

độ cao tương đối      đỉnh núi      độ cao tuyệt đối      sườn núi  
núi cao      chân núi      núi trung bình      núi thấp      hẻm vực



Hình 10.3. Độ cao địa hình

**Câu 6. Hãy khoanh tròn chữ cái ứng với ý đúng.**

- Vùng đồi nằm ở vị trí
  - chuyển tiếp giữa núi và đồng bằng.
  - trong vùng núi.
  - giữa các cao nguyên.
  - giữa vùng đồng bằng.
- Hãy tìm từ thể hiện tên một đồng bằng ở nước ta
 

A. sông Hồng.	B. sông Xê Xan.
C. sông Đà.	D. sông Hằng.

**Câu 7. Sắp xếp lại trật tự các từ trong bảng cho phù hợp.**

Khoáng sản	Phân loại	Công dụng
Vàng	Phi kim loại	Vật liệu xây dựng
Đá vôi	Kim loại	Chất đốt
Than đá	Năng lượng	Trang sức

Khoáng sản	Phân loại	Công dụng
Vàng	.....	.....
Đá vôi	.....	.....
Than đá	.....	.....

**Câu 8. Điền thông tin còn thiếu vào chỗ trống; kết nối các ý A, B, C, D sao cho phù hợp và viết lại thành câu.**

- A. Là những mỏ hình thành do hoạt động..... được đưa lên gần mặt đất.
- B. Mỏ .....
- C. Là những mỏ được hình thành trong quá trình tích tụ ..... ở những chỗ trũng.
- D. Mỏ .....



.....

.....

.....

.....