




Bài 20. SINH VẬT VÀ SỰ PHÂN BỐ CÁC ĐỚI THIÊN NHIÊN. RỪNG NHIỆT ĐỚI

Câu 1. Ghép cặp các loài thực vật ở cột A với đới thiên nhiên ở cột B sao cho phù hợp.

A. Thực vật	B. Đới thiên nhiên
1. Rừng lá kim 	a. Đới nóng
2. Đài nguyên 	b. Đới ôn hoà
3. Rừng nhiệt đới 	c. Đới lạnh

Câu 2. Dựa vào các hình ảnh sau, em hãy phân chia và điền một số loài động vật theo môi trường trên cạn và dưới nước vào bảng.



Hình 20.1. Một số loài động vật trên cạn và dưới nước

	Môi trường trên cạn	Môi trường dưới nước
Các loài động vật

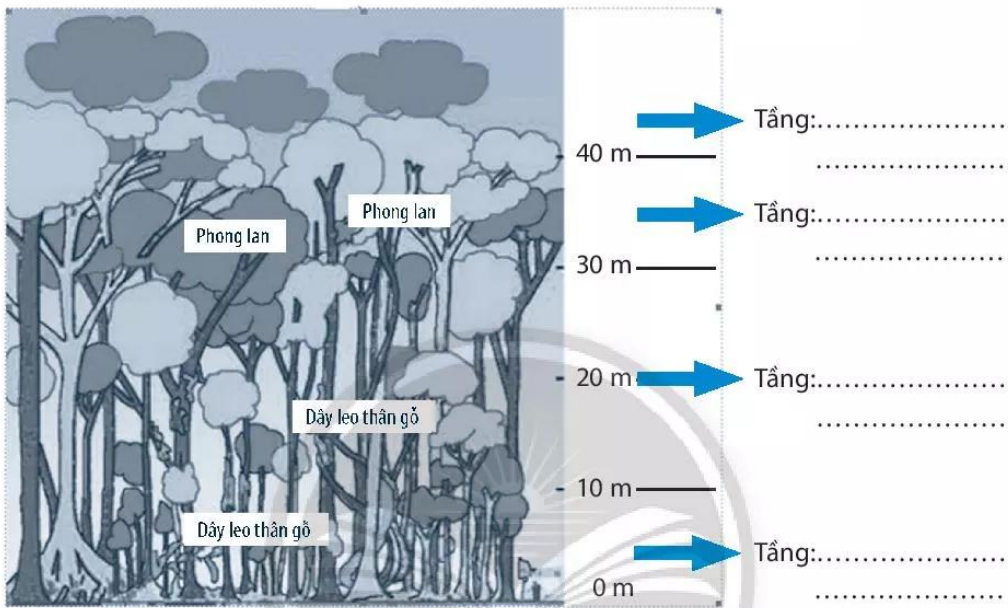
Câu 3. Dựa vào hình 20.3 và thông tin trong SGK, em hãy nêu một số đặc điểm của các đới thiên nhiên trên thế giới và kể tên các châu lục thuộc đới thiên nhiên đó.

Đới thiên nhiên	Đặc điểm	Châu lục
Đới nóng <i>Chân trời sáng tạo</i>
Đới ôn hoà
Đới lạnh

Câu 4. Dựa vào thông tin trong SGK, ghép cặp rừng nhiệt đới ở cột A với các quốc gia ở cột B sao cho phù hợp:

A. Rừng nhiệt đới	B. Quốc gia
<p>1. Rừng Công-gô (Congo)</p> 	<p>a. Bra-xin</p>
<p>2. Rừng Nam Cát Tiên</p> 	<p>b. Cộng hoà dân chủ Công-gô</p>
<p>3. Rừng A-ma-dôn (Amazon)</p> 	<p>c. Ê-cu-a-đo (Ecuador)</p>
<p>4. Rừng Min-đô Nam-bi-lô (Mindô – Nambillo)</p> 	<p>d. Việt Nam</p>

Câu 5. Dựa vào hình 20.4 trong SGK và hình 20.2, em hãy điền tên các tầng của rừng nhiệt đới và loài thực vật đặc trưng ở mỗi tầng.



Hình 20.2. Cấu trúc tầng ở rừng nhiệt đới

Chân trời sáng tạo