


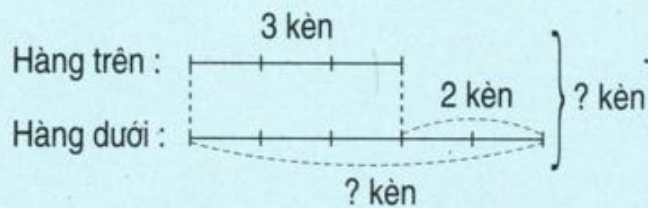


BÀI TOÁN GIẢI BẰNG HAI PHÉP TÍNH

Bài toán 1 : Hàng trên có 3 cái kèn, hàng dưới có nhiều hơn hàng trên 2 cái kèn. Hỏi :

- Hàng dưới có mấy cái kèn ?
- Cả hai hàng có mấy cái kèn ?

Tóm tắt



Bài giải

a) Số kèn ở hàng dưới là :

$$3 + 2 = 5 \text{ (cái)}$$

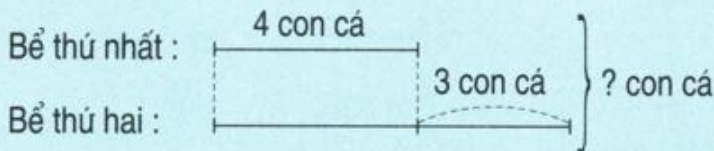
b) Số kèn ở cả hai hàng là :

$$3 + 5 = 8 \text{ (cái)}$$

Đáp số : a) 5 cái kèn
b) 8 cái kèn.

Bài toán 2 : Bể thứ nhất có 4 con cá, bể thứ hai có nhiều hơn bể thứ nhất 3 con cá. Hỏi cả hai bể có bao nhiêu con cá ?

Tóm tắt



Bài giải

Số cá ở bể thứ hai là :

$$4 + 3 = 7 \text{ (con)}$$

Số cá ở cả hai bể là :

$$4 + 7 = 11 \text{ (con)}$$

Đáp số : 11 con cá.

- Anh có 15 tấm bưu ảnh, em có ít hơn anh 7 tấm bưu ảnh. Hỏi cả hai anh em có bao nhiêu tấm bưu ảnh ?
- Thùng thứ nhất đựng 18l dầu, thùng thứ hai đựng nhiều hơn thùng thứ nhất 6l dầu. Hỏi cả hai thùng đựng bao nhiêu lít dầu ?
- Nêu bài toán theo tóm tắt sau rồi giải bài toán đó :

